

Bir kenarı 3 cm olan iki kare çizin.
Köşegenlerini çizin.

Kısa kenarı 2 cm, uzun kenarı 4 cm olan iki
dikdörtgen çizin. Köşegenlerini çizin.

Bütün kenarları 3 cm olan bir üçgen çizin.

İki kenar uzunlukları eşit olan bir üçgen çizin.

Bütün kenarları eşit bir beşgen çizin.

Bir kenarı 4 cm olan iki kare çizin.
Köşegenlerini çizin.

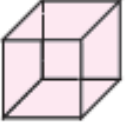
Kısa kenarı 3 cm, uzun kenarı 1 cm fazlası
olan bir dikdörtgen çizin. Köşegenlerini çizin

Bütün kenar uzunlukları farklı olan bir üçgen
çizin.

Uzun kenarı kısa kenarın iki katı olan bir
dikdörtgen çizip köşegenlerini çizin.

Bütün kenarları eşit bir altıgen çizin.

Verilen geometrik cisimlerin açılımlarını yanlarına çizip, geometrik şekillerin adlarını yazın.



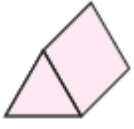
--

.....
.....
.....



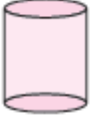
--

.....
.....
.....



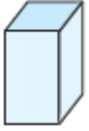
--

.....
.....
.....



--

.....
.....
.....



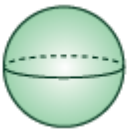
--

.....
.....
.....



--

.....
.....
.....



--

.....
.....
.....

Mahmut ÇÜRÜK

MAHMUT ÇÜRÜK ÇALIŞMALARI