




TOPLAMA PROBLEMLERİ

@gunes_ogretmenle_etkinlikler



1) Bir kalemlikte 8 mavi, 7 kırmızı kalem var. Kalemlikte toplam kaçkalem var?

2) Bahçemizde 6 kiraz, 9 erik ağacı var. Bahçemizde toplam kaç ağaç var?



3) Bir hikaye kitabının dün 13 sayfasını bugün 7 sayfasını okudum.
Toplam kaç sayfa okudum?



4) Taner 5 yaşında ,Mustafa 11 yaşındadır. İksinin yaşları toplamı kaçtır?

5) Parkta 10 çocuk oynuyordu. 5 çocuk daha geldi. Parkta toplam kaç çocuk oldu?

6) Tabakta 11 ceviz var. 6 ceviz daha koyduk . Kaç ceviz oldu?



7) Ben 7 yaşındayım. Ağabeyim benden 8 yaş büyüktür. Ağabeyim kaç yaşındadır?

8) Cihan'ın 10 lirası , Selim'in 9 lirası var. İki arkadaş paralarını birleştirdiler. Kaç liraları oldu?

9) Emir 9 yeşil, Gökalp'in 9 mavi balonu var. İksinin toplam kaç balonu var?

10) Bir iptе 10 pembe, 9 mor boncuk var. Bu iptе toplam kaç boncuk var?






1) Annem 18 yumurtanın 3'ünü kek yaparken kullandı. Geriye kaç yumurta kaldı?

2) 10 balondan 7 tanesi patladı. Geriye kaç balon kaldı?




3) 15 misketim var. 6 tanesini arkadaşşıma verdim. Kaç misketim kaldı?

4) Bir tabakta bulunan 16 yumurtanın 8'i kırıldı. Geriye kaç yumurta kaldı?




5) 17cm 'lik bir kurdelenin 8cm'sini kullandım. Geriye kaç cm 'lik kurdele kaldı?



6) 20 sayfalık defterimin 8 sayfasını kullandım. Geriye kaç sayfa kaldı?

7) Benim yaşım 19'dur. Kardeşim benden 9 yaş küçüktür. Kardeşim kaç yaşındadır?

8) 20 sayısının 10 eksiği kaçtır?




9) 12 boya kalemin 8 tanesi mavidir geriye kalan sarı renklidir. Sarı renkli boya kaleminin sayısı kaçtır?



10) 18 sayfalık hikaye kitabının 13 sayfasını okudum. Geriye okunacak kaç sayfa kaldı?





KARIŞIK PROBLEMLERİ



@gunes_ogretmenle_etkinlikler

1) Bir servisteki 20 öğrencinin 11 kız geriye kalan erkektir. Erkek öğrencilerin sayısı kaçtır?

2) Ahmet'in 18 lirası vardır. Erdem'in , Ahmet'ten 5 lira daha az parası var. Erdem'in kaç lirası var?

3) 16 sayısının 4 fazlası kaçtır?




4) Cebimdeki paranın 12 lirası ile top aldım. Cebimde 8 lira para kaldığına göre harcamadan önce cebimde kaç lira vardı?

5) $\square + 8 = 13$ işleminde verilmeyen toplanan kaçtır?



6) İrem ile Zeynep'in yaşları toplamı 14'tür. İrem 8 yaşında olduğuna göre zeynep kaç yaşındadır?

7) Ada 7 yaşındadır. Ada kaç yıl sonra 14 yaşında olur?



8) Bir hikaye kitabının önce 8 sayfasını sonra 12 sayfasını okudum. Toplam kaç sayfa okudum?

9) Asya 13 ,Sena 10 tane problem çözdü. Asya , Sena'dan kaç fazla soru çözdü?

10) Ayşe 11yaşında ,Dipse 7 yaşındadır. Ayşe ,Dipse'den kaç yaş büyüktür?

