



KÜÇÜK FIDAN

Küçük fidan, bu bahar çok heyecanlıydı. Çünkü dallarında çiçekler açmıştı. Şaşkınlıkla çiçeklerine baktı. Tek tek bütün çiçeklerini saydı.

“Yaşasın, artık meyve vereceğim!” dedi. Aklına çocuklar geldi, artık onu daha çok seveceklerdi...

Ömer USLU

1 ve 2. soruyu yukarıdaki metne göre cevaplayalım.

1. Küçük fidan, neden heyecanlıymış?

- A) Yağmur yağmış.
B) Arkadaşları gelecekmiş.
C) Çiçek açmış.

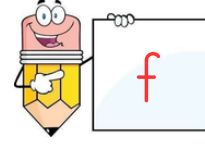
2. Küçük fidanın aklına kimler gelmiş?

- A) Ailesi
B) Çocuklar
C) Meyveler

3. Alfabemizde kaç harf vardır?

- A) 19
B) 28
C) 29

4.



Verilen harften önce ve sonra sırasıyla hangi harfler gelir?

- A) e-g
B) d-e
C) ğ-d


5.



Yukarıdaki görselin adında kaç tane ünlü harf vardır?

- A) 9
B) 4
C) 3





6. "domates" sözcüğünü hecelerine ayırdığımızda kırmızı vagona hangisi yazılır?


- A) dom B) mat C) ma

7. Hangi cümlenin sonuna yanlış noktalama işareti konulmuştur?

- A) Öğretmenimiz gelmedi mi?
B) Öğretmenimiz geldi.
C) Eyvah, öğretmenimiz düştü.

8. Hangi sözcük satır sonunda hecelerine yanlış ayrılmıştır?

- A)o-
yuncak
- B)kalem-
lik
- C)ke-
lebek



9. Yukarıdaki limonlar kaç onluk, kaç birlikten oluşur?

- A) 1 onluk, 7 birlik
B) 8 birlik, 1 onluk
C) 1 onluk, 9 birlik



10. Sepetteki havuçların iki tanesini yersek havuç sayısı ne olur?

- A) azalır B) artar
C) değişmez






11. $8 + \text{●} = 12$
 $\text{●} + 9 = 14$
 Buna göre, $\text{●} + \text{●}$ işleminin sonucu kaçtır?
 A) 9 B) 10 C) 11

12.
$$\begin{array}{r} 9 \\ - 3 \\ \hline 6 \end{array}$$

 "9" → ?
 "3" → Çıkan
 "6" → Fark
 "?" yerine ne yazılmalıdır?
 A) Eksilen B) Toplanan
 C) Kalan

13. Cebimdeki 19 liranın 7 lirası ile su aldım. Kaç liram kaldı?
 A) 13 B) 12
 C) 14

14. Hangi işlemin sonucu yanlıştır?
 A) $9 + 5 = 14$
 B) $8 + 7 = 15$
 C) $9 + 8 = 16$



15. Yukarıdaki zürafaları en uzundan en kısaya doğru sıralayıp, harflerini okursak hangi kelimeye ulaşırız?
 A) SIRA B) ASIR
 C) SARI





16.

- A) İstanbul B) Ankara
C) Antalya



17.

Aşağıdaki bilgilerden hangisi yanlıştır?

- A) Güneş, Ay'dan küçüktür.
B) Ay, Dünya'dan küçüktür.
C) Güneş, Dünya'dan büyüktür.

18. Aşağıdakilerden hangisi milli bayramlarımızdan biridir?

- A) Cumhuriyet Bayramı
B) Ramazan Bayramı
C) Kurban Bayramı

19. Aşağıdakilerden hangisi, kısa zamanda en fazla can ve mal kaybına neden olan doğal afettir?



A)



B)



C)

20. Aşağıdakilerden hangisi Atatürk'ün ailesinden biri değildir?

- A) Zübeyde Hanım
B) Ali Rıza Bey
C) Mehmet Akif Ersoy



Adı Soyadı:

D:

Y:

1.SINIF

1. (A) (B) (C)

2. (A) (B) (C)

3. (A) (B) (C)

4. (A) (B) (C)

5. (A) (B) (C)

6. (A) (B) (C)

7. (A) (B) (C)

8. (A) (B) (C)

9. (A) (B) (C)

10. (A) (B) (C)

11. (A) (B) (C)

12. (A) (B) (C)

13. (A) (B) (C)

14. (A) (B) (C)

15. (A) (B) (C)

16. (A) (B) (C)

17. (A) (B) (C)

18. (A) (B) (C)

19. (A) (B) (C)

20. (A) (B) (C)

1.C 2.B 3.C 4.A 5.B 6.C 7.C 8.A 9.B 10.A

11.A 12.A 13.B 14.C 15.B 16.B 17.A 18.A 19.B 20.C

