

İnsan yaşamak için çalışmak, belli bir iş tutmak zorundadır. Bu nedenle, yaşamayı çalışmaktan ayrı düşünmemeliyiz. İnsanları bakkal, öğretmen, mühendis, memur, tüccar olarak çalışmaya iten başlıca güç, yaşamak zorunluluğudur. Kuşkusuz, her insanın belli bir işin yanında, yapması gereken başka işleri de vardır. Önemli olan, kişinin hem mesleği ile ilgili, hem de diğer işlerini zamanında yapmasıdır. Söz gelimi, bir doktor, hastalarıyla uğraşmasının yanı sıra bir mektubu zamanında okuyabilmeli, çocuğunun okul ihtiyaçlarını zamanında giderebilmelidir. Böyle davranmazsa belki yarın daha önemli bir işle uğraşacak, bugünkü işlerini yapmaya zaman bulamayacaktır. Yani mektubu cevaplayamayacak, gazetelerini okuyamayacak, çocuğunun okul ihtiyaçlarını karşılayamayacaktır. İşleri günü gününe yapmamak, onların üst üste birikmesine, giderek altından kalkılamaz duruma gelmesine de yol açar. Mesela, bir öğrenci konular ilerledikçe ve ödevler biriktikçe artık bunların altından kalkamayacaktır. Giderek, umutsuzluğa kapılacak ve başarısızlığa itilecektir. Ayrıca, kimi işler zamanında yapılmazsa, önemini yitirir. Bir tanıdığın nişan törenine, tören bittikten sonra gidemezsiniz.

Günün Özdeyişi**Virgülün kullanıldığı 10 cümle yazın.**

.....

.....

.....

.....

.....

.....

.....

.....

.....

.....

Metinle ilgili sorulara cevap verin.

1. İnsan neden bir iş tutmak zorundaymış?

.....

.....

2. İşlerimizi zamanında yapmazsak ne olur?

.....

.....

3. Metnin ana fikri nedir?

.....

.....

Metinle ilgili iki soru yazıp cevaplayın.

1.?

.....

.....

2.?

.....

.....

Verilen kelimelerin sestek anlamlarını yazın.

Diz:

.....

.....

Kız:

.....

.....

Taş:

.....

.....

Saç:

.....

.....

Kaç:

.....

.....



Düş:

.....

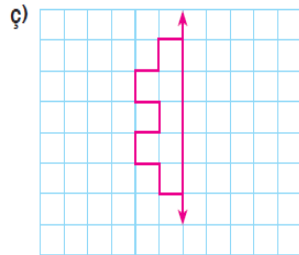
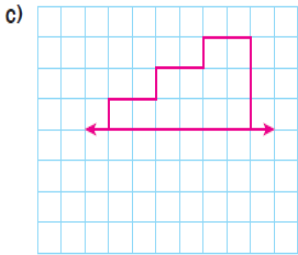
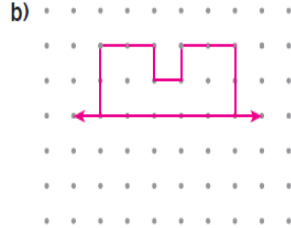
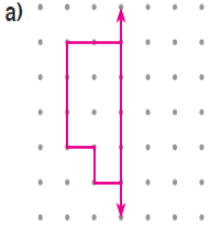
.....

MATEMATİK – FEN BİLİMLERİ – SOSYAL BİLGİLER

1. Aşağıda verilenlerden simetrik olanları işaretleyiniz. Simetrik olanların birer simetri doğrusunu çiziniz.



2. Noktalı ve kareli kâğıtlarda verilen şekillerin simetriklerini, verilen doğrulara göre çiziniz.



Aşağıya 2 tane simetrik şekil çiziniz.

Verilen cümleleri uygun şekilde tamamlayın.

1. Ses kirliliği.....
.....
2. Ses kirliliğini önlemek.....
.....
3. Ses kirliliği daha çok.....
.....
4. Ses kirliliğinin zararları.....
.....
5. Gürültünün.....
.....
6. Ses kirliliği insan.....
.....

Verilen cümleleri uygun şekilde tamamlayın.

1. Çocuk hakları.....
.....
2. Yaşama hakkı.....
.....
3. Oyun hakkı.....
.....
4. Çocuk Hakları Genel Sözleşmesi.....
.....
5. Çocuk hakları.....
.....
6. Her çocuk.....
.....
7. 18 yaşına.....
.....