

Adı:.....
Soyadı:.....

HAVA OLAYLARI VE MEVSİMLER TESTİ

D:.....Y:.....
Not:.....


1.  Yaren Leylek ile Adem Amca bu sene tekrardan buluştular.

Buna göre tarih hangi ay olabilir?

- A. Eylül B. Ocak C. Mart

2.  Yandaki sembolün adı nedir?

- A. güneşli B. bulutlu
C. parçalı bulutlu

3.  Ankara'da yağan..... araçlara büyük zarar verdi.

Haberde boş yere hangisi gelmelidir?

- A. yağmur B. kar C. dolu

4. 



Hangi ifade sonbahar mevsimine aittir?

- A. sarı B. mavi C. kırmızı


5. İlkbahar ile ilgili hangi ifade yanlıştır?




- A. Ağaçlar çiçek açar.
B. Göçmen kuşlar başka yerlere göç eder.
C. En fazla yağmur bu mevsimde yağar.

6.  Nisan Haziran Mart

Hangisinin söylediği, ilkbahara ait değildir?

- A. Selim B. Zümra C. Merve

7.  Hangi sembol gök gürültülü yağmur anlamına gelir?

A.  B.  C. 

8.

mart	ekim
eylül	mayıs

 Sonbahar aylarını boyarsak hangi şekil ortaya çıkar?

- A.  B.  C. 

9.  Göçmen kuşlar sıcak yerlere gider.
Havalar soğumaya başlar. Bazı hayvanlar uykuya yatar.

Ailede kim kış mevsiminin özelliğini demiştir?

- A. anne B. baba C. çocuk

10.

Pazartesi	Salı	Çarşamba	Perşembe	Cuma
				

Verilen hava durumu grafiğine göre hangi gün yağmur beklenmektedir?

- A. Çarşamba B. Perşembe C. Cuma




11.  Yaz ile ilgili hangi bilgi yanlıştır?

- A. Bu mevsimde yağış çok fazla görünmez.
B. Meyve sebze çeşidi daha fazladır.
C. Ağaçlar beyaz çiçekler açar.

12.

kasım	aralık	ocak
-------	--------	------

Kış aylarını boyarsak hangisi ortaya çıkar?

- A.  B. 
C. 


13.

D	Sisli havalar kazalara neden olur.
Y	Sel, bir hava olayıdır.
Y	Rüzgar, sadece kışın oluşur.

Ali, cümlelerden doğru olanların başına D, yanlış olanların başına Y yazacaktır.


Buna göre kaç tanesini doğru yapmıştır?

- A. 3 B. 2 C. 1

14.  Bu ay evi ısıtmak için doğalgazı iüice açtık.

Buna göre hangi ay olamaz?

- A. ocak B. aralık C. mayıs

15.  gelince havalar soğumaya başlar.

Yukarıda boş yere hangisi gelmelidir?

- A. ilkbahar B. kış C. sonbahar

16. Su buharının donarak beyaz ve hafif tanecikler halinde yağmasına.....denir

Yukarıda boş yere hangisi gelmelidir?


- A. dolu B. kar C. yağmur

17.

sonbahar	Bazı hayvanlar uykuya yatar.
ilkbahar	Havalar soğumaya başlar.
kış	Havalar ısınmaya başlar.

Verilenler eşleştirildiğinde hangisi doğru olur

- A.  B.  C. 

18.  Su damlacıklarının yeryüzüne inerken donarak buz parçaları halinde yağmasına ne denir?

- A. yağmur B. kar C. dolu

19.

Dolu, sadece kışın meydana gelir.
Kar, en çok kışın yağar.
Yağmur, en çok baharlarda yağar.

Verilen ifadelerden doğru olanları boyarsak hangi şekil ortaya çıkar?

- A.  B.  C. 

20. Hangilerinin hava durumunu takip etmeleri diğerlerine göre daha önemlidir?

- A. çiftçiler B. doktorlar C. polisler