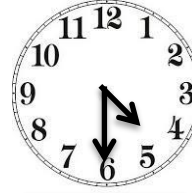
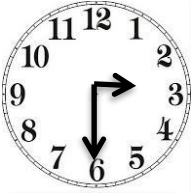








Aşağıda istenilenleri yapınız.

Boşluklara uygun kelimeleri yazınız.

Verilen saatlerin kaç olduğunu altlarına yazınız.



Altta verilen saatlerin akrep ve yelkovanlarını çiziniz.







12 : 30

10 : 30

08 : 30

01 : 30

05 : 30



11 : 30

10 : 30

09 : 30

02 : 30

06 : 30

önümüz

batar

doğadan

Pusulanın

Kutup Yıldızı

doğudan

doğar

kuzeyi

batıdan

yosun

arkamız

gece

- 1.)her zaman kuzeyi gösterir.
- 2.)kırmızı ucu kuzeyi gösterir.
- 3.) Ağaçlarıntutan tarafı kuzeyi gösterir.
- 4.) Güneş her zaman.....doğar.
- 5.) Güneş her zaman.....batar.
- 6.) Güneşin doğduğu tarafa sağ kolumuzu uzatırsak kuzeyi gösterir.
- 7.) Güneşin doğduğu tarafa sağ kolumuzu uzatırsak güneyi gösterir.
- 8.) Güneş her zaman doğudan.....
- 9.) Güneş her zaman batıdan.....
- 10.) Kutup Yıldızı her zaman.....gösterir.
- 11.)Kutup Yıldızına bakarak yönümüzü buluruz.
- 12.) faydalanarak yönümüzü bulabiliriz.