

ADI SOYADI:

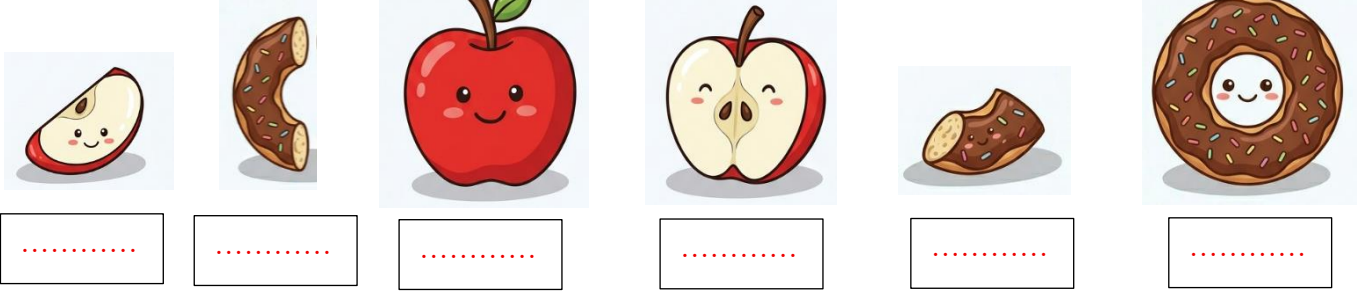
PUAN:

34-44 ÇOK İYİ - 4
23-33 İYİ - 3
12-22 YETERLİ - 2
0-11 GELİŞTİRİLMELİ - 1

Öğrenme Çıktısı: MAT.2.1.7. Bütün, yarım ve çeyrek arasındaki ilişkiyi çözümlenebilme

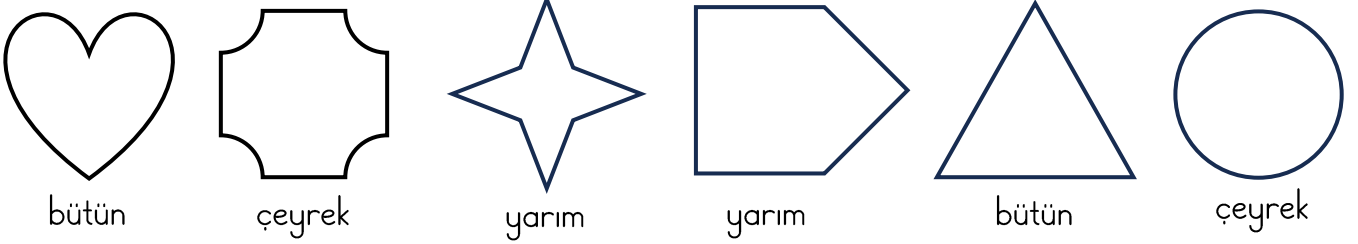
1

Görselleri verilen nesnelerin altına bütün, yarım ve çeyrek ifadelerinden uygun olanı yazınız. 12 puan



2

Verilen nesnelerin altında yazan kadarını çizip boyayınız. 12 puan




3

Noktalı alanlara gelmesi gereken sayıları yazınız. 20 puan



1 bütün karpuz yarım karpuz eder.



2 yarım karpuz bütün



1 yarım ve 2 çeyrek karpuz



4 çeyrek karpuz bütün

➤ 2 bütün armut yarım armut eder.

➤ 8 çeyrek kivi bütün kivi eder.

➤ 14 liranın yarısı liradır.

➤ 6 yarım çilek bütün çilek eder.

➤ 4 yarım muz çeyrek muz eder.

➤ 20 koyunun çeyreği koyun eder.