

Verilen kelimeleri, metindeki boşluklara yazalım. Metni 5 defa okuyalım

Meclis - Samsun'a - ordu - çocuklara - Nisan

Yurdumuz işgal altındaydı. Her yerde düşmanlar vardı. Millet, savaştan savaşa koştuktan yorulmuştu. İşte böyle bir dönemde Mustafa Kemal ve arkadaşları 19 Mayıs 1919'da Bandırma Vapuru ile çıktılar. Buradan çeşitli illere giderek toplantılar, kongreler yaptılar. Yapılan bu toplantılar sonucunda yurdumuzu düşmanlardan kurtarmak için bir meclis açılmasına karar verdiler. İşte bu Türkiye Büyük Millet Meclisi, Ankara'da 23 Nisan 1920'de bir Cuma günü dualar ile açıldı. Kurulan bu, yurdumuzu düşmanlardan kurtarmak için çalışmalara başladı. Düzenli bir kuruldu. Kurulan bu ordu düşmanı mağlup etti. En nihayetinde 26 Ağustos 1922 tarihinde düşmanı kesin olarak yenip yurdumuzu düşmanlardan kurtardı. Ülkemizi düşmanlardan kurtarışımızın dönüm noktalarından olan 23 sonraki yıllarda Ulusal Egemenlik ve Çocuk Bayramı olarak bütün yurttan coşku ile kutlanmaya başladı. Atatürk, bu bayramı armağan etti.

Aşağıdaki soruları metne göre cevaplayınız.

1. Atatürk, 23 Nisan'ı kimlere armağan etmiş?

2. Mustafa Kemal, Samsun'a ne zaman çıkmış?

3. TBMM, nerede ne zaman açılmış?

4. Düşmanı kesin olarak ne zaman yendik?

Yanlış bölünenlerin doğrusunu yanlarına yazalım.

DİKKAT

KISA ÇİZGİ

Satır sonuna sığmayan heceleri ayırmak için kısa çizgi kullanılır.

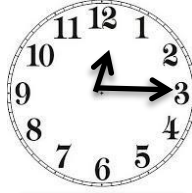



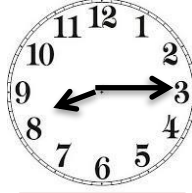


ÖRNEKLER

kıyafet- / tarihimiz-
lerini / deki

a	yolc- uluk	b	kira- zları	c	süpü- rge
d	dükk- ana	e	bahç- ede	f	çalık- uşu
g	gem- iler	h	balı- kçı	i	traf- ik
j	yab- ancı	k	kar- ınca	l	ser- inlik
m	yumu- rta	n	göky- üzü	o	mart- ılar

Sizden istenilenleri yapınız.


Verilen saatlerin kaç olduğunu altlarına yazın.




Altta verilen saatlerin akrep ve yelkovanlarını çizin.




12 : 15




10 : 15




08 : 15




01 : 15




05 : 15




11 : 15




10 : 15



09 : 15

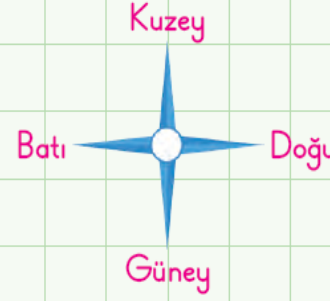


02 : 15



06 : 15

Yön haritasına göre soruları cevaplayın.



SORULAR

- 1 Tavşan iki kutu batıya gittiğinde hangi aya ulaşır? Cevap:
- 2 Tavşan dört kutu güneye gittiğinde hangi aya ulaşır? Cevap:
- 3 Tavşan iki kutu kuzeye gittiğinde hangi aya ulaşır? Cevap:
- 4 Tavşan dört kutu doğuya gittiğinde hangi aya ulaşır? Cevap:
- 5 Tavşan altı kutu batıya gittiğinde hangi aya ulaşır? Cevap:
- 6 Tavşan dört kutu kuzeye gittiğinde hangi aya ulaşır? Cevap:
- 7 Tavşan altı kutu doğuya gittiğinde hangi aya ulaşır? Cevap:
- 8 Tavşan altı kutu güneye gittiğinde hangi aya ulaşır? Cevap: