

Adı:.....
Soyadı:.....

NOKTA - DÜZLEM VE DÜZLEMSEL ŞEKİL (DÜZLEM PARÇASI) ETKİNLİĞİ


Veli imzası

NOKTA


- Duvara çakılan çivinin bıraktığı iz,
- Yüzümüzdeki ben,
- Kalem ucunun kâğıda bıraktığı iz,
- Tebeşirin tahtaya bıraktığı iz,
- Su damlası,
- Cümlelerin bittiğini göstermek için kullanılan işaret noktaya birer örnektir.
- Nokta, büyük temel harflerle adlandırılır.

- Noktanın eni, boyu ve yüksekliği yoktur.
- Nokta (•) işareti ile gösterilir.
- Bir noktadan sınırsız sayıda doğru geçer.
- İki sokağın birleştiği yer de bir noktadır.
- Harita üzerinde il – ilçe merkezleri noktalarla belirtilir.
- Saat üzerinde saat başları nokta ile belirtilir.

Verilen noktaları isimlendirerek
birleştirip çeşitli şekiller oluşturalım.



Verilen karedeki kenar ve köşe
noktalarını isimlendirelim, yazalım.



Köşe noktaları:

Kenar noktaları:

Boşluğa çeşitli büyüklüklerde noktalar koyup isimlendirelim.

Aşağıdaki resimde bulunan uçak ve evlerin yerini, sağ taraftaki çerçeveye içine
nokta ile belirleyiniz.



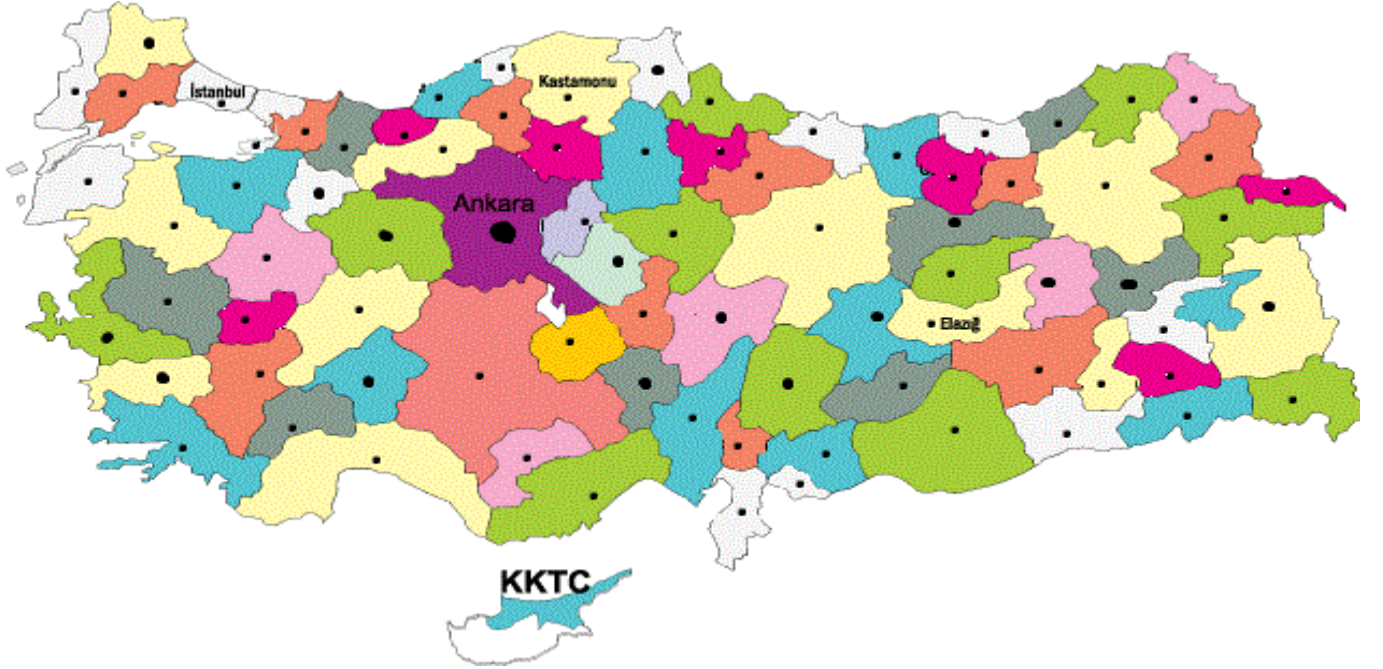
NOKTA

- Belli bir tanımı yoktur. Büyük harflerle isimlendirilir.



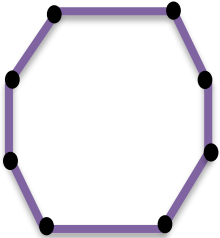

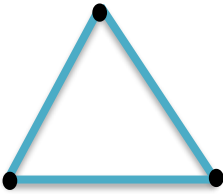
• A \longrightarrow A noktası gibi

Türkiye idari haritasında illerin yerleri nokta (.) ile gösterilir. Haritadaki noktaları sayarak kaç tane ilimiz olduğunu bulabiliriz. İdari haritalarda başkentler daha büyük bir nokta ile belirtilir.


Aşağıda Türkiye idari haritası vardır. Haritada bazı illerin adları yazılmıştır. Sizde bildiğiniz illerin adını yazabilirsiniz.



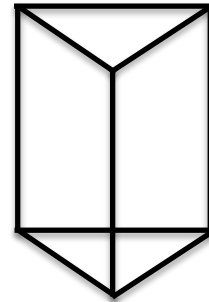
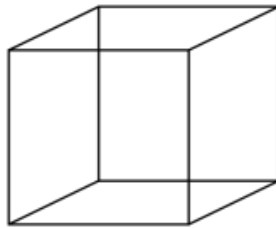
Geometrik şekillerde köşeleri nokta ile gösterebiliriz.



Verilen noktaları birleştirip meydana gelen resmi dilediğiniz gibi boyayabilirsiniz.



Aşağıdaki şekillerin köşelerini nokta ile belirleyiniz. Şeklin kaç köşesi olduğunu altına yazınız.



Aşağıdaki kesişen doğruların kesişim yerlerini nokta ile belirleyiniz. Kaç noktada kesiştiğini altına yazınız.

