

Adı:.....  
Soyadı:.....

# PARALARIMIZ TESTİ

D:.....Y:.....  
Not:.....

1.



Yukarıdaki parayı 1 TL'ye hangi şekilde tamamlayamayız?

- A. 5 tane 10 Kr      B. 2 tane 5 Kr  
C. 1 tane 50 Kr

2.



Yukarıdaki paraların 5 TL olması için, kaç TL gerekir?

- A. 1 TL      B. 3 TL      C. 2 TL

3.



"2 TL içinde..... tane 50 Kr vardır."

Yukarıda boş yere hangisi gelmelidir?

- A. 2      B. 6      C. 4

4.



Yukarıdaki paraları 50 TL'ye tamamlamak için kaç TL gerekir?

- A. 30 TL      B. 20 TL      C. 10 TL

5.



Yukarıdaki paraların içinde kaç tane 5 TL vardır?

- A. 4      B. 10      C. 8

6.



Yukarıda toplam kaç TL vardır?

- A. 5 TL      B. 3 TL      C. 2 TL

7.



Betül'ün yukarıdaki kadar parası vardır.

Arkadaşına 100 TL'ye doğum günü hediyesi alacaktır. Betül'ün kaç TL'ye ihtiyacı vardır?

- A. 35 TL      B. 25 TL      C. 30 TL

8.



Yukarıdaki paraların 1 TL olması için hangisi gerekir?

- A.       B.       C. 

9.



Yukarıdaki paralar toplam kaç TL'dir?


- A. 25      B. 27      C. 23

10.


Kumbaramdan dört tane 5 TL, üç tane 10 TL, iki tane 20 TL çıktı.

Buna göre kumbarada kaç TL çıkmıştır?

- A. 35 TL      B. 90 TL      C. 60 TL

11.  Kalemın tanesı 7 TL olduđuna gre yandaki kalemler iin denecek para hangisidir?

- A.   B. 
- C.   

12.  İki iek alıp 50 TL verdim. Ka TL para st almalıyım?
- 15 TL

- A. 35 TL B. 20 TL C. 30 TL

13. 

Yukarıdaki paraların 1 TL olması iin, ka Kr gerekir?

- A. 35 Kr B. 45 Kr C. 25 Kr

14. 

Yukarıdaki paraların 100 TL olması iin, ka TL gerekir?

- A. 60 TL B. 50 TL C. 70 TL

15.  $2 \text{ TL} = \dots\text{A}\dots \text{ tane } 25 \text{ Kr}$

$2 \text{ TL} = \dots\text{B}\dots \text{ tane } 50 \text{ Kr}$

Verilenlere gre  $A \times B$  ka yapar?

- A. 32 B. 16 C. 8

16.  14 tane 25 Kr  9 tane 50 Kr


- Hangi ocuđun parası daha azdır?

- A.  B.  C. 

17. 

Bu paranın iinde ka TL 20 TL vardır?


- A. 5 B. 10 C. 8

18.  Hangisinin miktarı diđerlerinden farklıdır?

- A.   

- B.     

- C.   

19.  Yandaki robotu alırken 100 TL verdim, 15 TL para st aldım.

Buna gre robot ka TL'dir?

- A. 75 TL B. 65 TL C. 85 TL

20. Hangi ifade yanlıřtır?

- A. En byk kađıt para 200 TL'dir.  
B. En byk madeni para 1 TL'dir.  
C. Yedi tane madeni paramız vardır.