

## TÜRKÇE BÖLÜMÜ

Köyde hayat erken başlar. Herkese düşen bir görev vardır. Bu görevleri yapmamız için kimse bizi zorlamaz. Ama biz seve seve yaparız. Ben her sabah okula gitmeden tavuklara yem veririm. Ablam ineği sağlar. Kahvaltıya taze süt hazırlar. Annemize babamıza yardımcı olduğumuz için çok mutlu oluruz. Biz köyde yaşamayı çok severiz.

1.) Metne göre aile nerede yaşamaktadır?

A. Şehirde B. Köyde C. Kasabada

2.) Metne göre, abla ne yapmaktadır?

A. Tavuklara yem verir. B. İneği sağlar  
C. Kuşları besler.

3.) Metne en uygun başlık hangisi olabilir?

A. Köy Hayatı B. Şehir Hayatı  
C. Şehrin Güzelliği

4.) Tavuklara yemi kim vermektedir?

A. abla B. anne C. yazar

5.)

tarak



okul

pabuç

Yukarıdaki ailenin söylediği kelimeler alfabetik sıraya konulursa, hangisinin söylediği kelime ortada yer alır?

A. anne B. baba C. çocuk

6.)

1. kar - ın - ca

2. dü - sün - ce

3. ör - üm - cek



Kamyonun kasasındaki kaç numaralı kelime, hecelerine yanlış ayrılmamıştır?

A. 1 B. 2 C. 3


7.)





Akşam televizyonda güzel bir film vardı.

Ece'nin cümlesinde hangi sorunun cevabı yoktur?

A. Nerede? B. Ne? C. Neden?

8.)  Bu kitabı aldığın yere koy

 Akşam yemeğe kim gelecek

 Of hava ne kadar da sıcak

Hangi öğrencinin cümlesinin sonuna soru işareti konmalıdır?

A.  B.  C. 

E	F	G	U	İ	D	C	V
R	M	U	T	L	U	M	Ş
T	Z	U	Ö	E	P	Ğ	İ
I	H	J	I	R	E	C	Ş
Ü	A	S	B	İ	G	E	M
Y	Ü	K	S	E	K	H	A
C	F	U	Ş	N	Ç	U	N
U	H	I	Z	L	I	Ç	Ü


( 9. ve 10. Soruları bulmacaya göre cevaplayın.)


9.) Aşağıdaki kelimelerden hangisinin zıt anlamlısı bulmacada yoktur?

A. alçak B. süratli C. zayıf

10.) Aşağıdaki kelimelerden hangisinin zıt anlamlısı bulmacada vardır?


A. uzak B. aşağı C. geri

Nerede?  Ne zaman?


11.)  Neden?

" Bugün okulda kermes düzenlenecek." Cümlesinde, ailede hangisinin sorduğu sorunun cevabı yoktur?


A. anne B. baba C. çocuk


12.)  Hangi cümlede sebep sonuç ilişkisi yoktur?


- A. Beşiktaş bu sene şampiyon oldu.
- B. Çok iyi top oynadığı için şampiyon oldu.
- C. Şampiyon oldukları için çok mutluydu.

13.)  Hangi cümlede noktalama işareti yanlış konmuştur?

- A. O kadar yemek yedi ki karnı ağrıdı.
- B. Akşama kadar hiçbir şey yemedim !
- C. Bugün bu konuyu kimler okudu?

14.)  1. Ayşe Ankarada doğdu.

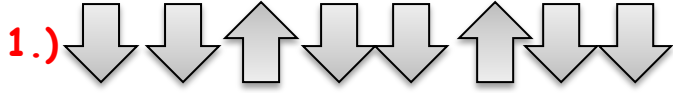
 2. Ali dün buraya geldimi?

 3. Ela ile Ece denize gitti.


Yukarıdaki cümlelerin hangisinde yazım yanlışı yoktur?

A. 1. B. 2. C. 3.

## MATEMATİK BÖLÜMÜ



Aşağıdaki örüntülerden hangisinin kuralı, yukarıdaki örüntü ile aynıdır?



2.)



Yukarıdaki görselle ilgili hangi ifade yanlıştır?

- A. 1 onluk ve 2 birlikten oluşur.  
B. 6 birlik daha olursa, 2 onluk olur.  
C. 12 birlik vardır.

3.)



Yukarıdaki pizzalar çeyreklere ayrılırsa kaç çeyrek pizza yapar?

- A. 6                      B. 12                      C. 10

ELMA	
ARMUT	
MUZ	
KİRAZ	
ÇİLEK	

(4. ve 5. Soruları tabloya göre cevaplayın.)

4.) Tabloya göre kaç kilo çilek daha olursa elmalara eşit olur?

- A. 3                      B. 4                      C. 2

5.) Tabloya göre, muz ile kirazların toplamı, elmalardan kaç fazladır?

- A. 4                      B. 5                      C. 6




6.) Bir kravat ve pantolon alan Ali 20 TL ödedi. Kaç TL para üstü kalır?

- A. 9                      B. 8                      C. 7

7.) Aşağıdakilerden hangisi adım ile ölçülmez?


- A. Bir halının boyu  
B. Bir bahçenin uzunluğu  
C. Bir binanın yüksekliği

8.)



Aşağıdakilerden hangisi ile bir çember çizemeyiz?

A.



B.



C.



9.)

Ben 7 yaşındayım



Ben senden 2 yaş büyüğüm.

Buna göre Emre ile Esin'in yaşlarının toplamı kaç olur?

A. 9 B. 16 C. 15

10.)



Otobüste 17 yolcu vardı. 9 yolcu indi. 5 yolcu bindi. Otobüste kaç yolcu oldu?

A. 15 B. 14 C. 13

11.)



Yandaki kumbaradan 3 tane 1 TL, 4 tane 50 kuruş ve 2 tane 5 TL çıktığına göre kumbaradan toplam kaç TL çıkmıştır?

A. 10 B. 15 C. 17

MAYIS

Pazartesi	Salı	Çarşamba	Perşembe	Cuma	Cumartesi	Pazar
1	2	3	4	5	6	7
8	9	10	11	12	13	14
15	16	17	18	19	20	21
22	23	24	25	26	27	28
29	30	31				

12 ve 13. soruları takvime göre yapınız.

12.) Yarın günlerden 15 Mayıs ise dün günlerden neydi?

A. Cumartesi B. Salı C. Pazar

13.) Hangi gün tatil değildir?

A. 8 Mayıs B. 6 Mayıs C. 21 Mayıs

14.)



Yandaki saat kaç göstermektedir?

A. 5:00 B. 12:00 C. 4:00

MAHMUT ÇÜRÜK

## HAYAT BİLGİSİ BÖLÜMÜ



23 Nisan

29 Ekim

19 Mayıs

1.)

Hangi öğrenci Ulusal Egemenlik ve Çocuk Bayramı'nın tarihini söylemiştir?



D	Geri dönüşüm sayesinde doğayı koruruz.
Y	Plastik doğada çok çabuk yok olur.
D	Atık piller, toprağı zehirler.

2.)

Ali, yukarıdaki cümlelerden doğru olanlara (D), yanlış olanlara (Y) koyacaktır.

Ali, kaç tanesini doğru yapmıştır?

A. 3 B. 2 C. 1

3.)

Aşağıdaki ifadelerden hangisi yanlıştır?

- A. Yazın geceler uzun, gündüzler kısadır.  
B. Yaza doğru göçmen kuşlar döner.  
C. Sonbaharda ağaçlar yapraklarını döker.



4.)

Yandaki görsel hangi mevsime aittir?

- A. Yaz B. Sonbahar C. Kış

5.)



Benimle ilgili hangi ifade doğrudur?

- A. Ankara'da vefat ettim.  
B. Mezarım İstanbul'dadır.  
C. Selanik'te dünyaya geldim.

Köy

Vali

İlçe

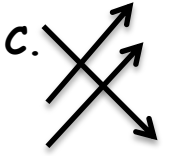
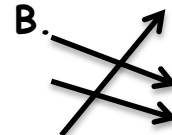

Muhtar

İl

Kaymakam

6.)

Yukarıda verilenler eşleştirilse, eşleştirme nasıl olur?




7.)




Yanda verilen yer hangi şehrimizdedir?

- A. Ankara B. Bursa C. İstanbul

8.)  Ülkemizin başkenti neresidir?

A. Ankara B. İstanbul C. Bursa

9.)  Yandaki trafik işareti aşağıdakilerden hangisidir?

A. Yaya geçidi B. Okul geçidi  
C. Aile geçidi

10.)  Yandaki ev Atatürk'ün doğduğu evdir. Buna göre bu ev nerededir?

A. Ankara B. İstanbul C. Selanik


*MAHMUT ÇÜRÜK*


11.)  1. 2. 3.

Verilenlere göre hangisi doğrudur?

	1.	2.	3.
A.	110	155	112
B.	112	156	110
C.	112	155	110

12.)

 Tepsi tepsi baklava yapılır.

 Her yere bayraklar asılır.

 Büyüklerin elleri öpülür.

Hangi çocuğun söylediği dini bayramlara ait bir davranış değildir?

A.  B.  C. 

BAŞARILAR, DİKKATLİ OKU  
DİKKATLİ CEVAPLA