



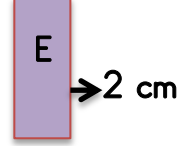
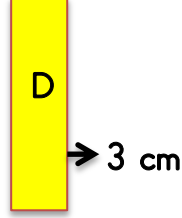
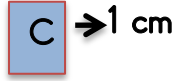
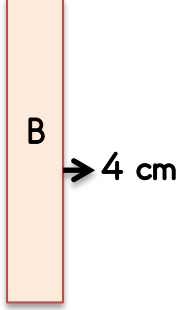
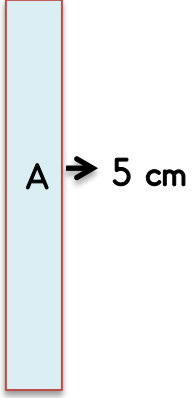
Adı:

MATEMATİK - UZUNLUK ÖLÇME ETKİNLİĞİ - 2

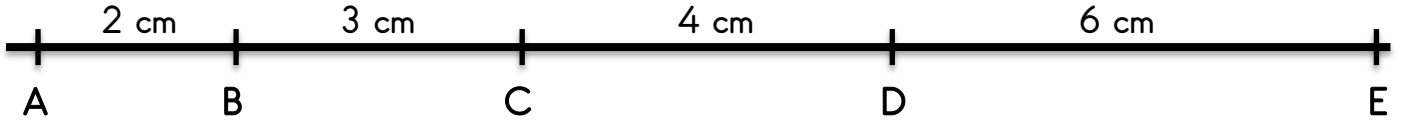
Soyadı:

Uzunlukları standart araçlar kullanarak metre veya santimetre cinsinden ölçer.

İstenilen şeritlerin uzunluklarını, verilen şeritlere göre hesaplayınız.



Verilen mesafelere göre boş yerleri doldurunuz.



1. A ile C arası.....dir.
2. C ile E arası.....dir.
3. B ile D arası.....dir.
4. A ile D arası.....dir.
5. B ile E arası.....dir.
6. A ile E arası.....dir.
7. D ile E arası.....dir.
8. A ile B arası.....dir.
9. C ile D arası.....dir.
10. B ile C arası.....dir.

Verilen uzunluklar kadar çizgi çiziniz.

2 cm →

10 cm →

8 cm →

6 cm →

5 cm →

Çizgileri istenilen uzunluklara tamamlayınız.

10 cm →



8 cm →



6 cm →



4 cm →

