



## BİR YIL

Güneş ve Dünya birbirlerinden ayrılmayan çok iyi iki arkadaşmış. Dünya kendi etrafında çok güzel dönermiş. Güneş ise çevresindeki arkadaşlarına ısı ve ışık verirmiş.

Bir gün Dünya, Güneş'in etrafında dolanmaya karar vermiş. Bu uzun yolculukta, Dünya çok yorulmuş ama yolculuğunu da bir yıl da bitirmeyi başarmış ...

Ömer USLU

1 ve 2. soruyu yukarıdaki metne göre cevaplayalım.

1. Güneş, çevresindekilere ne veriyormuş?

- A) Isı ve ışık
- B) Gece ve gündüz
- C) Oyuncak

2. Dünya, neye karar vermiş?

- A) Kendi etrafında dönmeye
- B) Güneş'in etrafında dolanmaya
- C) Eve gitmeye


3. Aşağıdaki sözcüklerin hangisinin harf sayısı en fazladır?


- A) dondurma
- B) şeftali
- C) salatalık


4. Aşağıdaki noktalama işaretlerinden hangisi özel isimlere gelen ekleri ayırmak için kullanılır?

- A) ( - )
- B) ( ? )
- C) ( ' )

5. Aşağıdakilerden hangisi özel isim değildir?

A)  Kalem

B)  Ankara

C)  Murat



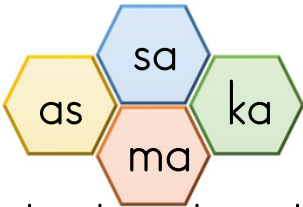


6. Aşağıdaki cümlelerden hangisi görsel ile ilgilidir?

- A) Çocuk, parkta oyun oynuyor.  
B) Çocuk, denize giriyor.  
C) Çocuk, gölde balık tutuyor.


7. Aşağıdaki sözcüklerden hangisi hecelerine yanlış ayrılmıştır?

- A) pat-lı-can      B) kit-ap-lık  
C) el-di-ven

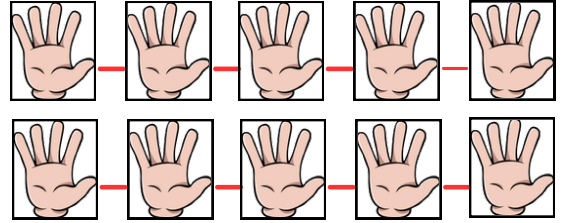


8. Yukarıdaki heceler kullanılarak aşağıdaki sözcüklerden hangisi yazılamaz?

- A) makas      B) masa  
C) kasa



9. Yukarıdaki elma ağacından 7 elma düşerse ağaçta kaç elma kalır?  
A) 18      B) 12      C) 11



10. Yukarıda, parmakları ile ritmik sayma yapan Beril, kaçar kaçar sayma yapmaktadır?

- A) Onar onar  
B) Beşer beşer  
C) İkişer ikişer





11.  $8 + 5 = 6 + \bigcirc$

Eşit olabilmesi için  $\bigcirc$  kaç olmalıdır?

- A) 13      B) 7      C) 6



Yukarıdaki paralar Meva'nın kumbarasından çıkmıştır?

Meva'nın toplam kaç TL'si vardır?

- A) 20      B) 19      C) 18

13. Hangi işlemin sonucu sıfırdır?

A)  $7 + 0 =$

B)  $9 - 0 =$

C)  $8 - 8 =$


14.

$$\begin{array}{r} 12 \\ - 4 \\ \hline \end{array}$$

$$\begin{array}{r} + 2 \\ \hline \end{array}$$

Buna göre kaçtır?

- A) 10      B) 9      C) 8





Bir çiftlikte 10 koyun, 4 inek, 3 at vardır. Bu çiftlikte toplam kaç hayvan vardır?

- A) 15  
B) 16  
C) 17





16. Aşağıdakilerden hangisi bize geri dönüşümü anlatır?



17. Aşağıdaki bilgilerden hangisi yanlıştır?

- A) Dünya, üzerinde yaşadığımız gök cisimidir.  
 B) Güneş'i gündüz görebiliriz.  
 C) Ay'ı daha çok gündüzleri görebiliriz.


18. Atatürk'ün anıt mezarının adını ve yerini hangi çocuk doğru yazmıştır?

A) Anıtkabir – Ankara

B) Anıtkabir – İstanbul

C) Anıtkabir – Selanik

19. Hangi doğal afet bol kar yağışı alan dağlık ve dik bölgelerde gerçekleşir?



20. Sınıf araç gereçlerini dikkatli kullanan bir öğrenci hangisini yapmaz?

- A) Sınıf eşyalarını kullandıktan sonra yerine koyar.  
 B) Sırasını karalar.  
 C) Sınıf kitaplığını dağınık bırakmaz.



Adı Soyadı: \_\_\_\_\_

D: \_\_\_\_\_

Y: \_\_\_\_\_

**1.SINIF**

1. (A) (B) (C)
2. (A) (B) (C)
3. (A) (B) (C)
4. (A) (B) (C)
5. (A) (B) (C)
6. (A) (B) (C)
7. (A) (B) (C)
8. (A) (B) (C)
9. (A) (B) (C)
10. (A) (B) (C)

11. (A) (B) (C)
12. (A) (B) (C)
13. (A) (B) (C)
14. (A) (B) (C)
15. (A) (B) (C)
16. (A) (B) (C)
17. (A) (B) (C)
18. (A) (B) (C)
19. (A) (B) (C)
20. (A) (B) (C)

1.A 2.B 3.C 4.C 5.A 6.C 7.B 8.A 9.C 10.B

11.B 12.B 13.C 14.A 15.C 16.A 17.C 18.A 19.C 20.B

