

Diğer şehirler gibi İzmir'de de insanlar yaşıyor. Bu şehre birçok turist gelir. Turistler de, İzmirli de mutlaka alışveriş yapmak için Kemeraltı'na giderler. Kemeraltı, İzmir'in en uzun ve en kalabalık sokağıdır. Hem yiyecek hem giyecek hem de kitap, çiçek, ev eşyası gibi şeyleri orada bulursunuz. Kemeraltı'nın en ünlü sokağı "Havra Sokağıdır". Bu sokakta satıcılar, tüm mevsimlere göre sebze ve meyvelerini satarlar. Meyve ve sebzeler mevsimlere göre farklılıklar göstermez, bu sokakta. Hem turistler hem İzmirli Kemeraltı'nda bu sokağı gezmeden geri dönmezler. Bu sokakta balıkçılar, çerezciiler, manavlar, tenekeciiler vardır. Eskiden her tenekeci için iki metrekairelik dükkanlar var ve her tenekeci aynı huni, kazan, ibrik ürettirler. Ama, şimdi sadece dört tenekeci var ve aynı dükkanda çalışıp aynı şeyleri üretiyorlar. Belki, tenekeciilerin çocukları onlar gibi baba mesleklerini yapmayacaklar. Kış ortasında karpuz, kavun, domates, çilek, yaz ortasında elma, portakal, ıspanağı burada görürsünüz. Eskiye ve yeniye beraber orada tanırırsınız.

Günün Özdeyişi

10 tane karşılaştırma cümlesi yazınız.

.....

.....

.....

.....

.....

.....

.....

.....

.....

.....

.....

Metinle ilgili sorulara cevap verin.

1. Kemeraltı'nın en ünlü sokağı neresiymiş?

.....

.....

2. Havra Sokağında neler varmış?

.....

.....

3. Turistler alışveriş için nereye giderlermiş?

.....

.....

Metinle ilgili iki soru yazıp cevaplayın.

1.? ?

.....

.....

2.? ?

.....

.....

Hıdırellez Günü hakkında bir yazı yazın.

.....

.....

.....

.....

.....

.....

.....

.....

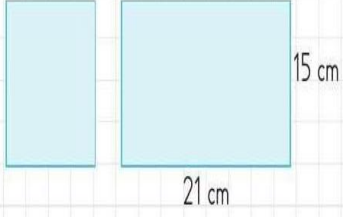
.....

.....

.....

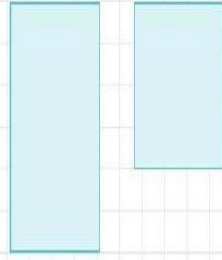
MATEMATİK – FEN BİLİMLERİ – SOSYAL BİLGİLER

Aşağıdaki problemleri çözün.



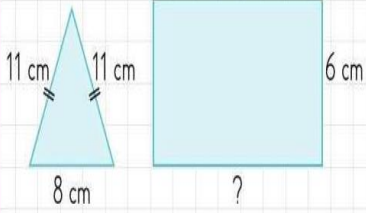
Yukarıdaki kare ve dikdörtgenin çevre uzunlukları eşit olduğuna göre karenin bir kenar uzunluğu kaç cm'dir?

8



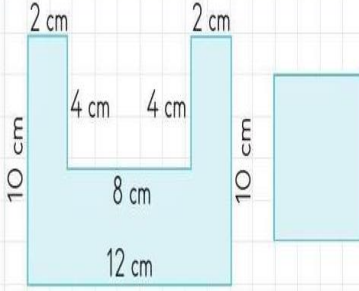
Yukarıdaki dikdörtgen ve karenin çevre uzunlukları eşittir. Dikdörtgenin çevresi 64 cm olduğuna göre karenin bir kenar uzunluğu kaç cm'dir?

9



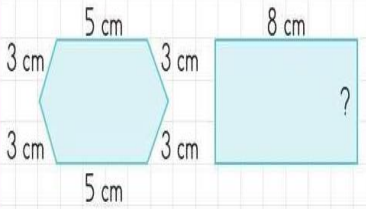
Yukarıdaki üçgenin ve dikdörtgenin çevre uzunlukları eşittir. Verilenlere göre dikdörtgenin uzun kenarı kaç cm'dir?

10



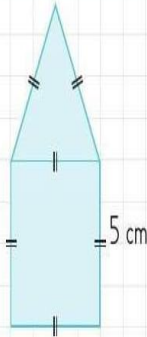
Yukarıda verilen şeklin çevre uzunluğu ile karenin çevre uzunluğu aynıdır. Buna göre karenin bir kenarının uzunluğu kaç cm'dir?

11



Yukarıda verilen geometrik şekil ile dikdörtgenin çevre uzunlukları eşittir. Verilenlere göre dikdörtgenin kısa kenarı kaç cm'dir?

12



Yukarıdaki şeklin çevresi kaç cm'dir?

13

Doğru olan (D); yanlış olanlara (Y) yazın.

- (...)Suyu tasarruflu kullanmalıyız.
- (...)Elektriği tasarruflu kullanmalıyız.
- (...)Doğalgazı tasarruflu kullanmalıyız.
- (...)Tasarruf, doğal kaynakların tükenmesini önler.
- (...)Tüketirken bilinçli olmak zorundayız.
- (...)Su kaynaklarını temiz tutmalıyız.
- (...) Damlatan muslukları tamir etmeliyiz.
- (...)Bulaşıkları elimizle yıkamalıyız.
- (...)Sensörlü lamba kullanmalıyız.
- (...)Ev yalıtımı yapmalıyız.
- (...)Yiyebileceğimiz kadar besin almalıyız.
- (...)Tasarruflu ampuller kullanmalıyız.
- (...)Gereksiz yanan lambaları kapatmalıyız.
- (...)Prizde fişleri takılı bırakmamalıyız.
- (...)Dişimizi fırçalarken musluğu kapatmalıyız.

Doğru olan (D); yanlış olanlara (Y) yazın.

- (...) Her birey özgürlüğü için çalışmalıdır.
- (...) Özgürlük kolay kazanılmamıştır.
- (...) Darbeler, ülkeyi hep geri götürür.
- (...) Milli iradeye darbe yapılamaz.
- (...)Milli irade TBMM'de ortaya çıkar.
- (...)TBMM, ulusal egemenliğimizin sembolüdür.
- (...)15 Temmuz'da millet, iradesine sahip çıkmıştır.
- (...) Ülkemizi, bayrağımızı korumalıyız.
- (...)Özgürlük ve bağımsızlığımıza sahip çıkmalıyız.
- (...) 15 Temmuz, Milli Birlik ve Demokrasi Günüdür.
- (...) Özgürlüğümüz için kendimizi geliştirmeliyiz.
- (...)Bir birey olarak haklarımızı bilmeliyiz.
- (...) Gelecek hedeflerimizi net olarak belirmeliyiz.
- (...)Dünya gündemini takip etmeliyiz.
- (...) Milli bayramlara önem vermeliyiz.