

Adı:.....
Soyadı:.....

YÖNLER TESTİ

D:.....Y:.....
Not:.....



Yukarıda kaç numaralı yer ülkemizin batısındadır?

- A. 4 B. 3 C. 1



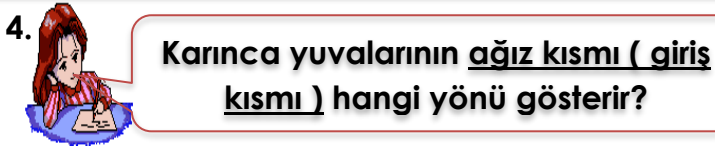
Yukarıda X işareti ile gösterilen bölge ülkemizin hangi yönündedir?

- A. Kuzey B. Güney C. Doğu



Yukarıdaki şehirlerden hangisi kuzeyde yer alır?

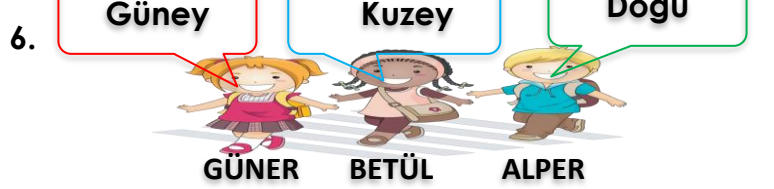
- A. Sinop B. Mersin C. Van



- A. güney B. kuzey C. doğu

5. Hangi ifade yanlıştır?

- A. Güneş her zaman batıdan batar.
B. Ağaçların güney tarafı yosun tutar.
C. Kutup Yıldızı her zaman kuzeyi gösterir.



Güneşin battığı tarafa sol kolumuzu uzatırsak, arkamızın gösterdiği yönü kim doğru söylemiştir?

- A. Alper B. Güner C. Betül



- A. Kutup Yıldızı B. Güneş
C. Ağaçların yosun tutan tarafı

- 8.
- Güneş her zaman doğudan doğar.
Kutup Yıldızı her zaman kuzeyi gösterir.
Karınca yuvalarının girişi kuzeyi gösterir.

Hangi renkteki ifade yanlıştır?

- A. Sarı B. Mavi C. Yeşil

(9. 10 ve 11. Soruları haritaya göre cevaplayın.)



9.) Ankara'nın batısında hangi şehir vardır?

- A. Eskişehir B. Kırıkkale C. Konya

10.) Konya, Ankara'nın neresindedir?

- A. güney B. kuzey C. batı

11. Eskişehir, Ankara'nın batısındadır.
Ankara'nın güneyinde Bolu vardır.
Çankırı, Ankara'nın kuzeyindedir.

Yukarıdaki ifadelerden doğru olanları boyarsak nasıl bir şekil ortaya çıkar?

- A.  B.  C. 

12. Güneşin doğduğu tarafa sağ kolumuzu uzatırsak arkamız olur.

Merve'nin cümlesinde boş yere hangisi gelmelidir?

- A. batı B. güney C. kuzey

13. D Kutup Yıldızı her zaman kuzeyi gösterir.
Y Güneş, güneyden doğar.
Y Ağaçların yosun tutan tarafı kuzeydir.

Ali, yukarıdaki cümlelerden doğru olanların başına D, yanlış olanların başına Y yazacaktır.

Buna göre kaç tanesini doğru yapmıştır?

- A. 3 B. 2 C. 1

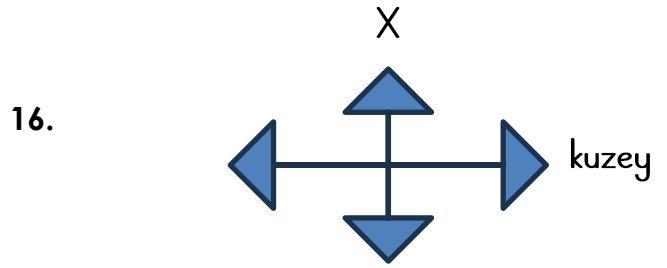
14. Güneşin doğduğu tarafa sağ kolumuzu uzatırsak

Hangisi ile devam ederse doğru olur?

- A. sol kolumuz batıyı gösterir.
B. önümüz güneyi gösterir.
C. arkamız kuzeyi gösterir.

15. Güneşin doğduğu tarafa sağ kolumuzu uzatırsak önümüz hangi yönü gösterir?

- A. güney B. kuzey C. doğu



Yukarıda X, hangi yönü göstermektedir?

- A. Batı B. Güney C. Doğu



Ok işaretinin yönü hangi yönü göstermektedir?

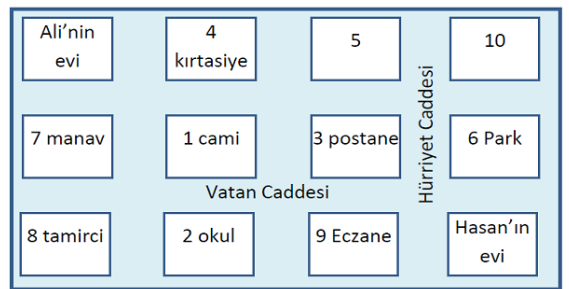
- A. Kuzey B. Doğu C. Güney



Ok işaretinin yönü hangi yönü göstermektedir?

- A. Kuzey B. Doğu C. Güney

(19 ve 20. Soruları krokiye göre cevaplayın.)



19.) Cami'nin güneyinde ne vardır?

- A. Okul B. Kırtasiye C. Manav

20.) Postane, parkın neresindedir?

- A. batısında B. doğusunda
C. güneyinde