

Adı:.....  
Soyadı:.....

# ZAMAN ÖLÇÜSÜ TESTİ

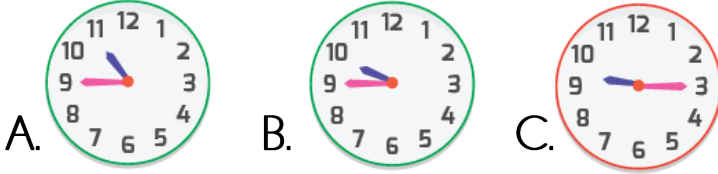
D:.....Y:.....  
Not:.....



Yandaki saatin okunuşu hangisidir?

- A. Sekizi çeyrek geçiyor  
B. Sekize çeyrek var  
C. Dokuz çeyrek var

10'a çeyrek var. Yanda verilen saat hangisine aittir?



Yelkovan 9'un üstünde, akrep ise 12'ye yaklaşmışsa saat kaçtır?

- A. 09.00 B. 12. 45 C. 11.45

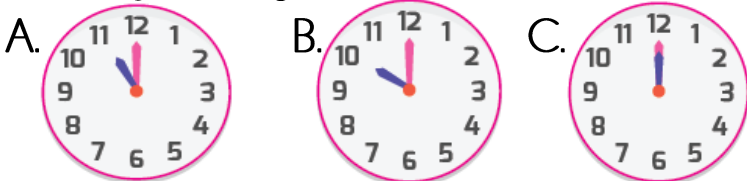
Bir yıl on iki aydır.  
Bir yıl elli iki haftadır.  
Bir yıl otuz gündür.

Hangi renk ifade yanlıştır?

- A. Yeşil B. Kırmızı C. Sarı

Saat 20.00'de yola çıkan araba, iki saat sonra Adana'ya varıyor.

Adana'ya vardığında saat kaç olur?



Üç çeyrek var	03.30
Üç çeyrek geçiyor	02.45
Üç buçuk	03.15

Verilenler eşleştirilse, hangisi doğru olur?



24 saat 1 gün 60 dakika

Ailede hangilerinin söylediği birbirine eşittir?

- A. anne - baba B. anne - çocuk  
C. baba - çocuk

Beşiktaş maçı, akşam dokuz çeyrek kala başlayacaktır.

Buna göre maç kaçta başlayacaktır?

- A. 09.45 B. 08.45 C. 09.15

Hangi ifade yanlıştır?

- A. 8 gün, bir haftadan fazladır.  
B. 2 hafta, 10 günden azdır.  
C. 3 yıl, 36 aya eşittir.

2 gün = 48 saat  
2 ay = 60 gün  
2 gün = 36 saat

Doğru olanlar boyanırsa hangi şekil ortaya çıkar?



(11,12 ve 13. Soruları takvime göre cevaplayın)

Pt	Sa	Ça	Pe	Cu	Ct	Pz
						1
2	3	4	5	6	7	8
9	10	11	12	13	14	15
16	17	18	19	20	21	22
23	24	25	26	27	28	29
30						

11. Ayın ilk Cuma günü hangi güne gelmiştir?


- A. 6 B. 13 C. 7

12. Nisan ayına ait olduğuna göre Ulusal Egemenlik ve Çocuk Bayramı hangi gündür?

- A. Pazartesi B. Perşembe C. Pazar

13. Hafta sonu tatili kaç gündür?

- A. 10 B. 8 C. 9

14.  Dün günlerden çarşamba ise, yarın günlerden ne olur?

- A. Cuma B. Perşembe C. Pazar



Hangisi yukarıdaki saatlere ait değildir?

- A. 15.30 B. 22.15 C. 16.45

16.  4 hafta  30 gün  1 ay

Hangisinin söylediği zaman daha kısadır?

- A.  B.  C. 



17.  Hangi ifade yanlıştır?

- A. Akrep saati, yelkovan dakikayı gösterir.  
B. Çeyrek kala, 45 ile gösterilir.  
C. Buçuk, 15 ile gösterilir.

18.

Dün	Bugün	Yarın
Cuma		★
■		Perşembe

Sembollerle belirtilen yerlere hangisi gelirse doğru olur?


- A.  Pazar  Çarşamba  
B. Pazar Salı  
C. Cumartesi Salı

19. 1 hafta = .... gün 1 yıl = .... ay

1 ay = .... hafta

Hangisi boş yere gelecek sayılardan değildir?

- A. 12 B. 7 C. 30

20.  Yandaki saat aşağıdakilerden hangisidir?

- A. 12.30 B. 06.30 C. 06.00