

UZUNLUK ÖLÇÜLERİ ETKİNLİĞİ

Adı Soyadı.....

Veli İmzası.....

Verilen nesnelerin uzunluklarının "m" veya "cm" ile mi ölçüldüğünü işaretleyin.



m	cm
<input type="checkbox"/>	<input type="checkbox"/>



m	cm
<input type="checkbox"/>	<input type="checkbox"/>



m	cm
<input type="checkbox"/>	<input type="checkbox"/>



m	cm
<input type="checkbox"/>	<input type="checkbox"/>



m	cm
<input type="checkbox"/>	<input type="checkbox"/>



m	cm
<input type="checkbox"/>	<input type="checkbox"/>






m	cm
<input type="checkbox"/>	<input type="checkbox"/>

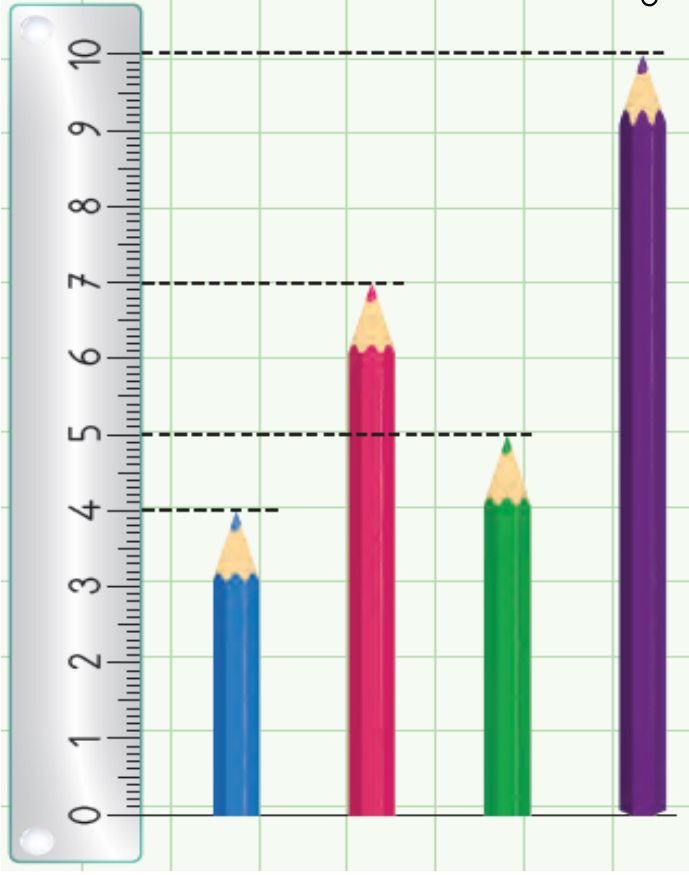


m	cm
<input type="checkbox"/>	<input type="checkbox"/>

Uzunluğu 1 metreden fazla olanları işaretleyelim.



Verilenlere göre soruları cevaplayın.



1. Yeşil kalem kaç santimetredir?
2. Mavi kalem kaç santimetredir?
3. Mor kalem kaç santimetredir?
4. Pembe kalem kaç santimetredir?
5. Yeşil ve mavi kalemin toplamı kaç santimetredir?
6. Mor kalem, mavi kaleminden kaç cm uzundur?
7. Yeşil kalem, pembe kaleminden kaç cm kısadır?

Verilen çubukların istenilen kısım kadarını boyayın.

1. 3 cm =

2. 6 cm =

3. 9 cm =

4. 7 cm =

5. 5 cm =