

Arkadaşım ile anne babalık üzerine biraz sohbet ettik. Bana eşi ve yedi yaşındaki kızlarıyla dışarıya yemeğe çıktıkları bir gece kızının masadaki bardağı devirdiğini anlattı. Masadaki su temizlenip, anne babası üzülmemesini söyledikleri zaman kızı onlara bakmış ve "Biliyor musunuz, size diğer anne babalara benzemediğiniz için teşekkür etmek istiyorum. Arkadaşlarımın çoğunun anne babaları böyle bir durumda onlara bağırır ve bir de daha dikkatli olmaları konusunda onlara söylev çekerler. Böyle bir şey yapmadığınız için size teşekkür ederim!" demiş. Bir seferinde ben arkadaşlarımla yemekten, benzer bir olay oldu. Beş yaşındaki oğulları masaya bir bardak süt döktü. Arkadaşlarım çocuklarına bağirmaya başlayınca, ben de bilerek çarptım ve kendi bardağımı devirdim. 48 yaşında olmama rağmen nasıl halâ aynı şeyi yaptığımı anlatmaya başlayınca, çocuğun gözleri parladı ve anne babası gereken mesajı alıp çocuklarına bağirmaktan vazgeçtiler. Her gün halâ yeni bir şeyler öğrendiğimizi unutmak bazen ne kadar da kolay oluyor. Bu çocuğun tecrübesi henüz bir yetişkin kadar iyi değil. Buna rağmen neden o yetişkine bağirmadığımız halde çocuğa bağırıyoruz?

### Günün Özdeyişi

Anlamını bilmediğiniz kelimeleri sözlükte bulup yazınız, cümle içinde kullanınız.

:.....

Cümle:.....

:.....

Cümle:.....

Metinle ilgili sorulara cevap verin.

1. Arkadaşı ile ne üzerine sohbet etmiş?

.....

2. Kız anne babasına neden teşekkür etmiş?

.....

3. Kadın bardağını neden devirmiş?

.....

Metinle ilgili iki soru yazıp cevaplayın.

1. ....?

.....

2. ....?

.....

Annenize bir şiir yazınız.

.....

.....

.....

.....

.....

.....

.....

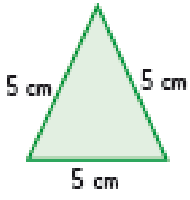
.....

.....

.....

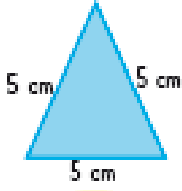
# MATEMATİK - FEN BİLİMLERİ - HAYAT BİLGİSİ

2. Aşağıdaki şeklin çevre uzunluğu kaç cm'dir?

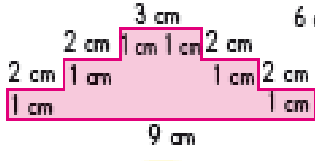


- A. 25 cm
- B. 20 cm
- C. 15 cm

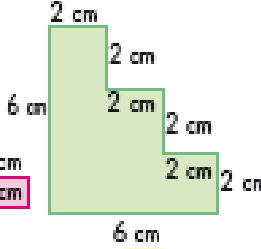
3. Aşağıdaki şekillerin çevre uzunluklarını bularak cevapları ile eşleştiriniz?



26 cm

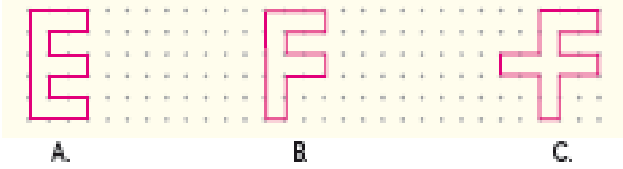


24 cm

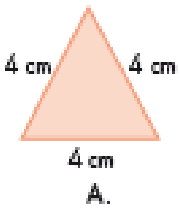


15 cm

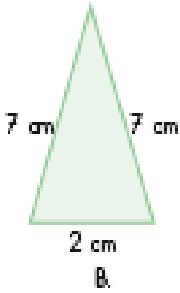
4. Aşağıdaki şekillerden hangisinin çevre uzunluğu en kısadır?



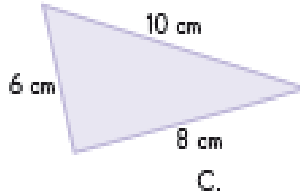
5. Aşağıdaki şekillerden hangisinin çevre uzunluğu 15 cm'den kısadır?



A.

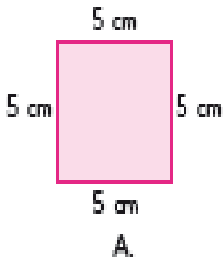


B.

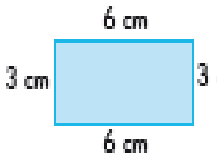


C.

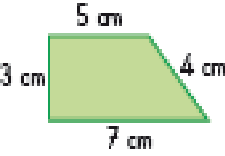
6. Aşağıdaki şekillerden hangisinin çevre uzunluğu en uzundur?



A.



B.



C.

7. Bir dikdörtgenin kısa kenar uzunluğu 15 cm, uzun kenar uzunluğu ise kısa kenar uzunluğundan 25 cm fazladır. Bu bilgilere göre dikdörtgenin çevre uzunluğu kaç cm'dir?

8. Çevre uzunluğu 40 m olan oyun alanının çevresini 10 kere yürüten bir kişi kaç m yol yürümüş olur?

- A. 400 m
- B. 400 cm
- C. 4 m

Verilen cümleleri uygun şekilde tamamlayın.

1. Islak elle elektrikli araçları.....

2. Fişleri prizden çıkarırken.....

3. Elektrik direklerine.....

4. Kablosu sıyrılmış teller.....

5. Kopan elektrik telleri.....

6. Elektrikli eşyaların kullanma.....

Verilen cümleleri uygun şekilde tamamlayın.

1. Kelaynak, çizgili sırtlan gibi hayvanlar.....

2. Canlıların doğal yaşam alanlarını yok edersek.....

3. Bilinçsiz avlanma.....

4. Nesli tükenmekte olan hayvanları .....

5. Orman yangınları.....

6. Sanayi atıklarını.....

Günün Sözü: Dayanılması en zor acılar, insanın içinde gizlediği acılardır. **Honore de Balzac**