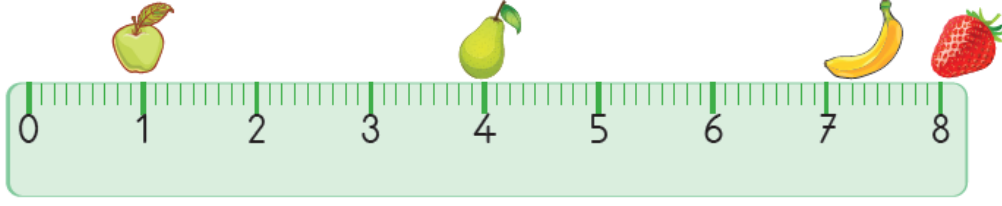


# UZUNLUK ÖLÇÜLERİ ETKİNLİĞİ


Adı Soyadı.....

Veli İmzası:.....

Soruları cetvele göre cevaplayın.

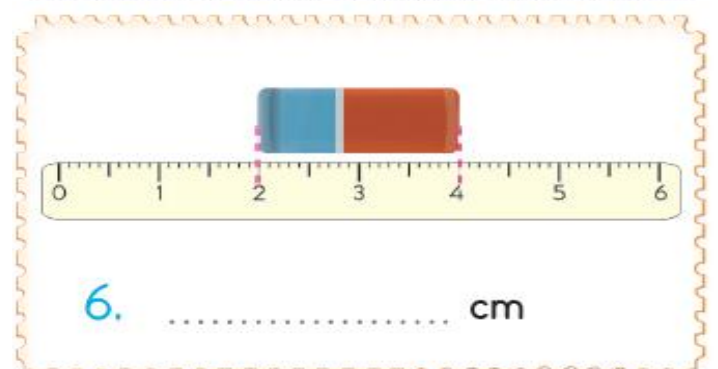
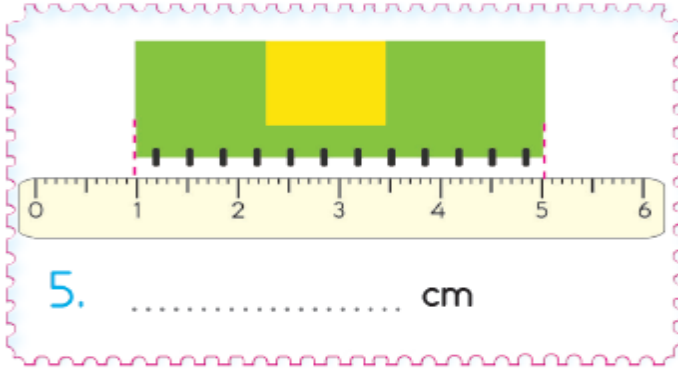
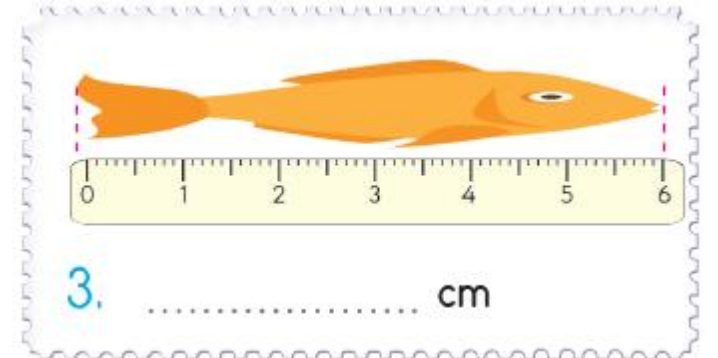
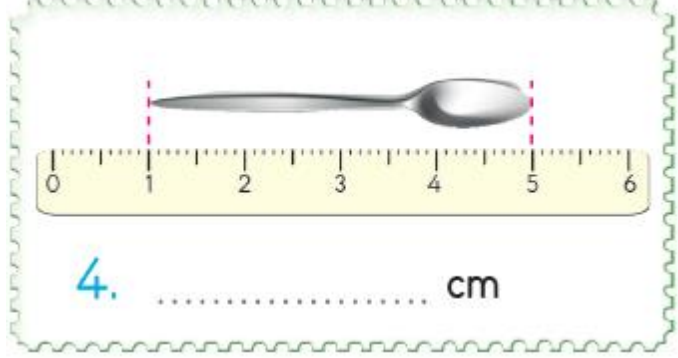
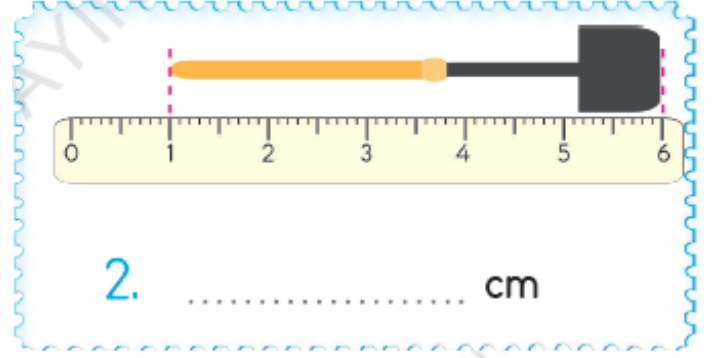
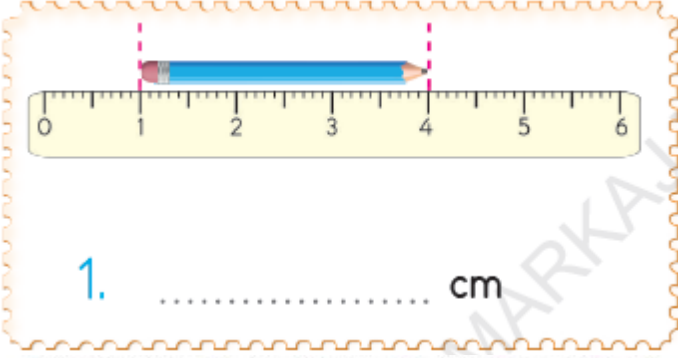


1. Elma ile armut arası.....santimetredir.
2. Çilek ile armut arası.....santimetredir.
3. Elma ile muz arası.....santimetredir.
4. Elma ile çilek arası.....santimetredir.
5. Muz ile armut arası.....santimetredir.
6. Muz ile çilek arası.....santimetredir.



1. Kalemin boyu.....santimetredir.
2. Kalemтірашın boyu.....santimetredir.
3. Silginin boyu.....santimetredir.
4. Kalem, silgiden .....santimetre uzundur.
5. Kalem, kalemтіраштан .....santimetre uzundur.
6. Silgi, kalemтіраштан.....santimetre uzundur.

Verilen nesnelerin uzunluklarını altlarına yazın.



Verilen standart ölçme araçlarının adlarını altlarına yazın.



Cetvel

Mezura

.....

.....



Şerit metre

Katlanabilir metre

.....

.....