

Bir kenarı 13 cm olan karenin çevresi kaç cm olur?

Kısa kenarı uzun kenarının yarısı olan bir dikdörtgenin kısa kenarı 10 cm'dir. Çevresi kaç cm'dir?

Çevresi 80 cm olan dikdörtgenin kısa kenarı 15 cm'dir. Uzun kenarı kaç cm olur?

Uzun kenarı kısa kenarın iki katı olan dikdörtgenin çevresi 60 cm'dir. Uzun kenar kaç cm'dir?

Bir kenarı diğerinin iki katı olan bir üçgenin çevresi 60 cm'dir. en uzun kenar kaç cm olur?

Bir kenarı 18 cm olan bir beşgenin çevresi kaç cm olur?

Çevresi 80 cm olan bir karenin, bir kenarı kaç cm'dir?

Bir kenarı 30 m olan kare biçiminde bahçenin çevresine 5 tur tel çekersek kaç m tel gerekir?

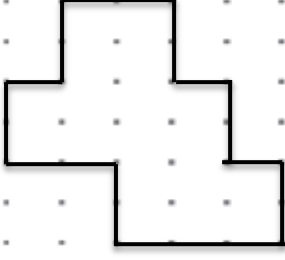
Kare biçiminde bahçeme 3 sıra tel çektim. 300 m tel kullandığıma göre bir kenarı kaç m'dir?

Bir kenarı diğerinin iki katı olan bir üçgenin en kısa kenarı 5 cm'dir. Çevresi kaç cm olur?

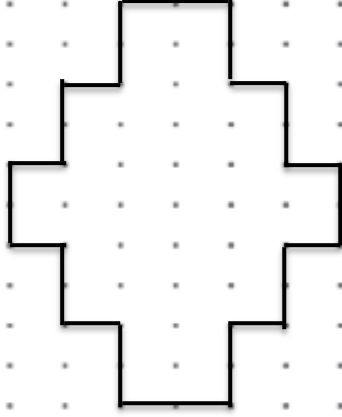
Kare biçimindeki bahçemin etrafına 5 m aralıklarla 20 ağac diktim. Bir kenarı kaç m'dir?

Çevresi 96 cm olan bir altıgenin bir kenarı kaç cm olur?

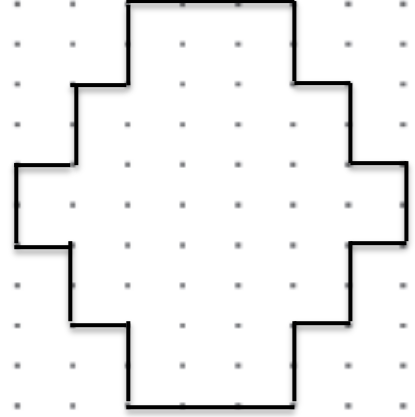
Aşağıda verilen şekillerin çevrelerini hesaplayın yazın.



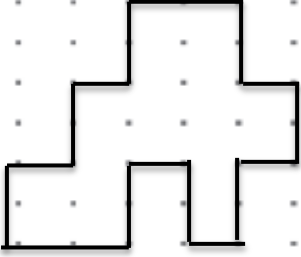
Çevre:.....birim



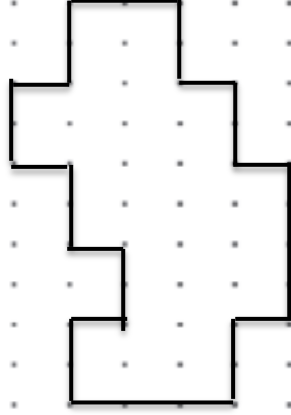
Çevre:.....birim



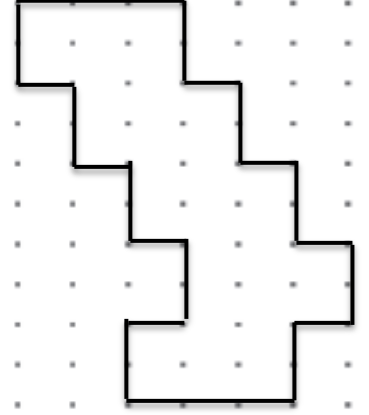
Çevre:.....birim



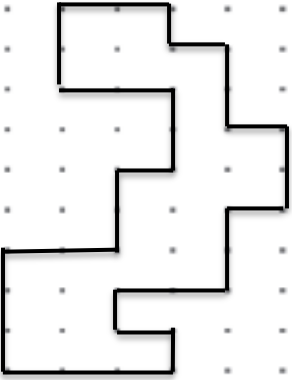
Çevre:.....birim



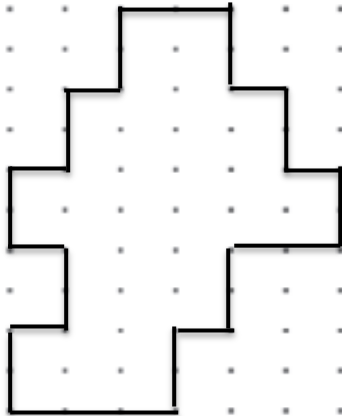
Çevre:.....birim



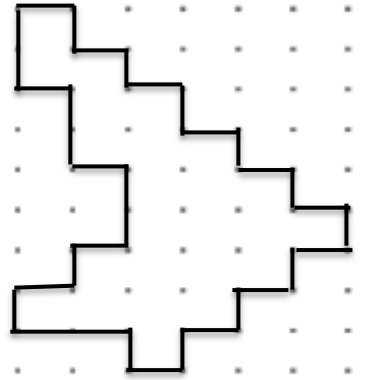
Çevre:.....birim



Çevre:.....birim



Çevre:.....birim



Çevre:.....birim