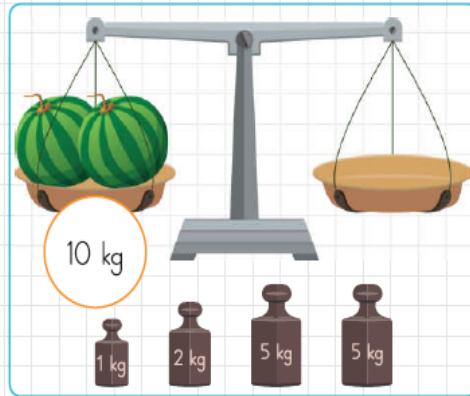
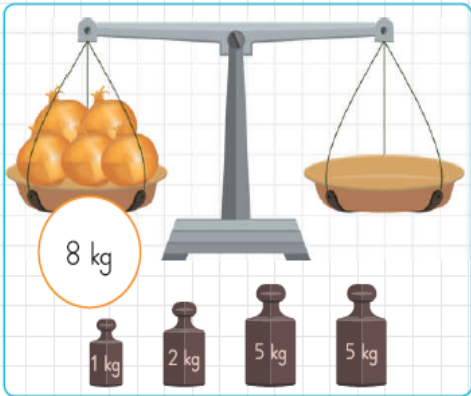
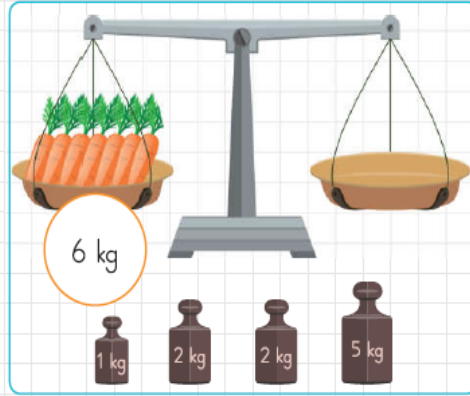
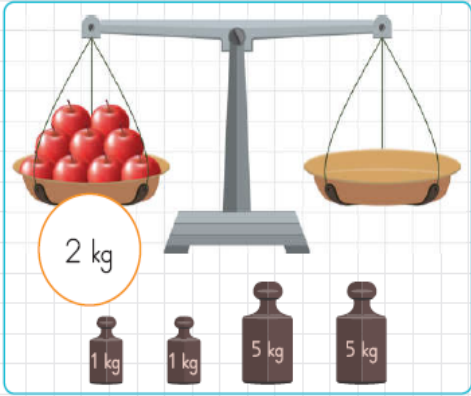
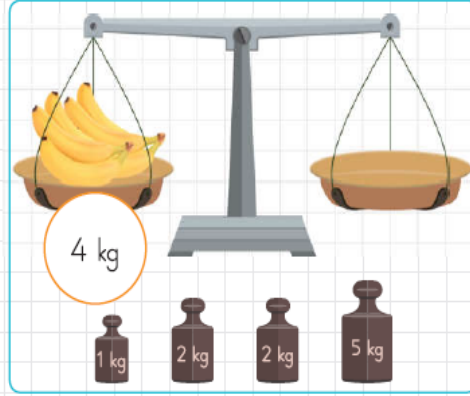
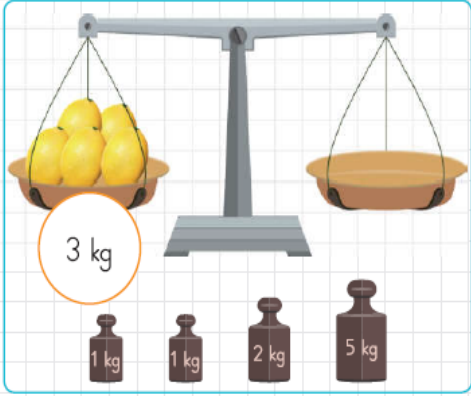


Sizden istenilenleri yapınız.

► Aşağıdaki terazilerde ağırlığı verilen ürünlerin ağırlık kefesine hangi ağırlıklar konulmalıdır? Örnekteki gibi yuvarlak içine alalım.



Sizden istenilenleri yapınız.

Aşağıdaki tablolarda Demir ailesinin nisan, mayıs ve haziran aylarına ait giderleri gösterilmiştir. (Renkli bölümler ne kadar tüketildiğini göstermektedir.)

Nisan	Mayıs	Haziran
Su	Su	Su
Elektrik	Elektrik	Elektrik
Doğal gaz	Doğal gaz	Doğal gaz
Telefon	Telefon	Telefon

Tabloya göre soruları cevaplayalım.

1. Demir ailesi en çok elektriği hangi ay tüketmiştir?
.....
2. Nisan ayı bütçesinde en çok fatura gideri hangisine aittir?
.....
3. Üç aylık süreçte düzenli olarak azalan fatura giderleri hangileridir?
.....
4. Demir ailesi su faturası için en az parayı hangi ay ödemiştir?
.....

Aşağıdaki ifadelerden doğru olanları işaretleyelim.

- Çamaşır ve bulaşık makinesini tam doldurmadan çalıştırmalıyız.
- Odamızda birden çok aydınlatma aracı kullanmamalıyız.
- Elektrikle çalışan araçları kapatırken fişini prizden çıkarmalıyız.
- Kıyafetlerimizi ve ayakkabımızı özenli kullanmalıyız.
- Soğuk havalarda kapı ve pencereleri açmalıyız.
- Tüketeceğimizden fazla gıda almalıyız.