

Adı:.....  
Soyadı:.....





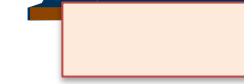



## TARTMA ETKİNLİĞİ

Veli imzası

Aşağıda verilenlerden terazi ile ölçülenleri işaretleyin.



Verilen varlıkların kütlelerini bulup altlarına yazın.



Verilen tartma problemlerini çözün.

Zeynep 55 kg'dır. Öykü, Zeynep'ten 17 kg zayıftır. İkisinin kilolarının toplamı kaç olur?

80 kg çimentonun ne kadarını kullanırsak 12 kg çimento kalır?

Ali 25 kg; Ece Ali'den 6 kg zayıf; Eda ise Ece'den 3 kg şişmandır. Üçü toplam kaç kg'dır?

90 kg'lık asansöre 25, 30 ve 33 kiloluk üç kişi bindi. Asansörde ne kadarlık yer kaldı?

Bir manav 10 kg elma kasasından 5 tane aldı. Elmaların 23 kilosunu sattı. Kaç kg elma kaldı?

Bir kamyonete önce 37 kg, sonra ise 56 kg yük kondu. Kamyona kaç kg yük kondu?