

İstanbul, tarih boyunca bir çok millet tarafından ele geçirilmek istenmiş ama kimse bunu başaramamıştı. Bizanslılar, şehrin etrafını saran surlara çok güveniyorlardı. Henüz 21 yaşında olan Sultan Mehmet'in en büyük hayali İstanbul'u fethetmekti. Bunun için gereken hazırlıkları yaptı. Bizans'a yardım gitmesini engellemek için boğazın kenarına bir hisar yaptırdı. Hazırlıklar bittikten sonra 6 Nisan 1453 tarihinde kuşatma başladı. Bizanslılar, Osmanlı Donanmasının Haliç'e girmesini engellemek için Haliç'i zincirle kapatmışlardı. Bunun üzerine Sultan Mehmet, gemileri karadan yürüterek gemileri Haliç'e indirdi. O zamana kadar görülmemiş büyüklükteki topları bizzat Sultan Mehmet kendi çizip döktürdü. 53 gün süren bu kuşatmalar sonunda surlarda gedik açan Osmanlı ordusu 29 Mayıs 1453'te İstanbul surlarına bayrağı dikerek İstanbul'u fethetti. İstanbul'un Fethi, bir çağ kapatıp bir çağ açtı. Sultan Mehmet'e Fatih unvanı verildi. Fatih Sultan Mehmet, ilk iş olarak Ayasofya'yı cami haline getirdi ve 2 Haziran'da ilk cuma namazı kılındı. İstanbul'un Fethi ile Fatih Sultan Mehmet, Peygamber Efendimizin müjdesine nail olmuş oldu. Bu yıl İstanbul'un fethinin 570. Yıl dönümünü kutlamaktayız.

Metinle ilgili sorulara cevap verin.

1. İstanbul ne zaman fethedilmiş?

.....
.....

2. Sultan Mehmet' neden Fatih unvanı verilmiş?

.....
.....

3. Peygamber Efendimiz 'in müjdesi neymiş?

.....
.....

Metinle ilgili iki soru yazıp cevaplayın.

1.?

.....
.....

2.?

.....
.....

Verilen kelimeleri kullanarak bir öykü oluşturun.

doğum günü

kutlama

hediye

yaş pasta

mum

yaş

Günün Özdeyişi

Anlamını bilmediğiniz kelimeleri sözlükte bulup yazınız, cümle içinde kullanınız.

.....
.....

Cümle:.....

.....
.....

Cümle:.....

Günün Sözü: Günleri hatırlamıyoruz, anları hatırlıyoruz. **Cesare Pavese**

ALİŞTIRMALAR



- 1 Aşağıdaki masanın yüzeyine aynı büyüklükte tahminen kaç kitap yerleştirebiliriz?



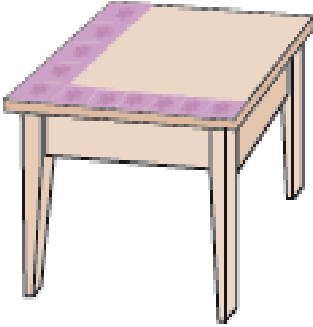
A. 12

B. 7

C. 5



- 2 Aşağıdaki masa kaç tane peçete ile kaplanır?



A. 25

B. 30

C. 35

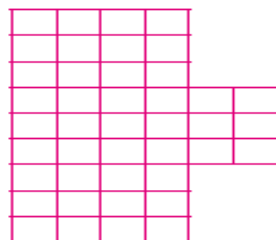
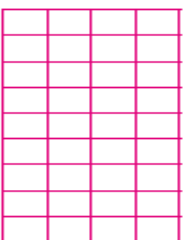

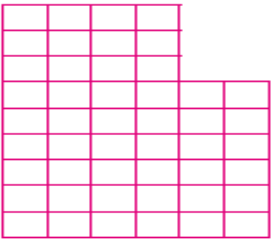
- 3 Bir masanın yüzey alanını standart olmayan ölçülerle bulmak için aşağıdaki yöntemlerden hangisini uygulamalıyız?

A. Elmalan yan yana dizeyiz.

B. Kare şeklindeki mendilleri yan yana dizeyiz.

C. Kitap ve defterleri beraber masanın üzerine dizeyiz.

1. Aşağıdaki şekillerin karolarını sayarak kaç birim kareden oluştuğunu bulunuz.



Verilen resim ile ilgili düşüncenizi yazınız.



Ülkemizde nesli tükenmekte olan bitki ve hayvanları araştırarak yazınız.