

Tavuğu 5, papağanı 50 akçeye satan adama Hoca sorar:

-Hemşerim bu nasıl kuş 50 akçe istersin?

-Hocam bu kuşa papağan derler ve konuşur. Hoca hemen eve koşar, kümesten hindisini kaptığı gibi pazara döner, başlar bağırmaya :

-Bu gördüğünüz kuş sadece 100 akçeye, gel, gellll!

Herkesten çok papağan satan şaşar bu ise ve sorar:

-Hocam 100 akçe çok değil mi bir hindi için?

-Sen 50 akçeye satıyorsun ya ama...

-Dedim ya hocam benim kuş konuşur ama...

-Öyleyse, benimki de düşünür! Demiş hoca.

Sorular :

1.) Pazarda papağanı kaçaya satıyorlarmış?

.....

2.) Hoca hindiyi kaçaya satmak istemiş?

.....

3.) Pazarda tavuğu kaçaya satıyorlarmış?

.....

Aşağıda verilen öyküyü hayal gücünüzü kullanarak tamamlayınız ve bir başlık bulunuz.

.....

Yaz mevsimi geldi işte. En sevdiğim mevsim yazdır benim. Yaz geldiğinde çok mutlu olurum. Tatilde gezmesini çok severim. Bu yaz annem babam beni köye götürecek. Ben köyü çok severim.....

.....

.....

.....

.....

.....

.....

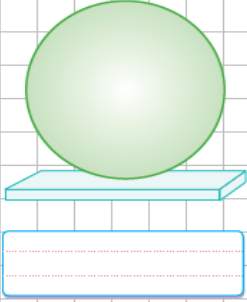
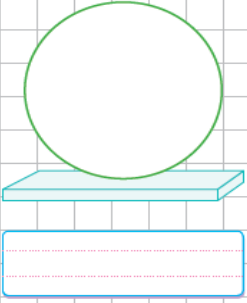
.....

.....

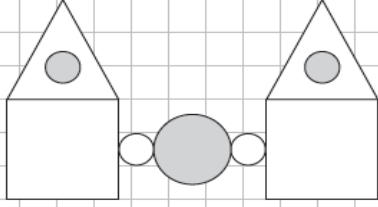
.....

.....

A. Önce yandaki şekillerin isimlerini yazalım. Sonra şekillerde kullanılan üçgen, kare, dikdörtgen, çember ve daire sayısını yazalım.



a.



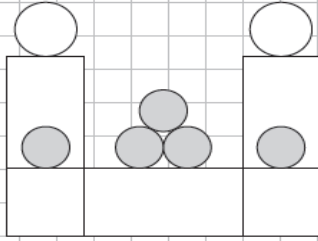
üçgen (.....)

kare (.....)

çember (.....)

daire (.....)

b.



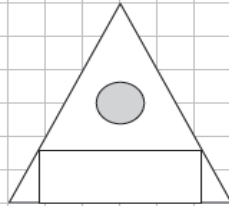
kare (.....)

dikdörtgen (.....)

çember (.....)

daire (.....)

c.



üçgen (.....)

daire (.....)

dikdörtgen (.....)

Verilen sanatların isimlerini yazın.



.....



.....



.....



.....



.....



.....

Mahmut Çürük