

İsveç'te bir gün caddede yürürken önümde sarışın bir çocuk (5 yaşlarında) yere düştü, annesi önde gidiyordu ve telefonla konuşuyordu, anne sakin, dönüp gözünün köşesiyle çocuğa baktı ve konuşmaya devam etti. Ben ise, "vay vicdansız anne, ne olacak bu Avrupalılar böyle duyarsız" dedim kendi kendime ve bekledim, konuşması bitince yaklaştım, selam verdim ve neden çocuğu kaldırmadığını sordum. Bana şöyle cevap verdi; "Siz İngilizce konuşuyorsunuz, muhtemelen yabancısınız, İsveç kültürünü bilmeyebilirsiniz, ama biz düşen çocukları kaldırmayız, yoksa hayat boyu arkalarında birini beklerler, o kendisi kalkar" dedi... Sonra kendi milletimi düşündüm. En ufak bir şeyde çocuklarının üzerine fitreyen, çocuklarının önündeki bütün engelleri kendileri kaldıran anne babaları hatırladım. Her olumsuz durumda aile desteğine alışmış bir çocuğun, kendi başına kaldığında ilk darbeye nasıl da savrulduğunu düşündüm. Zorluklarla mücadele etmeyi öğrenmeden bir anda büyüyen gençler nasıl da sudan çıkmış balıklar gibi oluyor. Aşırı korumacı aile yapımız nedeni ile çocuklarımız bir sorun ile karşılaştığında ne yapacağını bilemiyorlar. Kendini ifade etmekten bile aciz bireyler olup çıkıyorlar. Çocuklarımız üzerinde aşırı korumacı tutumumuz ile aslında onlara zarar mı veriyoruz diye kendime sormadan edemedim.

Günün Özdeyişi

Anlamını bilmediğiniz kelimeleri sözlükte bulup yazınız, cümle içinde kullanınız.

:.....

Cümle:.....

:.....

Cümle:.....

Metinle ilgili sorulara cevap verin.

1. Adam, kadına neden kızmış?

.....

2. Anne düşen çocuğu neden kaldırmamış?

.....

3. Metnin ana fikri nedir?

.....

Metinle ilgili iki soru yazıp cevaplayın.

1.?

.....

2.?

.....

Metinde geçen bir varlığı niteleyen kelimeleri yazın.

.....

Metinde geçen sestesh kelimeleri yazın.

.....

Metinde geçen eş anlamı olan kelimeleri yazın.

.....

Metinde geçen zıt anlamı olan kelimeleri yazın.

.....

MATEMATİK - FEN BİLİMLERİ - HAYAT BİLGİSİ

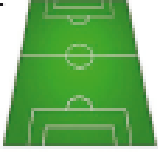
ALAN



ALİŞTİRMALAR

1. Aşağıdakilerden hangisinin alanı daha büyüktür?

A.



B.



C.

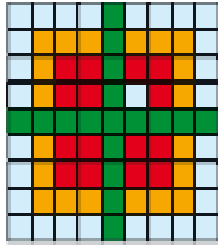


2. Aşağıdaki hangi renge alt birim karenin alanı en fazladır?

A. Kırmızı

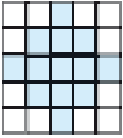
B. Yeşil

C. Turuncu




3. Taralı alanların büyüklüklerine göre doğru sıralanışı aşağıdakilerden hangisidir?

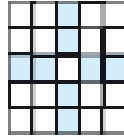
I.



II.



III.



A. I > III > II

B. II < I < III


C. I < II < III

4. Aşağıdaki dikdörtgenel bölgenin alanı kaç kitapla kaplanabilir?


A. 8

B. 9

C. 10



Aşağıdaki kareli kağıtta verilen robot kaç birimkareden oluşmuştur?



Alan = birimkare

Verilen çoktan seçmeli soruları cevaplayınız.

1. Elektrikle ilgili hangi ifade yanlıştır?

A. Hiçbir zararı yoktur.

B. Dikkat edilmezse insanı öldürebilir.

C. Üretimi maliyetlidir.

2. Elektriği geçiren maddelere ne denir?

A. iletken

B. yalıtkan

C. trafo

3. Şehir elektriğini kullandığımız yerler neresidir?

A. priz

B. trafo

C. direk

4. Hangi ifade yanlıştır?

A. Fişler sağ elle takılır.

B. Fişler sol elle takılır.

C. Prizlere kapak takılmalıdır.

5.çevresinde oynamak tehlikelidir.

Cümlesinde boş bırakılan yere hangisi gelmelidir?

A. okul

B. trafo

C. bahçe

Verilen çoktan seçmeli soruları cevaplayınız.

1. Aşağıdaki ifadelerden hangisi yanlıştır?

A. Her atığın geri dönüşümü olur.

B. Geri dönüşüm çevreyi korur.

C. Geri dönüşüm sayesinde paramız bizde kalır.

2. Hangisinin geri dönüşümü olmaz?

A. plastik

B. cam

C. kumaş

3. Hangisinin ham maddesi petroldür?

A. cam

B. plastik

C. kağıt

4. Aşağıdaki ifadelerden hangisi yanlıştır?

A. Kağıt, ağaçtan yapılır. B. Cam, petrol ürünüdür.

C. Plastik, petrolden yapılır.

5. "Plastiğin ham maddesi.....dur."

Cümlesinde boş bırakılan yere hangisi gelmelidir?

A. petrol

B. cam

C. ağaç

Günün Sözü: Kar gibi yeryüzünü kaplasan da, güneşin varlığıyla kaybolup gidersin. Hz Mevlana