

Nasreddin Hoca bir gün yolda yürürken yanına bir adam yaklaşıp sorar:

- Hocam, şimdi bir ayı gelse ne yaparsın? Hoca yerden iki taş alıp kendimi savunurum, demiş. Adam tekrar:
- Diyelim taş yok o zaman peki? Hoca bu sefer
- Kaçarım, demiş. Adam da;
- Ayı senden hızlı koşar ve seni yakalar, o zaman ne yapacaksın? Hoca;
- Ağaca çıkarım, demiş. Adam tekrar;
- Ayı da ağaca çıkar, o zaman ne yapacaksın? Hoca artık dayanamayıp:
- Be adam sen benden mi, yoksa ayıdan mı yanasın?

Sorular :

1.) Adam, Hoca'ya ne sormuş?

.....

2.) Hoca, adama neden kızmış?

.....

3.) Hoca, ayıdan kendini nasıl savunacaktı?

.....

Aşağıdaki resimlere bakarak ne anlatıldığını birkaç cümle ile yazın.



.....

.....

.....

.....

.....

.....

.....

.....

.....

.....

.....

.....

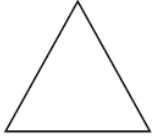
Boşlukları dolduralım.



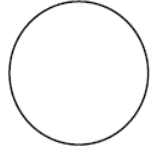
Şeklin adı:.....
Köşe sayısı:.....
Kenar sayısı:.....



Şeklin adı:.....
Köşe sayısı:.....
Kenar sayısı:.....





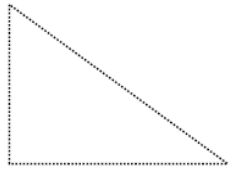
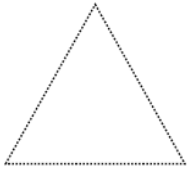


Şeklin adı:.....
Köşe sayısı:.....
Kenar sayısı:.....



Şeklin adı:.....
Köşe sayısı:.....
Kenar sayısı:.....

Geometrik şekillerin kenarlarını kırmızı ile, köşelerini mavi ile belirtin.



Aşağıdaki boşluğa ikiye tane kare, dikdörtgen, üçgen ve daire çizin. Kareleri kırmızıya, dikdörtgenleri maviye, üçgenleri sarıya, daireleri yeşile boyayın.

Aşağıdaki cümlelerde doğru olanlarda güler yüzü, yanlış olanların üzgün yüzü boyayalım.



Güneş bize en yakın yıldızdır.




Ay, Güneş'ten gelen ışığı yansıtır.



Dünya, bir gezegendir.



Ay, Dünya'nın uydusudur.



Güneş, ısı ve ışığı kaynağıdır.



Ay, ısı ve ışık kaynağıdır.



Yıldızlar çok uzak olduğu için küçük görünür.



Güneş, Dünya'nın etrafında döner.



Sadece Dünya'da hayat vardır.



Dünya, Ay'dan daha büyüktür.



Güneş, Dünya ve Ay'dan büyüktür.



Güneş'ten daha büyük yıldızlar vardır.



Uzayda sadece yıldızlar vardır.



Ay, bütün gezegenlerden büyüktür.