





Yönergeleri takip ederek ulaşılan meyveleri yazalım.

1




Ece, 2 kare yukarı, 1 kare sağa giderse hangi meyveye ulaşır?

2




Tuna, 3 kare yukarı, 2 kare sağa giderse hangi meyveye ulaşır?

3




Can, 3 kare sağa, 3 kare yukarı giderse hangi meyveye ulaşır?

4




Aslı, 3 kare yukarı, 2 kare sağa giderse hangi meyveye ulaşır?

5



Aras, 2 kare yukarı, 3 kare sola giderse hangi meyveye ulaşır?

6




Tuğçe, 3 kare yukarı, 3 kare sola giderse hangi meyveye ulaşır?

Sizden istenilenleri yapınız.

► Görsellerde ülkemize katkıda bulunmuş insanlar verilmiştir. Bu insanların yaptığı çalışmalarını araştırarak kısaca yazalım.



Aziz Sancar



Naim Süleymanoğlu



Sabiha Gökçen



Alper Gezeravcı

► Bilim insanlarının sahip olduğu özelliklerin kutusunu işaretleyelim.

- Farklı ve yenilikçi fikirleri vardır.
- Başkalarının fikirlerini önemsemezler.
- Çok soru sorarlar ve soruların cevaplarını araştırırlar.
- Bir çalışmaları başarısız olursa vazgeçerler.
- Doğru ve güvenilir bilgiyi ayırt edebilirler.
- Üretken ve öz denetim sahibidirler.
- Çalışmalarını kimseye anlatmazlar.
- Kendilerine güvenirlere.