



SINIFIM

Sınıftaki ilk günüm,
Nasıl da ürkektim.
Yeni bir heyecanla,
Çarpardı yüreğim.

Kalemim, defterim,
Atatürk'üm var benim.
Her şeyi öğretir.
Canım öğretmenim.

Ömer USLU

1 ve 2. soruyu yukarıdaki şiire göre cevaplayalım.

1. Çocuğun sınıftaki ilk günü nasılmış?

- A) korkak
B) ürkek
C) sevinçli

2. Herşeyi kim öğretirmiş?

- A) Atatürk
B) ailesi
C) öğretmeni

3.

"Sabah erken
uyandım."

Yukarıdaki cümlede kaç tane sesli-ünlü harf vardır?

- A) 17
B) 7
C) 6

4. Aşağıdaki noktalama işaretlerinden hangisi cümlenin sonuna gelmez?

- A) ? Soru işareti
B) ● Nokta
C) , Virgül

5. Hangi sözcük hecelerine yanlış ayrılmıştır?

- A) pırasa → pır-a-sa
B) kitaplık → ki-tap-lık
C) sinema → si-ne-ma




6. Aşağıdakilerden hangisi cümle değildir?

- A) Kitap okumayı severim
B) Temizliğime dikkat ederim
C) Dişlerimi mutlaka


1



2




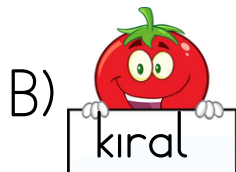
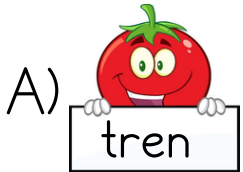
3



7. Yukarıdaki elmayı yeme sırasına göre sıraladığımızda oluş sırası nasıl olur?

- A) 1-2-3
B) 2-3-1
C) 2-1-3

8. Aşağıdaki kelimelerden hangisi doğru yazılmıştır?



9. Hangi seçenekteki paranın değeri daha fazladır?




- A) 5 TL banknote and 3 x 1 TL coins
- B) 10 TL banknote and 5 x 1 TL coins
- C) 10 TL banknote, 5 TL banknote, and 2 x 1 TL coins

10. 6 TL'ye silgi, 12 TL'ye kalem alan Göktürk, satıcıya aşağıdaki hangi parayı vermeleidir?




- A) 10 TL banknote and 3 x 1 TL coins
- B) 10 TL banknote and 5 x 1 TL coins
- C) 5 TL banknote, 5 TL banknote, and 2 x 1 TL coins



11. Aşağıdaki geometrik cisimlerden hangisinin köşesi ve kenarı vardır?

- A)  B)  C) 

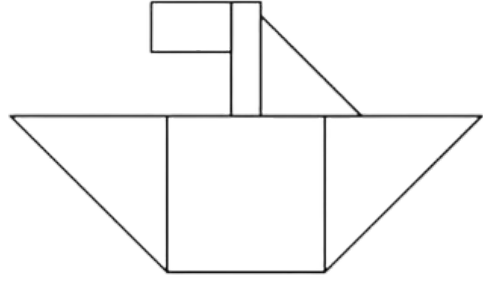
12. Hangi geometrik cismi kullanarak üçgen çizebiliriz?

- A)  B)  C) 

13. Tanesi 5 TL olan ekmeklerden 3 tane alan İpek, fırına kaç TL öder?

- A) 8 B) 10 C) 15

14.






Yukarıdaki görseldeki üçgen, dikdörtgen ve kare sayısı kaç tanedir?

- A) 3 üçgen, 2 dikdörtgen, 1 kare
B) 2 üçgen, 2 dikdörtgen, 1 kare
C) 3 üçgen, 2 dikdörtgen, 2 kare

→ 4 kenarım var.

→ İki tane uzun kenarım, iki tane kısa kenarım var.

15. Yukarıda özellikleri verilen geometrik şekil aşağıdakilerden hangisidir?

- A)  B)  C) 






16.



Kaç tanesi bir bilim insanının özelliği olabilir?

- A) 3 B) 2 C) 1



17. Yukarıdaki atıklardan kaç tanesinin geri dönüşümü yapılabilir?

- A) 3 B) 2 C) 1



18. Yukarıdaki atık pil ile ilgili aşağıdakilerden hangisi yanlıştır?

- A) Atık pil kutusuna atılmalıdır.
B) Toprağa gömülmelidir.
C) Piller ile oynamamalıdır.

19. Aşağıdaki teknolojik araçlardan hangisi ulaşım alanında kullanılır?



20. Aşağıdaki bilgilerden hangisi yanlıştır?

- A) Teknolojiyi istediğimiz kadar kullanabiliriz.
B) Teknoloji hayatımızı kolaylaştırır.
C) İnternette özel bilgilerimizi ve fotoğraflarımızı paylaşmak tehlikelidir.



Adı Soyadı: _____

D: _____

Y: _____

1.SINIF

1. (A) (B) (C)
2. (A) (B) (C)
3. (A) (B) (C)
4. (A) (B) (C)
5. (A) (B) (C)
6. (A) (B) (C)
7. (A) (B) (C)
8. (A) (B) (C)
9. (A) (B) (C)
10. (A) (B) (C)

11. (A) (B) (C)
12. (A) (B) (C)
13. (A) (B) (C)
14. (A) (B) (C)
15. (A) (B) (C)
16. (A) (B) (C)
17. (A) (B) (C)
18. (A) (B) (C)
19. (A) (B) (C)
20. (A) (B) (C)

1.B 2.C 3.B 4.C 5.A 6.C 7.B 8.A 9.C 10.A

11.C 12.A 13.C 14.A 15.B 16.A 17.B 18.B 19.C 20.A

