

Adı:.....
Soyadı:.....

UZUNLUK VE KÜTLE TESTİ

D:.....Y:.....
Not:.....



1. Cem=11 Nil=15 Ali=12

Cem, Ali ve Nil sıralarının boyunu karışla ölçtüler. Buna göre hangi ifade yanlıştır?

- A. Cem'in karışı, Ali'nin karışından küçüktür.
B. Nil'in karışı, Cem'in karışından küçüktür.
C. Ali'nin karışı, Nil'in karışından büyüktür.



2. Çubuğun boyu kaç santimetredir?
A. 11 B. 7 C. 6

3., parçaya bölünmüş, her parçasına.....denilmiştir.

Boş yerlere sırasıyla hangisi gelmelidir?

- A. m - 10 - cm B. m - 100 - cm
C. cm - 100 - m

4. A 3cm B 4cm C 5cm D 2cm E F
Buna göre hangisi doğrudur?

- A. AC = CE B. BD = AE
C. BC = CD



5. Verilenlerin ismi sırasıyla hangisidir?

- A. kırık metre - mezura - şerit metre
B. mezura - kırık metre - şerit metre
C. mezura - şerit metre - kırık metre



6. Verilenlerin isimleri sıra ile hangisidir?

- A. karış - ayak - adım
B. kulaç - ayak - adım
C. kulaç - adım - ayak

7. A B C D E F

Üsteki 5 çizgi birbirine eşittir. AF = 25 ise AC kaç olur?

- A. 5 B. 10 C. 15

8	1	2	3	Üç cismin hangi uzunluk ölçüsü ile ölçüldüğü verilmiştir.
cm	X		X	
m		X		

Buna göre bu cisimler hangisi olabilir?

- A. 1=silgi 2=kalem 3= defter
B. 1=silgi 2= ağaç 3= kalem
C. 1=ağaç 2= kalem 3= silgi

9. Ali'nin karışı= 15cm Nil'in karışı= 10 cm


Ali, sırayı ölçünce 6 karış gelmiştir. Buna göre Nil ölçerse kaç karış gelebilir?

- A. 9 B. 6 C. 4

10. Elin baş parmağı ile serçe parmağı arasındaki mesafeye ne denir?

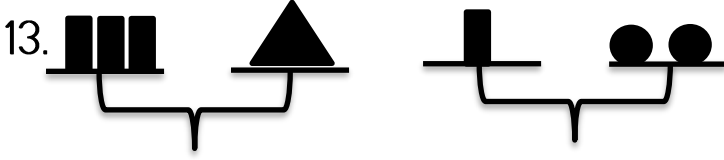
- A. kulaç B. parmak C. karış



11. Hangisi ile kütle ölçülmez?



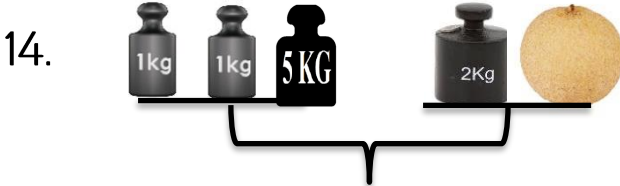
Verilenler ağırdan hafife sıralanırsa sıralama nasıl olur?

A. 1-2-3-4 B. 2-4-3-1 C. 2-4-1-3



Yukarıda  30 g ise,  kaç gramdır?

A. 10 B. 15 C. 5



Buna göre kavun kaç kilogramdır?

A. 5 B. 6 C. 4

15.

	1	2	3
g		X	
kg	X		X

 Üç cismin hangi kütleye sahip oldukları verilmiştir.

Buna göre bu cisimler hangisi olabilir?

A. 1 = fil 2 = sinek 3 = kelebek
B. 1 = köpek 2 = tırtıl 3 = kedi
C. 1 = kedi 2 = köpek 3 = kuş

16.  25 kg  22 kg  18 kg

 En az kaç kilo alırsa en ağır olur?

A. 7 B. 8 C. 6



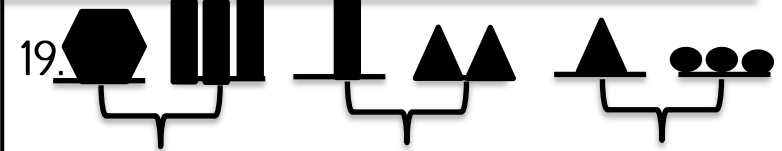
Ailede kimin dediği terazi ile ölçülmez?



A. anne B. baba C. çocuk



Hangisi yapılsa terazide eşitlik sağlanmaz?

A. 1. kefeden 2 kg ağırlık çıkarmak
B. 2. kefeye 1 kg ağırlık koymak
C. 1. kefeden 1 kg ağırlığı 2. kefeye koymak



Verilen terazilerde  = 5 gram olduğuna göre  = kaç gramdır?

A. 90 B. 45 C. 60



A. 5 kg B. 4 kg C. 6 kg