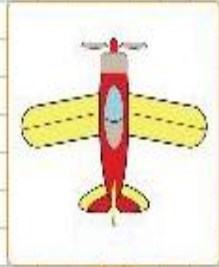




Aşağıdaki problemleri çözünüz.

Görselleri inceleyelim. Simetri çizgisi çizilebilen görsellerin altındaki yuvarlağ işaretleyelim.



Sizden istenilenleri yapınız.

Aşağıda telefonun geçmişte ve günümüzde kullanılan modellerine örnekler verilmiştir. Görselleri inceleyip benzer ve farklı yönlerini yazalım.



Ahizeli Telefon



Akıllı Telefon

?

Benzer Yönleri

.....

.....

.....

.....

?

Farklı Yönleri

.....

.....

.....

.....

Aşağıdaki ifadelerde doğru olanların kutucuğunu "✓" ile işaretleyelim.

- Teknolojik ürünler uzun uğraşlar sonucu ortaya çıkmıştır.
- Teknolojik ürünler günümüzde kullanılan şekli ile üretilmiştir.
- Bilimsel gelişim için merak duygusu gerekir.
- Merak duygusu ürünleri keşfetmemizi zorlaştırır.
- İhtiyaçlarımıza göre teknolojik ürünler gelişir ve değişir.