



## KİTAP

Göktürk, Selin ve Elif Ordu'da yaşıyorlar. Üçü de 1. sınıfa gidiyorlar ve aynı sınıftalar. Kitap okumayı da çok seviyorlar. Kitap okumanın kendilerine çok faydalı olduğunu biliyorlar.

Göktürk uzayla ilgili kitapları, Selin şiir kitaplarını, Elif ise masal kitaplarını okurken daha çok eğleniyor. Kitap okumaya başladıklarında zamanın nasıl geçtiğini anlamıyorlar... Ömer USLU

1 ve 2. soruyu yukarıdaki metne göre cevaplayalım.

1. Çocuklar nerede yaşıyorlar?

- A) Ordu B) Ankara  
C) İstanbul

2. Elif, hangi kitapları okurken daha çok eğleniyormuş?

- A) Şiir B) Masal C) Uzay

Ş U Y K A B

3. Yukarıdaki karışık harflerden hangi kelime yazılabilir?

- A) Karpuz B) Yastık  
C) Baykuş

4. Hangi cümlenin sonuna farklı bir noktalama işareti konur?

- A) Okuldan ne zaman geldin( )  
B) Hangi kalemi alacaksın( )  
C) Eyvah, ödevlerimi unuttum( )

5.  İlaçlarımı aldım.

 Hastalandım.

 Doktora gittim.

Hangi cümle olayların oluş sırasına göre en sonda yer alır?

- A)  B)  C) 



Bizim evimiz 3( ) kattadır( )

6. Yukarıdaki cümlede ayraç ( ) içlerine hangi noktalama işareti konulmalıdır?

- A) nokta ( . )                      B) virgül ( , )  
C) kesme işareti ( ' )

7. Aşağıdaki cümlelerin hangisinde daha fazla özel isim vardır?


- A) Okulda Zeynep'i gördüm.  
B) Selim, markete gitmiş.  
C) Atatürk, Selanik'te doğdu.

Bugün kitaplarını .....




8. Yukarıdaki cümleyi doğru yazarak hangisi ile tamamlayabiliriz?

- A) okudunmu  
B) okudun mu  
C) okudunmu

9.



Yukarıdaki para ile aşağıdakilerden hangisini alamayız?

- A)  Su  
10 TL
- B)  Ayran  
16 TL
- C)  Kalemlik  
20 TL

10. 12 sayfalık kitabımın 7 sayfasını akşam okudum.

Okumam gereken kaç sayfam kaldı?

- A) 19  
B) 5  
C) 4





## Grafik Adı: Çiftlikteki Hayvanlar

Hayvanlar	Sayısı
İnek	
Koyun	
Tavuk	
Köpek	

11, 12 ve 13. soruları tabloya göre cevaplayınız.

11. Çiftlikte en az hangi hayvan vardır?

- A) İnek  
B) Tavuk  
C) Koyun

12. Koyunların ve ineklerin toplam sayısı kaçtır?

- A) 19  
B) 17  
C) 16


13. Koyunlar, köpeklerden kaç tane fazladır?

- A) 10  
B) 4  
C) 3



14. Yukarıdaki çubukların tamamını kullandığımızda hangi şekil oluşur?

- A) Dikdörtgen  
B) Kare  
C) Çember



15. Yukarıdaki örüntüyü devam ettirdiğimizde ? yerine hangi görsel gelir?

- A)   
B)   
C)








## Bandırma Vapuru- Samsun



16. Yukarıdaki verilen görselleri ve bilgileri incelediğimizde hangi milli bayrama ulaşırız?

- A) Cumhuriyet Bayramı
- B) 23 Nisan Ulusal Egemenlik ve Çocuk Bayramı
- C) 19 Mayıs Atatürk'ü Anma ve Gençlik ve Spor Bayramı

17. Aşağıdaki araç gereçlerden hangisi sağlık alanında kullanılan teknolojik üründür?

- A)  röntgen
- B)  mikser
- C)  Çamaşır makinesi

18.




Yukarıdaki verilen sanat dalları sırasıyla hangileridir?

- A) Resim → Müzik → Tiyatro
- B) Müzik → Heykel → Fotoğraf
- C) Ebru → Sinema → Tiyatro

19. Aşağıdakilerden hangisi bilim insanlarına ait bir özelliktir?

- A) Acelici olmak
- B) Sabırlı olmak
- C) Plansız olmak

20. Hangisi doğal afet değildir?



Adı Soyadı: \_\_\_\_\_

D: \_\_\_\_\_

Y: \_\_\_\_\_

**1.SINIF**

1. (A) (B) (C)
2. (A) (B) (C)
3. (A) (B) (C)
4. (A) (B) (C)
5. (A) (B) (C)
6. (A) (B) (C)
7. (A) (B) (C)
8. (A) (B) (C)
9. (A) (B) (C)
10. (A) (B) (C)

11. (A) (B) (C)
12. (A) (B) (C)
13. (A) (B) (C)
14. (A) (B) (C)
15. (A) (B) (C)
16. (A) (B) (C)
17. (A) (B) (C)
18. (A) (B) (C)
19. (A) (B) (C)
20. (A) (B) (C)

1.A 2.B 3.C 4.C 5.C 6.A 7.C 8.B 9.C 10.B

11.B 12.A 13.C 14.A 15.B 16.C 17.A 18.A 19.B 20.C

