

Sevdiğimiz Sporlar Nesne Grafiği

Spor Dalları	Kaç kişi seviyor?
Voleybol	
Futbol	
Yüzme	
Buz pateni	
Kayak	
Basketbol	

HER ŞEKİL 1 KİŞİYİ GÖSTERİR.






SEVDİĞİMİZ SPORLAR ÇETELE TABLOSU

SEVDİĞİMİZ SPORLAR SIKLIK TABLOSU

Spor Dalları	Kaç kişi seviyor?
Voleybol	
Futbol	
Yüzme	
Buz pateni	
Kayak	
Basketbol	

Spor Dalları	Kaç kişi seviyor?
Voleybol	
Futbol	
Yüzme	
Buz pateni	
Kayak	
Basketbol	

Tablo ile ilgili 10 soru yazıp cevaplayınız.

YEMEKLER	Kaç kişinin ne yediği	
Makarna		
Pizza		
Salata		
Hamburger		
Pasta		
Tavuk	