






TABLOR ETKİNLİĞİ

MANAVDAKİ MEYVELER TABLOSU

ELMA	
ARMUT	
MUZ	
KIRAZ	
ÇİLEK	

1.) Tabloya göre en fazla hangi meyve vardır?

A. Elma B. Kiraz C. Armut

6.) Armut ve çileklerin toplamı kaç kilodur?

A. 19 B. 18 C. 17

2.) Elma ve kirazların toplamı kaç kilodur?

A. 17 B. 16 C. 18

7.) En fazla meyve ile en az meyvenin farkı kaçtır?

A. 3 B. 4 C. 5

3.) Elmalar, çileklerden kaç kilo fazladır?

A. 2 B. 3 C. 4

8.) Armutların 5 kilosu satılsa kaç kilo elma kalır?

A. 6 B. 5 C. 7

4.) Hangi meyvelerin sayısı eşittir?

A. çilek - muz B. elma - armut
C. Kiraz - çilek

9.) Kirazların ve muzların toplamı kaç kilodur?

A. 14 B. 15 C. 16






5.) Kiraz, elmadan kaç kilo eksiktir?

A. 3 B. 2 C. 4

10.) Kiraz ve çileklerin toplamı, muzlardan kaç kilo fazladır?

A. 6 B. 7 C. 5

KÜMESTEKİ HAYVANLAR TABLOSU

HOROZ	
TAVUK	
HİNDİ	
CİVCİV	
ÖRDEK	

1.) Kümeste en fazla hangi hayvan vardır?

- A.civciv B.tavuk C.hindi

6.) Hindilerin sayısı, civcivlerden kaç eksiktir?

- A.5 B.3 C.4

2.) Kümeste en az hangi hayvan vardır?

- A.horoz B.hindi C.ördek

7.) Kaç horoz daha olursa horozların sayısı 11 olur?

- A.6 B.7 C.8

3.) Tavuklar, ördeklerden kaç fazladır?

- A.7 B. 6 C. 5

8.) Kaç hindi daha olursa, tavukların sayısına eşit olur?

- A.6 B. 7 C. 5

4.) Tavukların sayısı kaçtır?

- A.12 B.13 C. 11

9.) Horoz ve hindilerin toplamı hangisine eşittir?

- A.civciv B.tavuk C.ördek

5.) Civciv, horozdan kaç fazladır?

- A.8 B.7 C.6

10.) Ördekler, civcivden kaç eksiktir?

- A.5 B.6 C.7