


TABLORAR ETKİNLİĞİ – 2

Aşağıda verilen varlıkların çetele tablosunu oluşturun.



ÇETELE TABLOSU





Verilen varlıkların şekil grafiğini oluşturun.

.....

Tartı Sonuçları klogram	Öğrenci Sayısı								
14 - 16									
17 - 19									
20 - 22									
23 - 25									

Yukarıda verilen çetele tablosunu aşağıya yapınız.

Yukarıda verilen tablosunu aşağıya yapınız.

Lale	
Gül	
Papatya	
Menekşe	

Her şekil 2 varlığı gösterir.

- 1.Tabloya göre en çok hangi çiçek vardır?.....
- 2.Tabloya göre en az hangi çiçek vardır?.....
- 3.Tabloya göre kaç lale vardır?.....
- 4.Tabloya göre laleler, güllerden kaç fazladır?.....
- 5.Tabloya göre menekşe, laleden kaç eksiktir?.....
- 6.Papatya ile menekşenin toplamı kaç eder?.....
- 7.En çok çiçek ile en az çiçeğin farkı kaçtır?.....
8. Tabloya göre toplam kaç çiçek vardır?.....