

Nasreddin Hoca hayattayken büyük bir kıtlık olur. Bir lokma ekmeği bile bulmak çok zordur. Evde bulduğu kuru ekmeğin parçalarını alan Hoca, gölün kenarına geldiğinde ne görsün, gölde ördekler yüzüyor. Hoca birkaçını yakalamak isterse de başaramaz. Ardından da yorgun argın bir ağacın gölgesine oturur ve getirdiği kuru ekmeği suya banıp yemeye başlar. O sırada insanlar, Hoca'nın hâlini görünce dayanamaz ve sorarlar: "Hayrola Hocam, ne yapıyorsun?" Nasreddin Hoca: "Görmüyor musunuz, ördek çorbası içiyorum." diye cevap verir.

### Sorular :

1.) Hocanın zamanında ne olmuş?

2.) Hoca gölde ne görmüş?

3.) Hoca neden yorgun düşmüş?

4.) Hoca, ağacın gölgesinde ne yapmış?

### Olayları oluş sırasına göre sıralayın.

Boyalarımı çıkardım.

Derse başladık.

Derse giriş zili çaldı.

Öğretmenin resmimi çok beğendi.

Güzel bir resim yaptım.



İstiklal Marşı'nı coşkuyla söyledik.

Ders başladı.

Sıra ile sınıflarımıza girdik.

Okula gidince sıra olduk.

Servisle okula geldik.

Önce kaydırdıktan kaydı.

Parktan ayrılıp, eve döndü.

Ali, annesinden izin alıp evden çıktı.

Sonra salıncakta sallandı.

Arkadaşlarıyla parka geldi.



Düzenli olarak fidanı suladı.





Tekin, küçük bir elma fidanı aldı.

Fidan büyüdü, bir ağaç oldu.

Bahçenin bir köşesine fidanı dikti.

Tekin, ağacın meyvelerinden yedi.

Nesne grafiğine göre soruları cevaplayın.

ÇOCUKLAR	SAYILARI
Emre'nin Misketleri	
Mehmet'in Misketleri	
Onur'un Misketleri	
Selim'in Misketleri	

1. Emre ile Mehmet'in misketleri toplamı kaçtır?
2. Selim'in misketleri, Onur'un misketlerinden kaç fazladır?
3. Selim'in ve Mehmet'in misketleri toplamı kaçtır?
4. Selim, Emre'ye kaç miska daha verirse Emre'nin 10 misketi olur?
5. Onur 6 miska daha alırsa kaç misketi olur?

Aşağıdaki boşlukları dolduralım.

kapatmalıyız	önlem	fener
deprem	önce	merdivenden

- 1.) Ülkemizde çok sık .....yaşanmaktadır.
- 2.) Depremlere karşı .....almalıyız.
- 3.) Deprem çantasını depremden.....hazırlamalıyız.
- 4.) Deprem çantasına düdük, radyo, su ve .....koymalıyız.
- 5.) Deprem sırasında asla .....kaçmamalıyız.
- 6.) Deprem sonrasında doğalgaz ve elektriği .....

Aşağıdaki cümlelerden doğru olanların başına (D) yanlış olanlara (Y) yazın.

- 1.) ( ) Depremleri daha önceden önlemek mümkün değildir.
- 2.) ( ) Deprem çantasını deprem sırasında hazırlamalıyız.
- 3.) ( ) Deprem çantasına mutlaka mum koymalıyız.
- 4.) ( ) Deprem öncesinde binalarımızı sağlam yapmalıyız.
- 5.) ( ) Deprem sırasında sıranın altına girip kendimizi korumalıyız.
- 6.) ( ) Evdeki eşyalarımızı yerlerine iyice sabitlemeliyiz.

*Mahmut Çürük*