

ADI :
SOYADI :

MATEMATİK SEVİYE BELİRLEME
TESTİ

NOT:
VELİ İMZASI:

1.)

+	9	8
7	?	
6		

Yanda verilen bir toplama işlemidir. Buna göre ? yerine kaç gelmelidir?

A.15 B. 16 C. 14

2.)


dün	bugün	yarın
?	salı

Yukarıdaki verilenlere göre, ? yerine hangi gün gelmelidir?

A.Pazar B. Pazartesi C.Cuma

3.)

Ben 8 yaşındayım



Ben Ali'den 2 yaş küçüğüm.

Ali ile Ece'nin yaşlarının toplamı kaç olur?

A.10 B. 14 C. 18

4.)



Yukarıda kaç TL para vardır?

A.3 TL B. 2 TL C. 1 TL

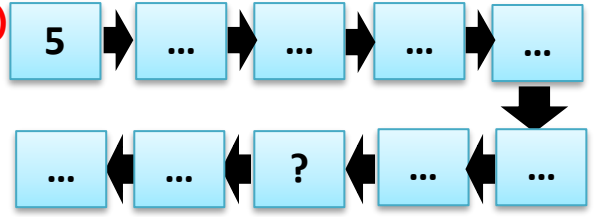
5.)



Yandaki para ile hangisi alınamaz?

A.şeker B. kalem C. halı

6.)



Yukarıda 5'er sayma yapılmıştır. Buna göre soru işareti olan yere kaç yazılmalıdır?

A.40 B. 45 C. 35

7.)

1) $3 + 8$

2) $12 - 6$

3) $15 - 4$

4) $9 + 5$

Yukarıdaki işlemlerden hangilerinin sonucu aynıdır?

A.1 - 3 B. 2 - 4 C. 1 - 2

8.)



Otobüste 12 kişi vardır. Durakta 4 kişi bindi.

Otobüste kaç yolcu oldu?

A.8 B. 16 C. 15

9.)



Kalemlige 9 kalem daha koyarsak kaç kalem olur?

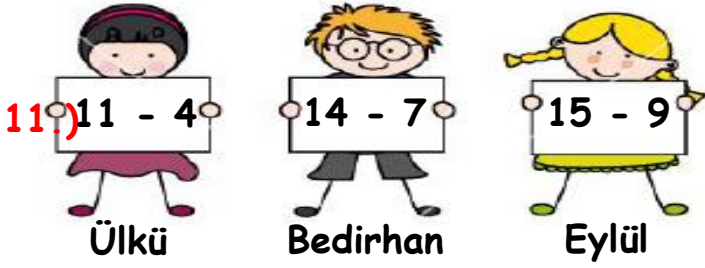
A.14 B. 15 C. 13

10.)

	8	
--	---	--

Verilen sayının sağına ve soluna gelecek sayıların toplamı kaç olur?

A.17 B. 15 C. 16



11.) Hangi öğrencinin yaptığı işlemin sonucu en küçüktür?

A. Bedirhan B. Ülkü C. Eylül

OCAK	Pazartesi		6	13	20	27
	Salı		7	14	21	28
	Çarşamba	1	8	15	22	29
	Perşembe	2	9	16	23	30
	Cuma	3	10	17	24	31
	Cumartesi	4	11	18	25	
	Pazar	5	12	19	26	

12. ve 13. Soruları takvime göre cevaplayın.

12.) 01 Şubat hangi güne gelmiştir?

A. Cumartesi B. Çarşamba C. Salı

13.) Hangi gün, Pazar gününe denk gelmemiştir?

A. 5 Ocak B. 26 Ocak C. 9 Ocak

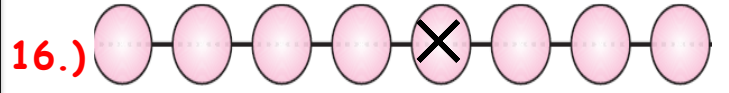


14.) Yukarıdaki trenin 3. ve 5. vagonlarında hangi harfler taşınmaktadır?

A. Ç - D B. C - E C. C - D


15.) Otobüste 15 yolcu var. 9 tanesi inerse kaç yolcu kalır?

A. 7 B. 6 C. 5




16.) Yukarıda boş yerlere onar ritmik sayma yazılırsa X yere hangisi gelir?

A. 60 B. 40 C. 50



17.) Ağaçtaki elmaların 5 tanesi düşerse, ağaçta kaç elma kalır?

A. 6 B. 7 C. 5



18.) Yandaki resme göre hangisi yanlıştır?

A. Köpek masanın üstündedir.
B. Kedi masanın altındadır.
C. Masa köpeğin üstündedir.

$$9 + ? = 17$$

19.) Yukarıdaki toplamada verilmeyen sayı kaçtır?

A. 8 B. 7 C. 9



20.) Yandaki saat kaç göstermektedir?

A. 12.00 B. 03.00 C. 06.00