

Verilen kelimeleri, metindeki boşluklara yazalım. Metni 5 defa okuyalım

balıkçılar - kayalıkta - talihsiz - kendisine

Bir geyik gözlerinden birini bir kazada kaybetmiş veo taraftan yaklaşanları göremiyormuş. Bu yüzden, tehlikelerden kaçınmak için sürekli deniz kenarında yüksekçe bir..... besleniyormuş. Böylece, sağlam olan gözünü karaya çevirip, kendisine yaklaşan avcılar görebiliyor; görmeyen gözünü ise herhangi bir tehlike gelmeyeceğini düşündüğü denize çeviriyormuş. Günün birinde, balık avından dönen tekneleri ile deniz kıyısına yanaşmışlar. ○ sırada, geyiği fark eden bir balıkçı hemen okunu çıkarmış ve onu vurmuş. Ölmek üzere olan geyik son nefesinde şöyle haykırmış: Ne kadar talihsizim! Tehlikenin karadan geleceğini düşünüp önlem almıştım, ama denizden geldi...

Aşağıdaki soruları metne göre cevaplayınız.

1. Geyik bir gözünü nasıl kaybetmiş?

2. Geyik, neden yüksek bir kayalıkta yaşıyormuş?

3. Geyiği kim vurmuş?

4. Geyiğin son sözü ne olmuş?

Verilen öyküyü hayal gücünüzü kullanarak tamamlayınız ve bir başlık bulunuz. Öykü ile ilgili üç soru yazıp cevaplayınız

.....
Kurban Bayramı gelmişti. Ali, ailesi ile beraber köyüne gitti. Ali köyünü çok seviyordu. Orada çok mutluydu. Doğa ile baş başa olmayı seviyordu. Arife günü ailesiyle beraber mezar ziyaretine gitti.

1.?

2.?

3.?

Sizden istenilenleri yapınız.

2. sınıf öğrencilerinden 6 kişi gül, 8 kişi lale, 5 kişi papatya ve 7 kişi menekşe sevmektedir.

Verilen bilgilerden yararlanarak çetele ve sıklık tablosu oluşturalım.

Sıklık Tablosu

Tablo:

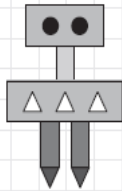
| Çiçek Türü | Öğrenci Sayısı |
|------------|----------------|
| Gül | |
| Lale | |
| Papatya | |
| Menekşe | |

Sıklık Tablosu

Tablo:

| Çiçek Türü | Öğrenci Sayısı |
|------------|----------------|
| Gül | |
| Lale | |
| Papatya | |
| Menekşe | |

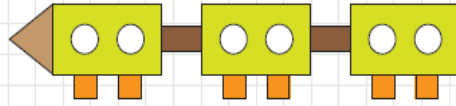
Görseldeki geometrik şekillerden kaç tane olduğunu sayalım. Sıklık ve çetele tablosunu oluşturalım.



Sıklık Tablosu

Tablo:

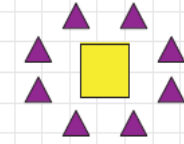
| Şeklin Adı | Sayısı |
|------------|--------|
| Kare | |
| Dikdörtgen | |
| Üçgen | |
| Daire | |
| Çember | |



Çetele Tablosu

Tablo:

| Şeklin Adı | Sayısı |
|------------|--------|
| Kare | |
| Dikdörtgen | |
| Üçgen | |
| Daire | |
| Çember | |



Sizden istenilenleri yapınız.

En sevdiğim şarkının adı:

Şarkıyı dinlerken hissettiklerim:

En son okuduğum hikâyenin adı:

Yakın çevremde gözlemlediğim sanat eserleri:

Aşağıdaki günlük yaşamdan verilen görsel örneklerinin hangi sanat dalını yansıttığını yazalım.



?



?

