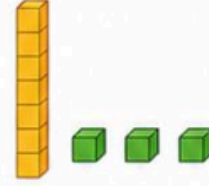


Aşağıdaki soruları dikkatlice okuyalım. Doğru cevabı işaretleyelim.

1) 3 birlik 1 onluktan oluşan sayı aşağıdakilerden hangisidir?

- A) 13 B) 31 C) 14



2) 9 sayısından bir önce gelen sayı ile bir sonra gelen sayının toplamı kaçtır?

- A) 17 B) 18 C) 19



3) Aşağıdaki şekil örüntüsünde boş olan yere hangi şekil gelmelidir?



- A)
- 
- B)
- 
- C)
- 

4) Aşağıdaki sayı örüntüsünde boş olan yere hangi sayı gelmelidir?



- A) 9 B) 10 C) 11

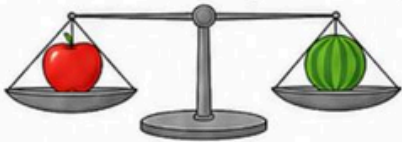
5) Aşağıdaki varlıklardan hangisini ölçmek için "adım" kullanırız?



6) Aşağıdaki paralardan hangisi 85 liradır?



7) Aşağıdaki terazide hangi ifade doğrudur?



- A) Elma daha ağır.
-
- B) Karpuz daha ağır.
-
- C) Elma ile karpuz eşit ağırlıktadır.

8) Aşağıdaki toplama işlemlerinden hangisinin sonucu diğerlerinden farklıdır?

A) $4 + 3$

B) $5 + 2$

C) $6 + 2$

9) Aşağıdaki işlemlerden hangisinin toplamı 10 değildir?

A) $7 + 3$

B) $6 + 4$

C) $5 + 6$

10) Aşağıdaki çıkarma işlemlerinden hangisinin sonucu 5 değildir?

A) $8 - 3$

B) $9 - 3$

C) $7 - 2$

Aşağıdaki soruları dikkatlice okuyalım. Doğru cevabı işaretleyelim.

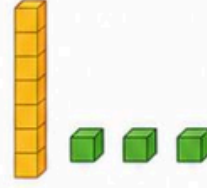
1) 3 birlik 1 onluktan oluşan sayı aşağıdakilerden hangisidir?



13

B) 31

C) 14



2) 9 sayısından bir önce gelen sayı ile bir sonra gelen sayının toplamı kaçtır?

A) 17



18

C) 19



3) Aşağıdaki şekil örüntüsünde boş olan yere hangi şekil gelmelidir?



B)



C)



4) Aşağıdaki sayı örüntüsünde boş olan yere hangi sayı gelmelidir?

2

4

6

8

?

12

A) 9



10

C) 11

5) Aşağıdaki varlıklardan hangisini ölçmek için "adım" kullanırız?



B)



C)



6) Aşağıdaki paralardan hangisi 85 liradır?

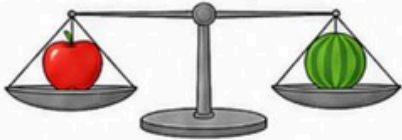
A



B



7) Aşağıdaki terazide hangi ifade doğrudur?



A) Elma daha ağır.

B) Karpuz daha ağır.



Elma ile karpuz eşit ağırlıktadır.

8) Aşağıdaki toplama işlemlerinden hangisinin sonucu diğerlerinden farklıdır?

A) 4 + 3

B) 5 + 2



6 + 2

9) Aşağıdaki işlemlerden hangisinin toplamı 10 değildir?

A) 7 + 3

B) 6 + 4



5 + 6

10) Aşağıdaki çıkarma işlemlerinden hangisinin sonucu 5 değildir?

A) 8 - 3



9 - 3

C) 7 - 2

MATEMATİK DEĞERLENDİRME TESTİ – 2. SAYFA

Aşağıdaki soruları dikkatlice okuyalım. Doğru cevabı işaretleyelim.

- 11) 10 elmadan 4 tanesi alındı.
Geriye kaç elma kaldı?



A) 5

 6

C) 4

- 12) $6 + \square = 10$ işlemi için
 \square yerine hangi sayı gelmelidir?

A) 3

 4

C) 5

- 13) Ayşe'nin 7 kalemi vardı.
Babası ona 5 kalem daha aldı.
Ayşe'nin kaç kalemi oldu?



A) 11

 12

C) 13

- 14) $15 - \square = 7$ işleminde
 \square yerine hangi sayı gelmelidir?

A) 6

B) 7

 8

- 15) Efe 8 kitabı vardı. Dayısı ona 6 kitap daha hediye etti.
Efe'nin kaç kitabı oldu?

A) 12

B) 13

 14


- 16) İrem 16 yaşındadır. Kardeşi İrem'den 8 yaş küçüktür. Kardeşi kaç yaşındadır?

 8

B) 7

C) 6

- 17) Aşağıdaki eşitliklerden hangisi doğrudur?

A) $6 + 3 = 10 - 2$
 $4 + 4 = 9 - 1$
C) $5 + 2 = 6 + 3$

- 18) Ali'nin 12 bilyesi vardı. 5 tane daha aldı.
Daha sonra 4 tanesini kardeşine verdi.
Ali'nin kaç bilyesi kaldı?

A) 11

 13

C) 9



- 19) Nisa 9 kurabiye yaptı. 3 tanesini yedi.
Sonra annesi 6 kurabiye daha yaptı.
Nisa'nın kaç kurabiyesi oldu?

 12

B) 13

C) 15



- 20) Yandaki şekillerden hangisinin
kenar sayısı diğerlerinden farklıdır?

A)



B)



