

ADI :
SOYADI :

MATEMATİK SEVİYE BELİRLEME
TESTİ - 2

NOT:
VELİ İMZASI:

1.)

Ben 4. ayda doğdum.



Aa ben de 4. ayda doğdum

Buna göre Ali ve Ece hangi ay doğmuş?

A. Nisan B. Mayıs C. Mart

6.)



Ece'nin kumbarasından bu kadar para çıktığına göre Ece'nin kaç TL'si vardır?

A. 16 TL B. 15 TL C. 17 TL

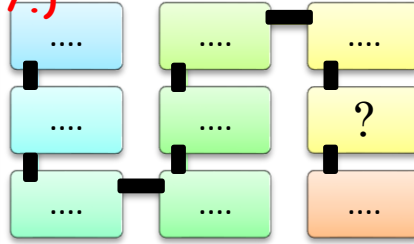
2.)

$$\begin{array}{r} 7 \\ + 7 \\ \hline \end{array} = \begin{array}{r} \dots \\ 5 \\ \hline \end{array} = A$$

Yandaki işlemlere göre A kaç yapar?

A. 19 B. 8 C. 9

7.)



Yanda onar sayma yapılsa ? yerine hangi sayı gelir?

A. 80 B. 60 C. 70


3.)



Yandaki kuşların yanına 9 kuş daha kalsa kaç kuş olur?

A. 18 B. 17 C. 16

8.)



Yandaki şekilde kaç kare vardır? (şekle çok iyi bak)

A. 4 B. 5 C. 6

4.)

$$\square + \square = A$$

Yukarıdaki toplama işleminde $A = 15$ olduğuna göre, aşağıdaki işlemlerden hangisi olamaz?

A. $8 + 7$ B. $9 + 6$ C. $7 + 9$

9.)



13 sayısının 5 eksiğinin 9 fazlası kaç eder?

A. 16 B. 18 C. 17

5.)



Yandaki şeklin adı nedir?


A. üçgen B. dikdörtgen C. kare

10.)



$$11 + 4$$

Nur



$$10 + 5$$

Cem



$$9 + 7$$

Ela

Hangi öğrencinin yaptığı işlemin sonucu en büyüktür?

A. Cem B. Ela C. Nur

OCAK							2016
Pazartesi	Salı	Çarşamba	Perşembe	Cuma	Cumartesi	Pazar	
				1 New Year's Day	2	3	
4	5	6	7	8	9	10	
11	12	13	14	15	16	17	
18	19	20	21	22	23	24	
25	26	27	28	29	30	31	

11.)

Hangi gün, Salı gününe gelmemiştir?

A.11 Ocak B.29 Aralık C. 5 Ocak

12.) Takvime göre hangi gün tatil değildir?

A.12 Ocak B.3 Ocak C.23 Ocak


13.)



Yandaki saat kaç göstermektedir?

A. 2.00 B. 3.00 C. 12.00

14.)



Bir yarışmada 2.yi geçen kaçinci olur arkadaşlar?

A.1. B. 2. C. 3.

15.)



Ağaçtaki 18 elmadan 8 tanesini yedim. 5 tanesi de yere düştü. Ağaçta kaç elma kaldı?

A.10 B. 6 C. 5

16.)

Ben 9 yaşındayım Taha.



Ben senden 1 yaş küçüğüm.

Buna göre Taha ile Eren'in yaşlarının toplamı kaç olur?

A.10 B.19 B. 17

17.)



Yukarıda 4.sırada hangi hayvan vardır?

A. köpek B. kuş C. kedi

18.)

$$7 \quad ? \quad 4 \quad = \quad 11$$

Yukarıda verilen işlemde sonuca göre ? yerine hangi işaret gelmelidir?

A. + B. - C. ×


19.)



Evdeki işlemlerin sonuçları arasında hangisi iki tane değildir?

A. 14 B.10 C. 15

20.)



Yandaki çiçeklerden 3 tanesi kurursa kaç çiçek kalır?

A.7 B.6 C.5