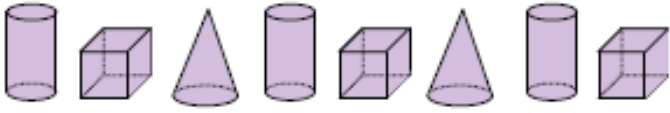


ADI :
SOYADI :

MATEMATİK SEVİYE BELİRLEME
TESTİ

NOT:
VELİ İMZASI:

1.)



Yukarıdaki örüntüyü devam ettirirsek
3.adımda hangi şekil gelir?



2.)



Yukarıdaki örüntüde üçgen yerine
hangisi gelmelidir?




3.)



Yukarıdaki örüntüde hangi varlık örün-
tünün kuralını bozmaktadır?



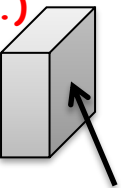
4.)



Yandaki cisim ile
hangisi çizilemez?

A. kare B. dikdörtgen C. çember

5.)



Ok işareti ile gösterilen
aşağıdakilerden hangisidir?

A. kenar B. köşe C. yüz

6.)



Hangi örüntünün kuralı, yukarıdaki
örüntünün kuralı ile aynıdır?

A. M N M N M N M N M N



7.)



Yukarıdaki paramla bu oyuncakları
aldım. Kaç TL para üstü kalır?

A. 3 TL B. 2 TL C. 1 TL

8.)



Sınıftaki 17 kişiden 9 tanesi
erkektir. Kaç kız öğrenci
vardır?

A. 8 B. 7 C. 9

9.)



Hangisi daireye bir örnek
olarak verilebilir çocuklar?

A. halka B. top C. tabak

10.)

Ben bugün
9 sayfa
okudum.



Ben de 15
sayfa
okudum.

Nil, Ali'den kaç sayfa fazla okumuştur?

A. 7 B. 8 C. 6

11.) Ben 9 yaşında - yım. Ben senden 2 yaş küçüğüm.



Buna göre, Taha ile Ata'nın yaşlarının toplamı kaç olur?

A.7 B.15 C. 16

16.) $\begin{array}{r} \boxed{K} \\ + 9 \\ \hline 18 \end{array}$ $\begin{array}{r} \boxed{M} \\ + 7 \\ \hline 14 \end{array}$ $\begin{array}{r} \boxed{N} \\ + 5 \\ \hline 14 \end{array}$

Hangi işlemdeki harf yerine gelecek sayı diğerlerinden farklıdır?

A.K B. N C.M

| 2017 MAYIS | | | | | | |
|------------|------|----------|----------|------|-----------|-------|
| Pazartesi | Salı | Çarşamba | Perşembe | Cuma | Cumartesi | Pazar |
| 1 | 2 | 3 | 4 | 5 | 6 | 7 |
| 8 | 9 | 10 | 11 | 12 | 13 | 14 |
| 15 | 16 | 17 | 18 | 19 | 20 | 21 |
| 22 | 23 | 24 | 25 | 26 | 27 | 28 |
| 29 | 30 | 31 | | | | |

12.) Takvime göre hangi gün tatildir?

A.2 Mayıs B.27 Mayıs C.31 Mayıs

13.) Yarın 4 Mayıs ise, dün günlerden ne olmuştur?

A.Salı B. Cuma C. Pazar

14.) Eve bu saatte gelen Nur saat kaçta eve gelmiştir?



A.12.00 B. 3.00 C. 4.00

15.)

| | | |
|---|----|----|
| — | 13 | 12 |
| 5 | A | |
| 9 | | B |

 Yandaki işlemlere göre A + B kaç yapar?

A.11 B.10 C.12



Yıldızların üzerine 5'erli sayma yazılacaktır. 7. yıldızın üzerine kaç yazılır?

A.30 B.35 C. 40



Elmaların üzerine ikişer sayma yazılacaktır. 7. elma ile 4. elma üzerine yazılacak sayıların farkı kaç olur?

A.3 B. 5 C.6

19.) 15 sayısının 9 eksiğinin 6 fazlası kaç eder?

A.12 B.13 C.11



Yukarıda şekillerin isimleri, sıra ile hangisinde doğru verilmiştir?

A.Kare - Üçgen - Daire - Dikdörtgen
B.Kare - Üçgen - Çember - Dikdörtgen
C.Dikdörtgen - Üçgen - Çember - Kare