

Adı:.....

Soyadı:.....

MATEMATİK

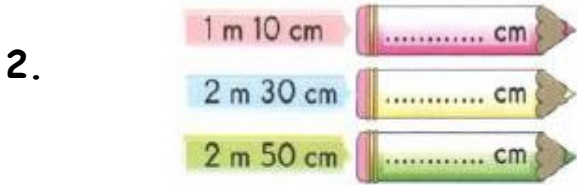
Doğru:.....Yanlış:.....

Veli İmzası:.....



Hangi öğrencinin söylediği "parmak" ile ölçülebilir?

- A. Emel B. Emre C. Emin

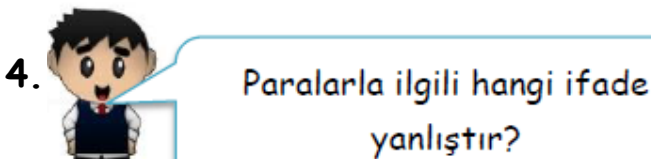


Yukarıdaki boş yerlere hangi sayı gelemez?

- A. 110 B. 205 C. 230



- A. 54 B. 23 C. 44

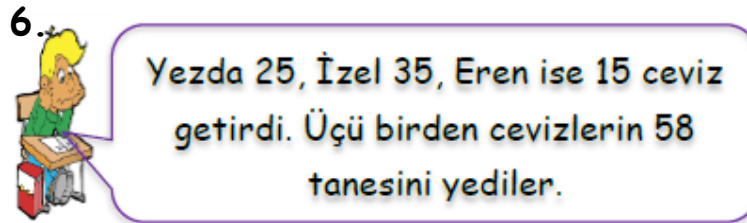


- A. Sekiz tane 25 kuruş, 1 Türk Lirası yapar.
B. Dört tane 50 kuruş, 2 Türk Lirası yapar.
C. 100 Kuruş, 1 Türk Lirası yapar.



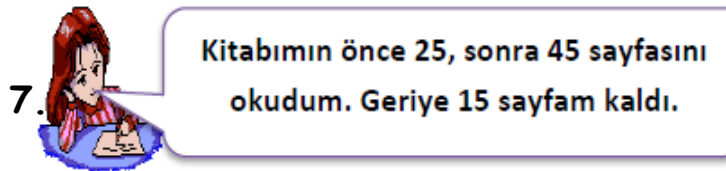
Hangi öğrencinin söylediği kilogram ile alınır?

- A. Eymen B. Eren C. Zümra



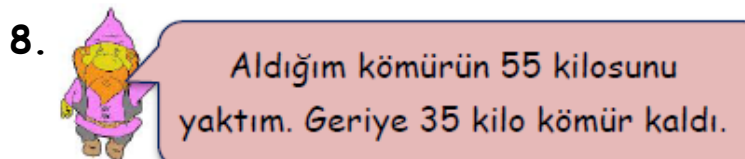
Buna göre, geriye kaç ceviz kalmıştır?

- A. 27 B. 17 C. 37




Buna göre, Yezda'nın kitabı kaç sayfadır?

- A. 55 B. 85 C. 75




Buna göre ilk başta kaç kilo kömür almıştır?

- A. 80 B. 90 C. 20

9.  90 sayfa kitabımın, 1. gün 27; 2. gün 35 sayfasını okudum.

Buna göre; Ali'nin kaç sayfası kalmıştır?

- A. 28 B. 38 C. 48

10.  = 8 TL  = 9 TL

Yukarıdaki oyuncakların her ikisinden 3 tane alan Asilay, toplam kaç TL öder?

- A. 51 B. 41 C. 45

11.  5 sayısının 7 katının 8 fazlası kaçtır?


Çocukların sorduğu sorunun cevabı kaçtır?

- A. 42 B. 48 C. 43

12.  Benim yaşı 6. Benim yaşı kızımın yaşının 5 katı.

Buna göre anne ile kızın yaşlarının toplamı kaç olur?

- A. 30 B. 36 C. 34

13.  Yandaki okulda 4 kat, her katta 8 sınıf vardır. Buna göre okulda kaç sınıf vardır?

- A. 28 B. 36 C. 32

14.  Eymen :55 Eren: 49 Yezda : 45

Eren ile Yezda'nın söylediği sayıların toplamı, Eymen'in söylediği sayıdan kaç fazladır?

- A. 49 B. 39 C. 54

$$80 - 45 = 35$$

15. Aşağıdaki problemlerden hangisi, yukarıdaki işlem ile çözülür?

- A. Yezda'nın 35 TL parası var. 45 TL babası verdi. Kaç TL parası oldu?
B. Yezda'nın 80 TL parası var. 45 TL'sini harcadı. Kaç TL parası kaldı?
C. Yezda'nın 80 TL parası var. 35 TL'sini harcadı. Kaç TL parası kaldı?

- 16.



Otobüsteki yolcuların yarısından 10 fazlası erkektir. Otobüste 40 yolcu olduğuna göre kaç kız yolcu vardır?

- A. 30 B. 20 C. 10