

ADI : .....  
SOYADI : .....

MATEMATİK SEVİYE BELİRLEME  
TESTİ

NOT: .....  
VELİ İMZASI: .....

1.)



Resme göre, hangi ifade yanlıştır?

- A. Ece, Ela'dan uzun, Cem'den kısadır.  
B. Oya, Nil'den uzun, Ali'den kısadır.  
C. Nil, Oya'dan kısa, Ece'den uzundur.

2.)



Çocuk hangi  
uzunluk ölçüsünü  
göstermektedir?

- A. adım B. ayak C. kulaç

3.)



Aşağıdakilerden hangisini  
parmak ile ölçebiliriz?

- A. Duvarın boyunu B. Yolun genişliğini  
C. Kitabın kalınlığını

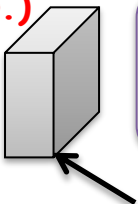
4.)



Örüntüde boş yere hangisi gelmelidir?

- A.  B.  C. 

5.)






Ok işareti ile gösterilen  
aşağıdakilerden hangisidir?

- A. kenar B. köşe C. yüz

6.)



Hangi örüntünün kuralı, yukarıdaki  
örüntünün kuralı ile aynıdır?

- A.   
B.   
C. 

7.)

Ben 7  
yaşındayım.

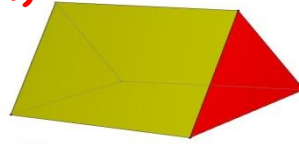


Ben de 8  
yaşındayım.

Buna göre, 2 yıl sonra Taha ile Ata'nın  
yaşlarının toplamı kaç olur?

- A. 19 B. 15 C. 17

8.)



Yandaki cisim ile  
hangisini  
çizemeyiz?

- A. üçgen B. kare C. dikdörtgen

9.)



Örüntüde hangisi kuralı bozmaktadır?

- A.  B.  C. 

10.)

Anne 8 TL  
param var.

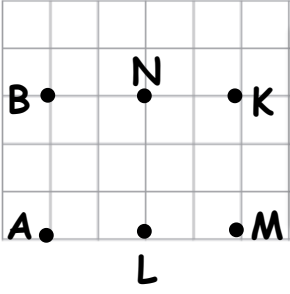


Ben de 5  
TL vereyim.

Babası da 5 TL verirse Oya'nın kaç TL  
parası olur?

- A. 13 B. 18 C. 15

11.)



Hangi harfleri birleştirecek bir üçgen oluşmaz?

A. BNKL

B. MLKM

C. BALB

2017 MAYIS

Pazartesi	Salı	Çarşamba	Perşembe	Cuma	Cumartesi	Pazar
1	2	3	4	5	6	7
8	9	10	11	12	13	14
15	16	17	18	19	20	21
22	23	24	25	26	27	28
29	30	31				

12.) Takvime göre hangi gün tatildir?

A. 8 Mayıs

B. 5 Mayıs

C. 28 Mayıs

13.) Dün 14 Mayıs ise, yarın günlerden ne olur?

A. Salı

B. Cuma

C. Pazar

14.)



Ülkü, yukarıdaki oyuncakları alıp 20 TL para verdi. Kaç TL para üstü kalır?

A. 8 TL

B. 9 TL

C. 11 TL

15.)

+	9	8
7	A	
6		B

Yandaki işlemlere göre A - B kaç yapar?

A. 2

B. 3

C. 1

16.)




Aşağıdaki bilgilerden hangisi yanlıştır?

A. Haziran 6. aydır

B. Eylül 9. aydır

C. 10. ay kasımdır.

17.)



Kutuların üzerine ikişer sayma yazılacaktır. Buna göre B - A kaç olur?

A. 8

B. 6

C. 10

18.)



Sınıfta 11 erkek vardır.

Kızlar erkeklerden 4 eksiktir.

Buna göre sınıfta kaç öğrenci vardır?

A. 15

B. 18

C. 7

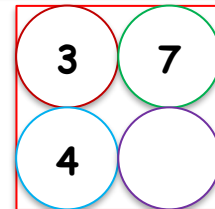
19.)



Yukarıda görseli verilen işlem, aşağıdakilerden hangisidir?

A.  $6 + 4 = 10$ B.  $10 - 4 = 6$ C.  $6 - 4 = 2$ 

20.)



Yukarıdaki sayıların toplamının 20 olması için boş çemberin içine hangi sayı gelmelidir?

A. 6

B. 5

C. 4