

PARKTA GÜZEL BİR GÜN

Bir cumartesi sabahı Elif, annesi ve babasıyla birlikte mahalle parkına gitti. Hava güneşliydi. Parkta birçok çocuk oyun oynuyordu.

Elif önce salıncağa bindi. Sonra kaydıraftan kayd. Babası onun fotoğraflarını çekti. Annesi ise bankta oturarak onları izledi.

Bir süre sonra Elif acıktı. Hep birlikte sandviç ve meyve suyu yediler.

Yemekten sonra çöplerini çöp kutusuna attılar.

Eve dönmeden önce Elif arkadaşlarıyla vedalaştı. Çok eğlendiği için tekrar parka gelmek istedi.

1) Elif kimlerle parka gitti?

- A) Arkadaşlarıyla
- B) Annesi ve babasıyla
- C) Öğretmeniyle



2) Elif nereye gitti?

- A) Hayvanat bahçesine
- B) Parka
- C) Okula



3) Parkta ilk olarak ne yaptı?

- A) Salıncağa bindi.
- B) Kitap okudu.
- C) Bisiklete bindi.



4) Elif ve ailesi ne yedi?

- A) Pizza
- B) Sandviç ve meyve suyu
- C) Dondurma



5) Elif ve ailesi çöpleri nereye attı?

- A) Yere
- B) Çöp kutusuna
- C) Masanın üzerine



6) Aşağıdakilerden hangisi özel isimdir?

- A) çocuk
- B) Elif
- C) park



7) Hangisi cümledir?

- A) Kalem
- B) Bugün çok mutluyum.
- C) Mavi



8) Aşağıdaki kelimelerden hangisi alfabetik sırada ilk sırada yer alır?

- A) Kiraz
B) Armut
C) Muz



9) Aşağıdakilerden hangisi bir cümle değildir?

- A) Ali kitap okuyor
B) Güneş parlıyor
C) Çiçek



10) "Eyvah çantamı unuttum" cümlesinin sonuna hangi noktalama işareti gelmelidir?

- A) .
B) ?
C) !



11) "Parka gidelim mi" cümlesinin sonuna hangi noktalama işareti gelmelidir?

- A) .
B) ?
C) !



12) Aşağıdakilerden hangisi kişisel bakım değildir?

- A) Tırnak kesmek
B) Diş fırçalamak
C) Çöp atmak



13) Aşağıdakileri büyüklüğüne göre sıralarsak hangisi doğru olur?

- A) Güneş > Dünya > Ay
B) Ay > Dünya > Güneş
C) Dünya > Ay > Güneş



14) Aşağıdakilerden hangisi dini bayramdır?

- A) 29 Ekim
B) 23 Nisan
C) Kurban Bayramı



15) Aşağıdakilerden hangisi yer sarsıntısıdır?

- A) Deprem
B) Rüzgar
C) Yağmur



16) Aşağıdakilerden hangisi su baskınıdır?

- A) Sel
B) Deprem
C) Fırtına



17) Aşağıda verilen paralardan hangisi ikisi eşittir?



- A) ★ ★ B) ★ ★ C) ★ ★

18) Aşağıdaki kelimelerden hangisi en büyük kâğıt paradır?

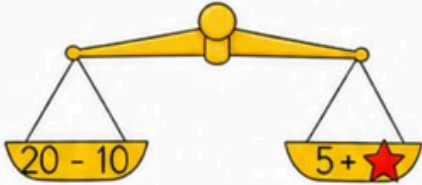
- A) 
- B) 
- C) 

19) Furkan'ın 1 yıldaki ay sayısının 5 fazlası kadar balonu vardır. Furkan arkadaşına 3 balon veriyor ardından 4 balonu patlıyor. Furkan'ın kaç balonu kalmıştır?

- A) 15
B) 10
C) 5



20)



Eşitliğin sağlanması için yıldız yerine hangi sayı gelmelidir?

- A) 11 B) 15 C) 5

21) Müge 7, Selin 5 yaşındadır. İki yıl sonra yaşlarının toplamı kaç olur?

- A) 16
B) 17
C) 18




22) Beste hikaye kitabının önce 10 sayfasını sonra kalan 6 sayfasını okuyarak bitirdi. Bu hikaye kitabı kaç sayfadır?



- A) 17 B) 18 C) 16


23) Bahçemizde 15 hayvan vardır. 6 tanesi tavuk, geriye kalan horozdur. Kaç horoz vardır?

- A) 8
B) 9
C) 10



24) Ahırda 5 inek vardır. Bu ineklerin ayak sayıları toplamı kaçtır?

- A) 15
B) 20
C) 16



25) Zeynep'in iki basamaklı en küçük sayı kadar şekeri, Serkan'ın ise tek basamaklı en büyük sayı kadar şekeri vardır. İkisinin şekerlerinin toplamı kaçtır?

- A) 13
B) 14
C) 15



26) Serap 14 yaşındadır. Lale, Serap'tan 4 yaş büyüktür. Lale kaç yaşındadır?

- A) 16
B) 17
C) 18



27) 13 sayısına kaç eklersem 20 olur?

$$13 + ? = 20$$

- A) 7 B) 8 C) 9

PARKTA GÜZEL BİR GÜN

Bir cumartesi sabahı Elif, annesi ve babasıyla birlikte mahalle parkına gitti. Hava güneşliydi. Parkta birçok çocuk oyun oynuyordu.

Elif önce salıncağa bindi. Sonra kaydıraktan kaydı. Babası onun fotoğraflarını çekti. Annesi ise bankta oturarak onları izledi.

Bir süre sonra Elif acıktı. Hep birlikte sandviç ve meyve suyu yediler.

Yemekten sonra çöplerini çöp kutusuna attılar.

Eve dönmeden önce Elif arkadaşlarıyla vedalaştı. Çok eğlendiği için tekrar parka gelmek istedi.

1) Elif kimlerle parka gitti?

A) Arkadaşlarıyla

Annesi ve babasıyla

C) Öğretmeniyle



2) Elif nereye gitti?

A) Hayvanat bahçesine

Parka

C) Okula



3) Parkta ilk olarak ne yaptı?

Salıncağa bindi.

B) Kitap okudu.

C) Bisiklete bindi.



4) Elif ve ailesi ne yedi?

A) Pizza

Sandviç ve meyve suyu

C) Dondurma



5) Elif ve ailesi çöpleri nereye attı?

A) Yere

Çöp kutusuna

C) Masanın üzerine



6) Aşağıdakilerden hangisi özel isimdir?

A) çocuk

Elif

C) park



7) Hangisi cümledir?

A) Kalem

Bugün çok mutluyum.

C) Mavi



8) Aşağıdaki kelimelerden hangisi alfabetik sırada ilk sırada yer alır?

- A) Kiraz
 B) Armut
 C) Muz



9) Aşağıdakilerden hangisi bir cümle değildir?

- A) Ali kitap okuyor
 B) Güneş parlıyor
 C) Çiçek



10) "Eyvah çantamı unuttum" cümlesinin sonuna hangi noktalama işareti gelmelidir?

- A) .
 B) ?
 C) !



11) "Parka gidelim mi" cümlesinin sonuna hangi noktalama işareti gelmelidir?

- A) .
 B) ?
 C) !



12) Aşağıdakilerden hangisi kişisel bakım değildir?

- A) Tırnak kesmek
 B) Diş fırçalamak
 C) Çöp atmak



13) Aşağıdakileri büyüklüğüne göre sıralarsak hangisi doğru olur?

- A) Güneş > Dünya > Ay
 B) Ay > Dünya > Güneş
 C) Dünya > Ay > Güneş



14) Aşağıdakilerden hangisi dini bayramdır?

- A) 29 Ekim
 B) 23 Nisan
 C) Kurban Bayramı



15) Aşağıdakilerden hangisi yer sarsıntısıdır?

- A) Deprem
 B) Rüzgar
 C) Yağmur



16) Aşağıdakilerden hangisi su baskınıdır?

- A) Sel
 B) Deprem
 C) Fırtına



17) Aşağıda verilen paralardan hangisi ikisi eşittir?



- A) ★ ★ ★ ★ ★ C) ★ ★

18) Aşağıdaki kelimelerden hangisi en büyük kâğıt paradır?



19) Furkan'ın 1 yıldaki ay sayısının 5 fazlası kadar balonu vardır. Furkan arkadaşına 3 balon veriyor ardından 4 balonu patlıyor. Furkan'ın kaç balonu kalmıştır?

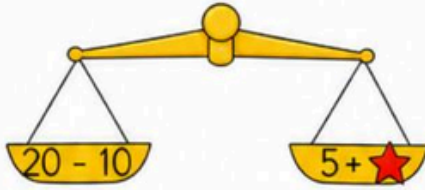
A) 15

B) 10

C) 5



20)



Eşitliğin sağlanması için yıldız yerine hangi sayı gelmelidir?

A) 11

B) 15

C) 5

21) Müge 7, Selin 5 yaşındadır. İki yıl sonra yaşlarının toplamı kaç olur?

A) 16

B) 17

C) 18



22) Beste hikaye kitabının önce 10 sayfasını sonra kalan 6 sayfasını okuyarak bitirdi. Bu hikaye kitabı kaç sayfadır?



A) 17

B) 18


C) 16

23) Bahçemizde 15 hayvan vardır. 6 tanesi tavuk, geriye kalan horozdur. Kaç horoz vardır?

A) 8

B) 9

C) 10




24) Ahırda 5 inek vardır. Bu ineklerin ayak sayıları toplamı kaçtır?

A) 15

B) 20

C) 16



25) Zeynep'in iki basamaklı en küçük sayı kadar şekeri, Serkan'ın ise tek basamaklı en büyük sayı kadar şekeri vardır. İkisinin şekerlerinin toplamı kaçtır?

A) 13

B) 19

C) 15



26) Serap 14 yaşındadır. Lale, Serap'tan 4 yaş büyüktür. Lale kaç yaşındadır?

A) 16

B) 17

C) 18



27) 13 sayısına kaç eklersem 20 olur?

$$13 + ? = 20$$

A) 7

B) 8

C) 9