

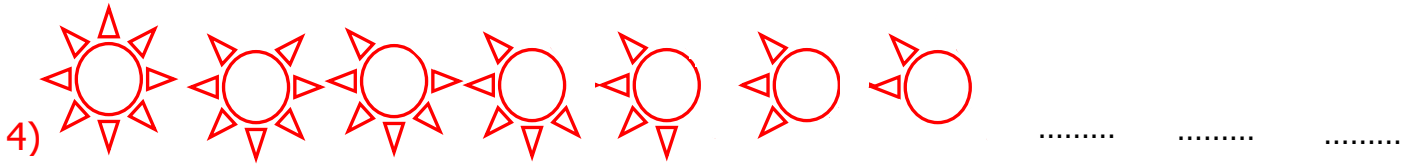
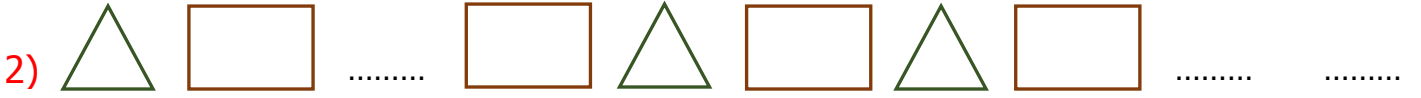


Adı Soyadı :

Numarası :

Konu: Geometrik Örüntüler 3

Aşağıdaki örüntüler bir kurala göre dizilmiştir. Boşluklara gelmesi gereken şekil veya cisimleri çiziniz.




Aşağıdaki örüntüler bir kurala göre dizilmiştir. Boşluklara gelmesi gereken şekil veya cisimleri yaparak, örüntünün kuralını yazınız.



Kural:




Kural:



Kural:



Kural:



Kural:



Kural:



Kural: