

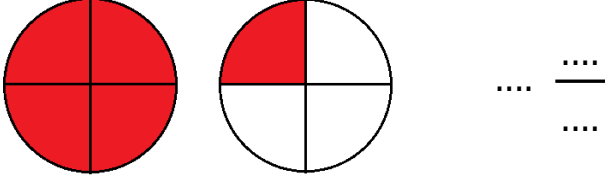


Adı Soyadı :

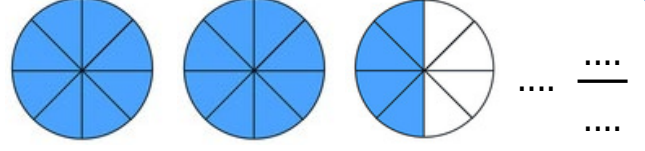
Numarası :

Konu: Tam Sayılı Kesirler Etkinliği

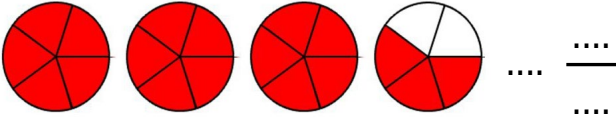
Aşağıdaki şekillerin boyalı kısımlarını tam sayılı kesir olarak yazınız.



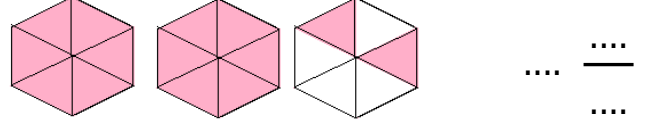
Okunuşu:



Okunuşu:



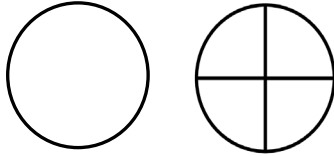
Okunuşu:



Okunuşu:


Aşağıdaki kesir ifadelerine göre şekilleri boyayınız.

$$1 \frac{2}{4}$$

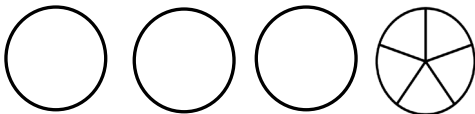


Okunuşu:

$$2 \frac{3}{8}$$




$$3 \frac{3}{5}$$



Okunuşu:

$$2 \frac{5}{6}$$



Okunuşu:

Aşağıdaki şekillerin boyalı kısmını ifade eden kesirleri yazınız. Sayı doğrusunda gösteriniz.

Kesir Modeli

Kesir Sayısı

Sayı Doğrusu

