

Adı :

Soyadı :



Sınıfı :

Numarası:

1)  "Eskiden pencereyi açamıyordum."

Yukarıda çocukların hangi özelliğinden söz edilmiştir?

- A) Duygusal özelliği
- B) Fiziksel özelliği
- C) Kişisel özelliği

2) Oyunda kaybeden tarafın ne yapması doğru olur?

- A) Kazananı tebrik etmesi
- B) Arkadaşlarına küsmesi
- C) Oyunun sonucunu kabul etmemesi

3) Evimizin yerini tarif ederken hangi bilgiye ihtiyaç duymayız?

- A) Mahallenin adı
- B) Sokağın adı
- C) Evimizin kaç odası olduğu


- 4)  Hoşgörü
 Saygı
 Bağlılık


Yukarıdakilerden hangileri akrabalık ilişkilerimizde olması gereken değerlerdendir?

- A)  B)   C)   

5) Aşağıdakilerden hangisi yanlış bir davranıştır?




- A) Harçlıklardan artan paramı kumbarama atarım.
- B) Temizlik malzemelerini gerektiği kadar kullanırım.
- C) Dişlerimi fırçalarken suyu açık bırakırım.

6)  Yiyecekleri yerken ağızımızı kapalı tutmalıyız.

 Yemek yerken yüksek sesle konuşmalıyız.

 Tabağımızda yemek bırakmamalıyız.

Yukarıda verilenlerden hangisi görgü kurallarına uygun bir davranış değildir?

- A)  B)  C) 

7) Aşağıdakilerden hangisi sağlığımızı korumak için gerekli değildir?

- A) Şarkı söylemek
- B) Spor yapmak
- C) Banyo yapmak

8) Aşağıdakilerden hangisi zamanı verimli kullanmamızı sağlar?

- A) Kitap okumak
- B) Oyun oynamak
- C) Plan yapmak

9) Görseldeki varlığın ilk hecesiyle başlayan kelime aşağıdakilerden hangisidir?



- A) Etek B) Erik C) Eldiven

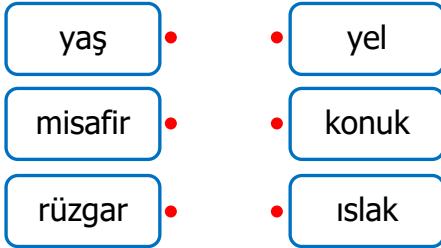
10)

kuş - kalem - kiraz - koltuk

Yukarıdaki kelimelerin alfabetik sıraya göre dizilişi hangi seçenekte verilmiştir?

- A) kalem - kiraz - kuş - koltuk
B) kalem - kiraz - koltuk - kuş
C) kalem - koltuk - kiraz - kuş

11)



Yukarıdaki kelimeleri eş anlamlıları ile eşleştirilirse oklar nasıl olur?

- A) B) C)

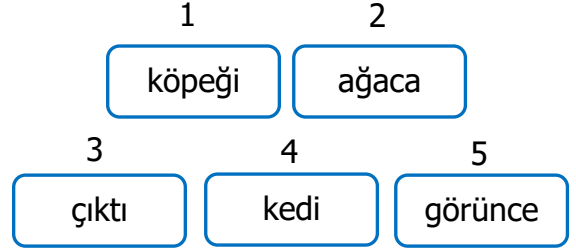
12) Hangi cümlede kelimenin yazımında yanlışlık yapılmıştır?

- A) Pazardan domates ve biber aldık.
B) Kerim, törende şiir okudu.
C) Yarın saat beşte yola çıkacağız

13) Aşağıdaki noktalama işaretlerinden hangisi cümle sonuna konmaz?

- A) (,) B) (.) C) (?)

14)



Yukarıdaki kelimeleri hangi sıra ile yazarsak kurallı ve anlamlı bir cümle oluşturabiliriz?

- A) 2 - 4 - 1 - 5 - 3
B) 1 - 4 - 5 - 2 - 3
C) 4 - 1 - 5 - 2 - 3

15)

kısa - cimri - dolu

Aşağıdakilerden hangisinin zıt anlamlısı yukarıdaki kelime kutusunda yoktur?

- A) boş B) büyük C) cömert

16)

Dedem yarın İstanbul()a gidecek()

Yukarıdaki cümlede parantez içlerine sırası ile hangi noktalama işaretleri gelir?

- A) (,) (.) B) (`) (?) C) (`) (.)

17)

Kitap en iyi arkadaş,
Bana neyi sorsam söyler.
Ne anlatsam en sonunda
Çalış, iyi, doğru ol der.

Fazıl Hüsnü DAĞLARCA

Yukarıdaki şiirin ana duygusu nedir?

- A) Ağaç sevgisi
B) Kitap sevgisi
C) Okul sevgisi

18) Onlar basamağındaki rakamın basamak değeri "80" olan doğal sayı aşağıdakilerden hangisidir?

- A) 8 B) 68 C) 84

19) $24 - 21 - \triangle - 15 - \square - 9$

Yukarıdaki üçer ritmik saymada \triangle ve \square yerine hangi sayılar gelmelidir?

- A) \triangle 18 \square 12
B) 17 11
C) 16 10

20) $\begin{matrix} 28 \\ 62 \\ 45 \end{matrix}$ $\begin{matrix} 50 \\ 60 \\ 30 \end{matrix}$

Yukarıdaki sayıların onluğa yuvarlanmış şekli hangisidir?

- A) $\begin{matrix} \bullet \rightarrow \bullet \\ \bullet \rightarrow \bullet \\ \bullet \rightarrow \bullet \end{matrix}$ B) $\begin{matrix} \bullet \rightarrow \bullet \\ \bullet \rightarrow \bullet \\ \bullet \rightarrow \bullet \end{matrix}$ C) $\begin{matrix} \bullet \rightarrow \bullet \\ \bullet \rightarrow \bullet \\ \bullet \rightarrow \bullet \end{matrix}$

21) Hangi işlemin sonucu diğerlerinden daha büyüktür?

- A) $\begin{array}{r} 42 \\ 28 \\ +13 \\ \hline \dots \end{array}$ B) $\begin{array}{r} 36 \\ 24 \\ +25 \\ \hline \dots \end{array}$ C) $\begin{array}{r} 51 \\ 23 \\ +10 \\ \hline \dots \end{array}$

22) $47 + \star = 73$

Yukarıdaki işleme göre \star hangi sayıdır?

- A) 35 B) 26 C) 17

23) $32 - 7 = \dots\dots\dots$

Yukarıdaki eşitlikte noktalı kutuya hangi işlem yazılmalıdır?

- A) $16 + 9$ B) $14 + 10$ C) $15 + 15$

24) Harun, ağaçtan topladığı 63 tane cevizin 18 tanesini kardeşine verdi. Ağaçtan 17 ceviz daha topladı. Buna göre Harun'un kaç tane cevizini olur?

- A) 62 B) 73 C) 65

25) Yandaki kovadaki su aşağıdakilerden hangisi ile daha geç dolar?



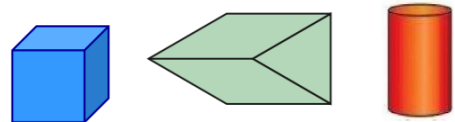
- A) B) C)

26) Yandaki dikdörtgenin üzerindeki semboller neyi gösterir?



- A) \blacksquare Kenar \star Köşe
B) \blacksquare Kenar \star Kenar
C) \blacksquare Köşe \star Kenar

27)



Yukarıda verilen geometrik cisimler arasında hangisi yoktur?

- A) Küp
B) Küre
C) Silindir

1) B

2) A

3) C

4) C

5) C

6) B

7) A

8) C

9) C

10) B

11) A

12) B

13) A

14) C

15) B

16) C

17) B

18) C

19) A

20) C

21) B

22) B

23) A

24) A

25) A

26) C

27) B

28)

29)

30)