

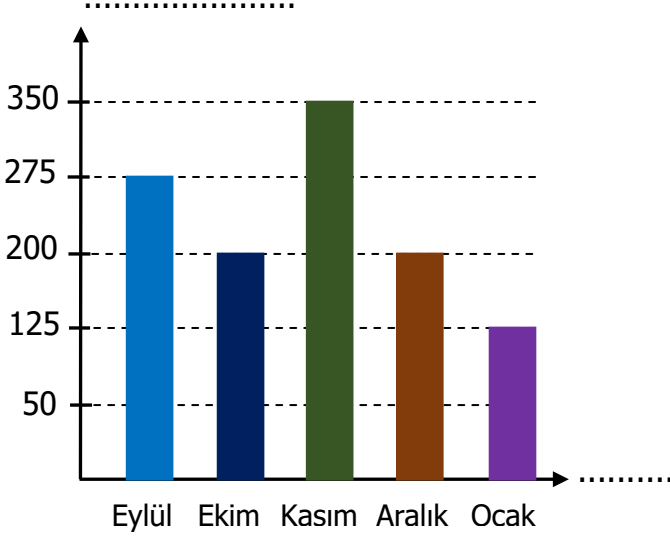
Adı : .....

Sınıfı : .....

Soyadı : .....

Numarası: .....

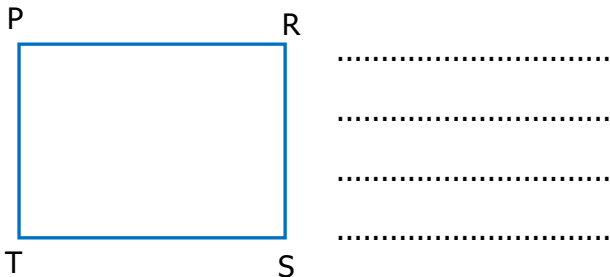
- 1) Aşağıdaki sütun grafiğinde bir kantinde aylara göre satılan simit sayıları verilmiştir. 10 puan



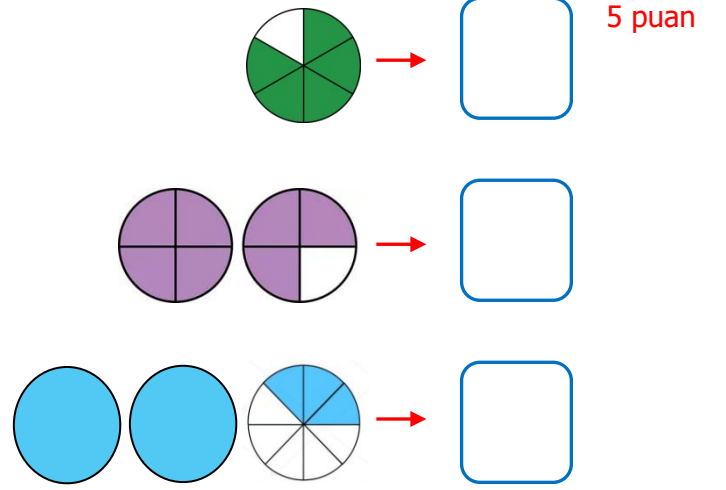
→ Aşağıdaki soruları sütun grafiğine göre cevaplayınız.

- En çok simit satılan ay ile en az simit satılan ay arasındaki farkı bulunuz.
- Eylül ve kasım aylarında ne kadar simit satılmıştır?
- Beş ayda satılan toplam simit sayısını bulunuz.

- 2) Aşağıdaki dikdörtgeni isimlendiriniz. 5 puan



- 3) Aşağıdaki şekilleri boyalı kısımlarından yararlanarak kutuların içine kesirleri ifade ediniz. 5 puan



- 4) Aşağıdaki saatlerden biri sabah, diğeri öğleden sonrayı göstermektedir.


Buna göre iki saat arasında geçen süre kaç dakikadır? 10 puan



Öğleden Önce



Öğleden Sonra



- 5) 84 589 sayısında tekrar eden 8 rakamlarının basamak değerlerinin toplamı kaçtır? 5 puan

