

Adı :

Sınıfı :

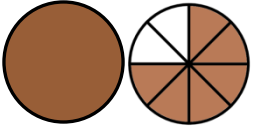
Soyadı :

Numarası:

- 1) Aşağıdaki şekilleri boyalı kısımlarından yararlanarak kutuların içine kesirleri ifade ediniz.



5 Puan



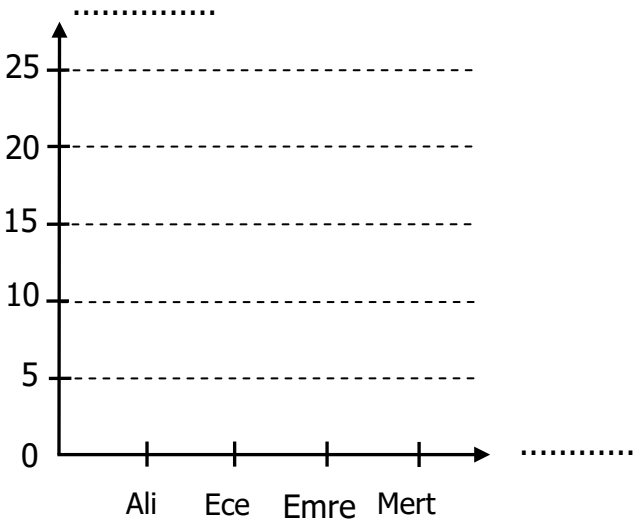
- 2) Aşağıdaki verilen bilgilere göre çetele tablosu ve sütun grafiği oluşturunuz. 10 Puan

4/A sınıfında yapılan başkanlık seçiminde alınan oylar. Ali 15 oy, Ece 20 oy, Emre 25 oy, Mert 10 oy almıştır.

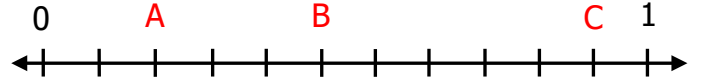
Tablo:

Öğrencinin Adı	Aldıkları Oy

Grafik: 4/A Sınıfındaki Başkanlık Seçimi



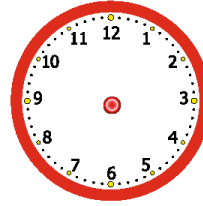
- 3) Aşağıdaki sayı doğrusunda harflerle gösterilen kesirleri yazınız. 5 Puan

A= $\frac{\dots}{\dots}$ B= $\frac{\dots}{\dots}$ C= $\frac{\dots}{\dots}$


- 4) Aşağıda verilen saatlerin öncesini ve sonrasını, akrep ve yelkovan çizerek gösteriniz. 10 Puan

Önce

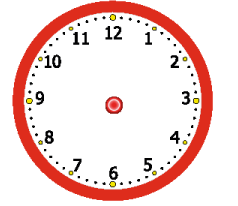
Sonra



50 dakika



40 dakika



- 5) Aşağıda bölükleri verilmiş olan sayıları yazınız

Birler Bölüğü	708
Binler Bölüğü	30
Sayı:	

Binler Bölüğü	253
Birler Bölüğü	23
Sayı:	

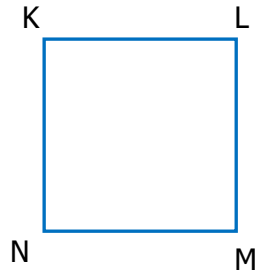
5 Puan

- 6) Aşağıdaki sayıları en yakın onluğa ve yüzlüğe yuvarlayınız. 5 Puan

Onluğa	Sayı	Yüzlüğe
	642	
	1568	
	8109	
	359	
	3524	

7) Aşağıdaki kare isimlendirilirken ifadelerden hangisi kullanılamaz. **5 Puan**

- A) KLMN karesi
B) NKLM karesi
C) KMLN karesi
D) LMNK karesi



8) Aşağıdaki işlemleri yapınız. 10 Puan

$$\begin{array}{r}
 248 \\
 \times 37 \\
 \hline
 \end{array}
 \qquad
 \begin{array}{r}
 6029 \\
 + 5971 \\
 \hline
 \end{array}
 \qquad
 \begin{array}{r}
 9002 \\
 - 5487 \\
 \hline
 \end{array}
 \qquad
 \begin{array}{r}
 685 \overline{)12} \\
 \hline
 \end{array}$$

9) Bir sinema salonunda 207 seyirci vardır.

seyircilerin $\frac{3}{9}$ 'ü bayan, $\frac{2}{9}$ 'si erkektir. Sinema salonundaki çocukların sayısını kaçtır? **5 Puan**

[illegible]

10) Bir bakkal 50kg'lık piring çuvallarından 15 tane alıyor. Alınan pirincin yarısı 5kg'lık, geriye kalan 3 kg'lık poşetlere dolduruyor. Bu iş için kaç poşet kullanmıştır? **10 Puan**

[illegible]

11) Akşam 21.30'da yatıp, sabah 08.15'te uyanan Barış kaç saat, kaç dakika uyumuştur? **5 Puan**

[illegible]

12) Aşağıda kesirlerle ilgili verilen toplama ve çıkarma işlemlerini yapınız 10 Puan

$$\frac{3}{8} + \frac{1}{8} = \frac{\dots}{\dots} \qquad 2\frac{6}{20} + 4\frac{4}{20} = \dots \frac{\dots}{\dots}$$

$$\frac{9}{15} - \frac{3}{15} = \frac{\dots}{\dots} \qquad 8\frac{7}{10} - 4\frac{2}{10} = \dots \frac{\dots}{\dots}$$

13)



Üretim Tarihi:23.03.2019

Son Kullanma Tarihi:15.04.2019

Üretim tarihi ve son kullanma tarihi verilen süt kaç gün içinde tüketilmelidir? **10 Puan**

[illegible]

14) Küçük kardeşim Buse, doğalı 1 yıl, 5 ay 14 gün oldu. Kardeşim Buse doğumundan bugüne kadar kaç gün geçmiştir? **5 Puan**

[illegible]