

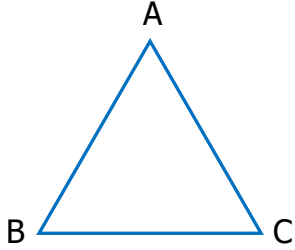


Adı Soyadı :

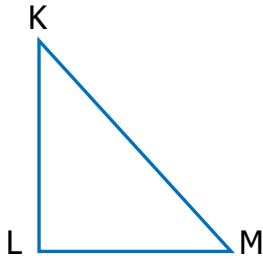
Numarası :

Konu: Üçgen, Kare ve Dikdörtgenin Kenarlarını ve Köşelerini İsimlendirme Etkinliği

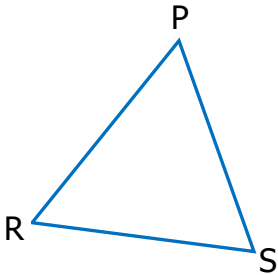
Aşağıda verilen üçgenlerin kenarlarını ve köşelerini örnekteki gibi isimlendirelim.



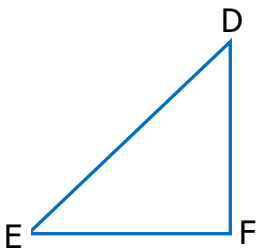
<u>Kenarları</u>	<u>Köşeleri</u>
ABC üçgeni	A köşesi
BCA üçgeni	B köşesi
CAB üçgeni	C köşesi



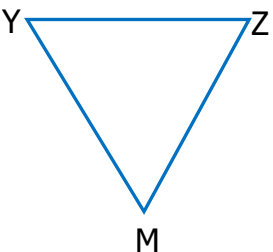
<u>Kenarları</u>	<u>Köşeleri</u>
.....
.....
.....



<u>Kenarları</u>	<u>Köşeleri</u>
.....
.....
.....

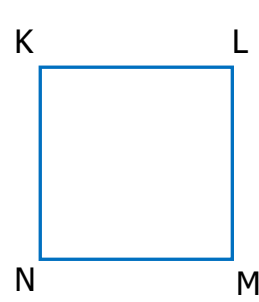


<u>Kenarları</u>	<u>Köşeleri</u>
.....
.....
.....

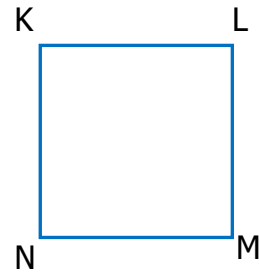


<u>Kenarları</u>	<u>Köşeleri</u>
.....
.....
.....

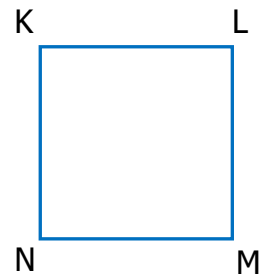
Aşağıda verilen karelerin kenarlarını ve köşelerini örnekteki gibi isimlendirelim.



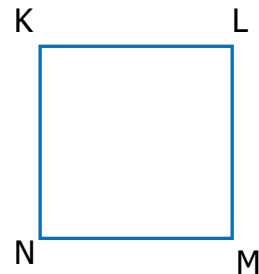
<u>Kenarları</u>	<u>Köşeleri</u>
KLMN karesi	K köşesi
LMNK karesi	L köşesi
NKLM karesi	M köşesi
KNML karesi	N köşesi



<u>Kenarları</u>	<u>Köşeleri</u>
.....
.....
.....
.....



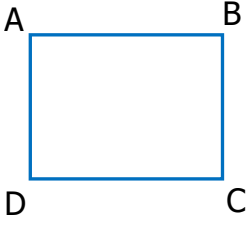
<u>Kenarları</u>	<u>Köşeleri</u>
.....
.....
.....
.....

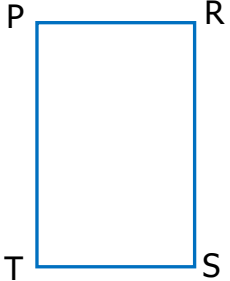



<u>Kenarları</u>	<u>Köşeleri</u>
.....
.....
.....
.....


Aşağıda verilen dikdörtgenleri kenarlarını ve köşelerini örnekteki gibi isimlendirelim.

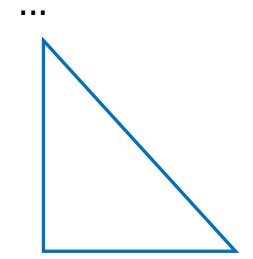
Aşağıda verilen üçgen, kare ve dikdörtgenlerin kenarlarını ve köşelerini isimlendirelim.


	<u>Kenarları</u>	<u>Köşeleri</u>
	ABCD dikdörtgeni	A köşesi
	BCDA dikdörtgeni	B köşesi
	CDAB dikdörtgeni	C köşesi
	ADCB dikdörtgeni	D köşesi


	<u>Kenarları</u>	<u>Köşeleri</u>


	<u>Kenarları</u>	<u>Köşeleri</u>

	<u>Kenarları</u>	<u>Köşeleri</u>

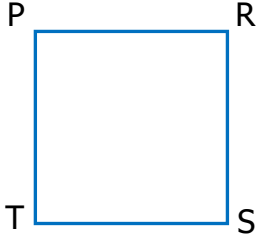
	<u>Kenarları</u>	<u>Köşeleri</u>

	<u>Kenarları</u>	<u>Köşeleri</u>

	<u>Kenarları</u>	<u>Köşeleri</u>

	<u>Kenarları</u>	<u>Köşeleri</u>


1)



Yukarıdaki karenin isimlendirmesi aşağıdakilerden hangisi olamaz?

- A) PRST karesi B) RSTP karesi
C) TPRS karesi D) TRSP karesi

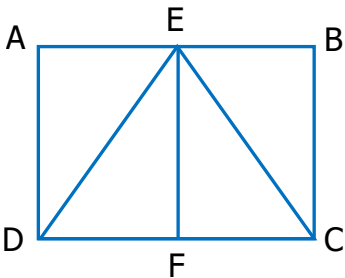
2)



Yandaki dikdörtgenin kenarlarından biri hangisinde doğru olarak adlandırılmıştır?

- A) [KM] B) [NL]
C) [LM] D) [MK]

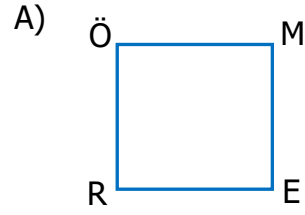
3)



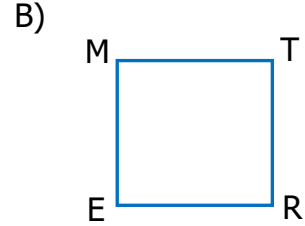
Yukarıdaki şekille ilgi aşağıdakilerden hangisi söylenemez?

- A) EDC bir üçgendir.
B) AEFD bir karedir.
C) ABCD bir dikdörtgendir.
D) EBC bir üçgendir.

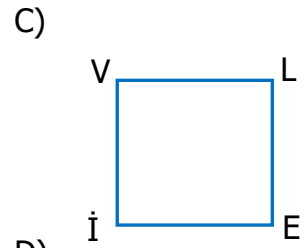
4) Aşağıdaki karelerden hangisinin adı yanlış söylenmiştir?



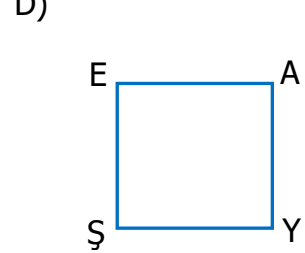
ÖMER karesi



MERT karesi

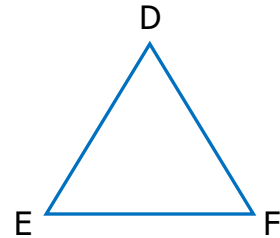


VELİ karesi



AYŞE karesi

5)



Yukarıdaki üçgenin kenarları hangi seçenekte yanlış verilmiştir?

- A) [DE], [EF], [FD]
B) [FD], [DE], [EF]
C) [EF], [FD], [DE]
D) [DE], [EF], [FG]