

Adı : .....

TÜRKÇE

Sınıfı : .....

Soyadı : .....

15 SORU

Numarası: .....

1)

"Eskiden savaş sırasında insanlar kalelere sığınır, kendilerini düşmanlardan korurlarmış. Günümüz ise insanlar kendileri kötülüklerden koruyacak böyle bir kale arıyor. İşte bu kale, kişinin ailesidir. İnsanı kötülüklerden koruyacak en büyük kalesi, onun mutlu vuvasıdır."

Yukarıdaki paragrafa göre aşağıdakilerden hangisi doğrudur?

	Metnin Konusu	Metnin Ana Fikri
A)	Kale	Kaleler insanları tehlikelerden korur.
B)	Mutluluk	İnsanlar ailesinin dışında da mutlu olabilir.
C)	Aile	Aile, insanları kötülüklerden koruyan bir yapıdır.
D)	Kötülük	İnsanlar her zaman kötülüklerle karşılaşabilir.

2) Aşağıdaki cümlelerin hangisinde altı çizili sözcük sestış değildir?

- A) Sıcaktan bunalınca suya daldım.  
 B) Çocukların sesinden hiçbir şey anlamadım.  
 C) Öğretmenim problemi başka bir yoldan çözdü.  
 D) Ocağın üzerindeki süt taşı.

3)

tadına

pastaların

istiyordu

Ekrem

bakmak

bütün

Yukarıda verilen sözcüklerle anlamlı ve kurallı cümle oluşturulduğunda ikinci sırada hangi sözcük olur?

- A) bütün  
 B) tadına  
 C) bakmak  
 D) pastaların

4)

Babam ( ) ( ) Çalışmak ( ) başarının anahtarıdır ( ) ( ) dedi.

Yukarıdaki cümlede parantezle gösterilen yerlere sırasıyla hangi noktalama işaretleri konulmalıdır?

- A) ( , ) ( " ) ( , ) ( . ) ( " )  
 B) ( ! ) ( " ) ( , ) ( . ) ( " )  
 C) ( " ) ( , ) ( . ) ( , ) ( " )  
 D) ( : ) ( , ) ( " ) ( . ) ( " )

5) Aşağıdaki cümlelerin hangisinde zıt anlamlı sözcükler bir arada kullanılmamıştır?

- A) Uzun lafın kisası tatil çok güzel geçti.  
 B) Eski elbisemi yenisi ile değiştirdim.  
 C) Kahvaltıda sıcak çay üstüme döküldü.  
 D) En yakın arkadaşım şimdi çok uzaklarda.

6) Aşağıdakilerden hangisi "Bir iş yapmamak için bahaneler bulmak" anlamına gelen bir deyimdir?

- A) Bin dereden su getirmek  
 B) Ağzı kulaklarına varmak  
 C) Canı burnuna gelmek  
 D) Ayağını denk almak

7) Aşağıdaki cümlelerin hangisinde "ki" nin yazımıyla ilgili bir yazım yanlışı vardır?

- A) Kitabı okumadım ki anlatayım.  
 B) Okulda ki zil durmadan çalıyordu.  
 C) Sanmışım ki bizimle sinemaya gelecek.  
 D) Önümüzdeki hafta tatile çıkacağız.

8) Aşağıdaki cümlelerin hangisinde yazım yanlış yapılmamıştır?

- A) Ali'nin dayısı uzun yol şöförüymüş.
- B) Komşularımız kale mahallesine taşındı.
- C) Seneye Atatürk ortaokuluna gideceğim.
- D) Nasrettin Hoca fıkralarına bayılıyorum.

9) I.Babamın aldığı parfüm güzel kokuyor.  
II.Bu olayda burnuma kötü kokular geliyor.  
III.Mutfaktan burnuma mis gibi yemek kokuları geliyordu.  
IV. Bu işte iyi para kokusu var.  
Numaralandırılmış cümlelerin hangilerinde "koku" sözcüğü gerçek anlamı dışında kullanılmıştır?

- A) Yalnız I
- B) I. ve II.
- C) II. ve IV.
- D) I. ve IV.

10) Aşağıdaki cümlelerin hangisinde karşılaştırma yapılmamıştır?

- A) Ahmet gibi cimrisi hiç görmedim.
- B) Topladığı meyveleri yıkamadan yedi.
- C) Pembe giysi daha güzel görünüyor.
- D) O, Türkçe dersinde benden daha gayretlidir.

11) ▲ Verilen sayıyı kesir olarak yazdı.  
■ Laboratuvarda sınıfça deney yaptık.  
★ Şarkıyı notalara uygun çalamıyordu.  
● Annem yeni aldığı perdeleri ütöledi.

Yukarıdaki altı çizili sözcüklerden hangisi terim anlamı değildir?

- A) ▲
- B) ■
- C) ★
- D) ●

12)

Ali, sabahleyin evlerinin bahçesinde bir kitap buldu. Kitabın sayfaları açılmıştı. Sayfalara baktı ve kitabın komşuları Okan Amca'ya ait olduğunu anladı.

Yukarıdaki paragrafta 5N 1K sorularından hangisinin cevabı yoktur?

- A) Kim?
- B) Nasıl?
- C) Ne zaman?
- D) Nerede?

13) Aşağıdaki cümlelerin hangisinde kısaltmanın yazımında yanlışlık yapılmıştır?

- A) Mustafa Bey TRT'de çalışıyor.
- B) Kırtasiyeden TDK'nin sözlüğünü aldım.
- C) Kar yağdığı için THY'nın uçağı piste inemedi.
- D) Yaz tatilinde KKTC'ye gideceğiz.

14)

I.kemer

II.keman

III.kemik

IV.keklik

Yukarıdaki sözcüklerin alfabetik sıralaması aşağıdakilerden hangisidir?

- A) IV, II, I, III
- B) III, IV, I, II
- C) IV, I, II, III
- D) I, II, III, IV

15) Aşağıdaki atasözlerinden hangisi diğerlerinden farklı bir anlamdadır?

- A) Har vurup, harman savurma.
- B) Bol bol yiyen, bel bel bakar.
- C) Ak akçe kara gün içindir.
- D) Üzüm üzüme baka baka kararır.

## 4.Sınıflar Deneme Sınavı

## MATEMATİK

## 15 SORU

16)

4 birlik + 3 onluk + 6 yüzlük + 2 on binlik +  
5 yüz binlik

Yukarıdaki çözümlenmiş sayı için hangisi yanlıştır?

- A) Beş yüz yirmi bin altı yüz otuz dört  
B) Sayı 569 716'dan küçük; 515 900'den  
büyüktür.  
C) Birler bölümü ile binler bölümünün yeri  
değişirse sayının değeri küçülür.  
D) Sayı en yakın yüzlüğe yuvarlandığı zaman  
520 600 sayısı elde edilir.

17)

6 0 7 1

Yukarıdaki rakamlar birer kez kullanılarak yazılan  
en büyük çift ve en küçük tek dört basamaklı sayıların  
toplamı kaçtır?

- A) 8677 B) 8777  
C) 8888 D) 8897

18)

$$6 \times 8 = A \div 2$$

$$B - 7 = 9 \times 6$$

Yukarıdaki matematiksel ifadelerde eşitliği sağlayan  
A ve B sayılarının toplamı kaçtır?

- A) 165 B) 162  
C) 159 D) 157

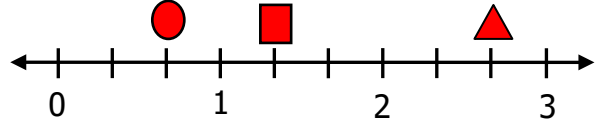
19)

$$\begin{array}{r} 841 \overline{) 17} \\ \underline{\phantom{00}} \\ \phantom{00} \end{array}$$

Yukarıdaki bölme işleminde bölüneni en yakın  
yüzlüğe, böleni en yakın onluğa yuvarlarsak sonuç  
kaç olur?

- A) 30 B) 40  
C) 10 D) 20

20)



Yukarıdaki sayı doğrusuna göre  $\bullet + \blacksquare + \blacktriangle$   
işleminin sonucu kaçtır?

- A)  $1 \frac{4}{3}$  B)  $3 \frac{3}{3}$  C)  $3 \frac{5}{3}$  D)  $4 \frac{1}{3}$

21) Özlem parasının  $\frac{1}{9}$ 'i ile elbise,  $\frac{3}{9}$ 'ü ile çanta  
alıyor.

Özlem'in harcamadan önce 630 TL'si olduğuna  
göre kaç TL'si kalmıştır?

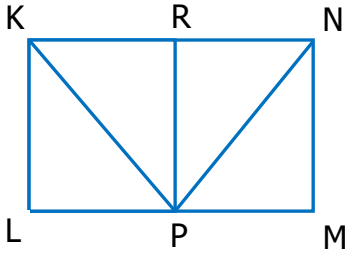
- A) 350 B) 280  
C) 260 D) 250

22) Saat 10. 15'te Rize'den yola çıkan bir  
araç 19.20'de Sinop'a varmıştır.  
Yolculuk kaç saat kaç dakika sürmüştür?



- A) 9 sa. 35 dk. B) 9 sa. 20 dk.  
C) 9 sa. 15 dk. D) 9 sa. 5 dk.

23)



Yukarıda verilen şekil ile ilgili aşağıdakilerden hangisi söylenemez?

- A) KLMN bir dikdörtgendir.  
 B) KLPR bir karedir.  
 C) PRN bir üçgendir.  
 D) [PR] sadece KLPR karesinin kenarıdır.

24) Ben 9 yaşında iken annemin yaşı benim yaşımın 5 katından 9 eksikti. Ben şu an 15 yaşındaysam annem ile benim yaşlarımızın toplamı kaçtır?



- A) 42      B) 57      C) 60      D) 61

25)



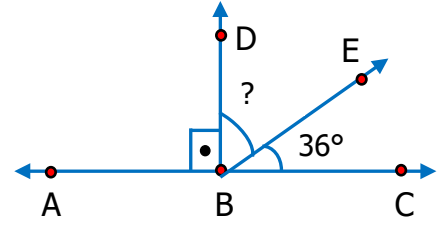
Yukarıdaki şekil 7 eş kareden oluşturulmuştur. Karelerden birinin çevresinin uzunluğu 12 cm olduğuna göre şeklin çevresi kaç santimetredir?

- A) 48      B) 45      C) 42      D) 39

26) Aşağıdaki harflerden hangisinin verilen doğruya göre simetriği yine aynı olur?

- A) P      B) L      C) K      D) M

27)



Yukarıda verilen açılarla ilgili olarak aşağıdakilerden hangisi yanlıştır?

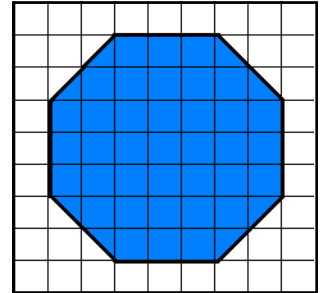
- A) EBC açısı dar açıdır.  
 B) ABC açısı doğru açıdır.  
 C) DBE açısının ölçüsü  $64^\circ$ 'dir.  
 D) ABD açısı dik açıdır.

28) Cem'in boyu 1 m 71 cm'dir. Emre, Cem'den 13 cm daha kısa Elif'ten 6 cm daha uzundur. Elif'in boyu uzunluğu kaçtır?

- A) 1 m 54 cm      B) 1 m 52 cm  
 C) 1 m 55 cm      D) 1 m 50 cm

29) Boyalı şeklin alanı kaç birimkaredir?

- A) 36      B) 38  
 C) 39      D) 41



30) ★ 3 kg 250 g = 3250 g

■ 4 t 35 kg = 4350 kg

● 20 g 55 mg = 20 055 mg

▲ 9750 kg = 9 t 75 kg

Yukarıdaki eşitliklerden hangisi yanlıştır?

- A) ★ ●      B) ■ ▲  
 C) ● ▲      D) ■ ★

## 4.Sınıflar Deneme Sınavı

### FEN BİLİMLERİ

15 SORU

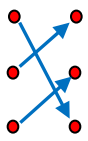
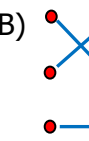
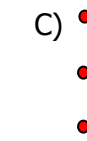
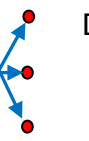
- 31)  Ekonomik değeri olan kayaçlar maden olarak adlandırılır.
- Deniz canlılarının fosilleri sadece deniz tabanlarında bulunur.
- Yer kabuğunun kalınlığı Dünya üzerinde bölgelere göre farklılık gösterir.

Yukarıda verilen bilgilerin doğru - yanlış durumu hangi seçenekte verilmiştir?

- A)  D  D  Y  D
- D  Y  D  D
- D  D  D  Y

- 32)  karbonhidratlar  Düzenleyici
- vitaminler  Yapıcı ve onarıcı
- proteinler  Enerji verici

Yukarıda verilen besin içerikleri ve görevleri eşleştirildiğinde görünüm aşağıdakilerden hangisi gibi olur?

- A)  B)  C)  D) 

33)



Görsele göre topun yapmış olduğu hareket çeşidi aşağıdakilerden hangisidir?

- A) Renk değiştirme B) Yavaşlama
- C) Yön değiştirme D) Şekil değiştirme

34)



Yukarıdaki görsellerde verilen maddelerin özellikleri hangi seçenekte sırası ile verilmiştir?

- A) suda batar – suyu emmeyen – suda yüzer
- B) suda yüzer – suyu emen – suda batar
- C) suda yüzer – suyu emmeyen – suda batar
- D) suda batar – suyu emen – suda yüzer

35) Uygun aydınlatma ile ilgili ifadelerden hangisi yanlıştır?

- A) Yemek yediğimiz ortamlarda bölgesel aydınlatma kullanılmalıdır.
- B) Televizyonun karanlıkta izlenmemesi gerekir.
- C) Sokaklardaki her alan aydınlatılmalıdır.
- D) Işık aydınlatılacak ortama yönlendirilmelidir.

36) Aşağıdaki ifadelerin hangisinde farklı bir alanda tasarruf yapılmıştır?

- A) Kullanmadığımız oda lambalarını kapatmalıyız.
- B) Yemekleri küçük porsiyonlar şeklinde servis etmeliyiz.
- C) Buzdolabını kapağının kapısını uzun süre açık bırakmamalıyız.
- D) Tasarruflu ampul tercih etmeliyiz.

37) Aşağıdakilerden hangisi basit bir elektrik devresinde devre elamanı olarak kullanılmaz?

- A) Priz B) Anahtar
- C) Kablo D) Pil

- 38) I. Gün içinde, gölge oluşumları gerçekleşir.  
II. Mevsimler oluşur.  
III. Gece – gündüz oluşur.  
IV. Sıcaklık değişimleri yaşanır.

Yukarıdakilerden hangileri Dünya'nın kendi etrafında dönmesinden kaynaklanır?

- A) Yalnız I  
B) I. ve III.  
C) II. ve IV.  
D) I. ve IV.

39) Dengeli ve sağlıklı beslenen bir kişi aşağıdakilerden hangisini yapmamalıdır?

- A) Vücuda alınan enerji harcanan enerjiden fazla olmalıdır.  
B) Her besin grubundan yeterli ve dengeli beslenmelidir.  
C) Besinlerin saklanma koşullarına dikkat etmelidir.  
D) Dondurulmuş ve paketlenmiş ürünler yerine taze besinler tüketmelidir.



Yukarıdaki verilen mıknatıslarla ilgili aşağıdaki ifadelerden hangisi doğrudur?

- A) Birbirlerini çekerler.  
B) Birbirlerini etkilemezler.  
C) Birbirlerini iterler.  
D) Birbirlerini dengede tutarlar.

41) Brüt kütlesi 5 kg olan bal dolu bir kabın içerisindeki bal 4680 g ise kabın darası kaç gramdır?



- A) 220 g  
B) 1220g  
C) 9680 g  
D) 320 g

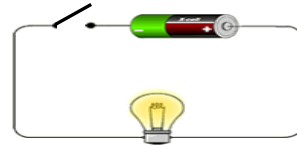
- 42) → Ses kirliliği işitme kaybına neden olur.  
→ Havaalanları yerleşim yerlerine yakın kurulmamalı.  
→ Binalar yapılırken ses yalıtım malzemeleri kullanılmalı.  
→ Ses kirliliğinin en çok olduğu yerler ormanlık alanlardır  
Yukarıdaki ifadelerin kaç tanesi doğrudur?

- A) 1  
B) 2  
C) 3  
D) 4

43) Geri dönüşümle ilgili aşağıdaki ifadelerden hangisi yanlıştır?

- A) Doğal kaynaklarımız korunur.  
B) Çöp miktarının artmasına neden olur.  
C) Enerji tasarrufu sağlanır.  
D) Atık miktarı azalır.

44)



Yukarıdaki devre elemanları ile ilgili ifadelerden hangisi yanlıştır?

- A) Anahtar kapalı durumdadır.  
B) Ampul ışık vermez.  
C) Devrede pil yatağı yoktur.  
D) Kablo elektrik enerjisini dolaşımını sağlar.

- 45) ★ Buldukları kabın şeklini alırlar  
■ Akışkandırlar  
▲ Sıkıştırılabilirler

Yukarıda maddelerle ilgili belirtilen özelliklerden hangileri sıvılar ve gazlar için ortak özelliklerdir?

- A) Yalnız ★  
B) ★ ■  
C) ■ ▲  
D) ★ ▲

## 4.Sınıflar Deneme Sınavı

### SOSYAL BİLGİLER

15 SORU

- 46) I. T.C. Kimlik numaramız  
II. Ev adresimiz  
III. Doğum tarihimiz  
IV. Okul numaramız

Numaralandırılmış bölümlerden hangileri Türkiye Cumhuriyeti kimlik kartında yer almaktadır?

- A) Yalnız I  
B) I ve III  
C) II ve IV  
D) II, III, IV

- 47) Aile tarihimizi oluştururken aşağıdaki kaynakların hangisinden yaralanamayız?

- A) Eski fotoğraflar  
B) Aile büyükleri  
C) Diplomalar  
D) Ansiklopediler

- 48) Kutup yıldızı → ▲  
Ağaçların yosun tutan tarafı → ■  
Karıncanın yuvalarının ağzı → ★  
Pusulanın renkli ucu → ●

Yukarıda verilen yön bulma yöntemlerinden hangisi diğerlerinden farklı bir yönü gösterir?

- A) ▲  
B) ■  
C) ★  
D) ●

- 49) ..... icatların temelini oluşturmuş ve ..... yol göstermiştir.

Yukarıdaki cümleyi en iyi tamamlayan sözcükler hangileridir?

- A) istekler - mucitlere  
B) ihtiyaçlar - mucitlere  
C) mucitlere - ihtiyaç  
D) istekler - ihtiyaçlar

- 50) • Saklama koşulları  
• Son kullanma tarihi  
• TSE damgası  
• Ağırlığı



Aldığımız paketli gıda ürünlerinde yukarıdaki bilgilerden kaç tanesi bulunmaktadır?

- A) 1  
B) 2  
C) 3  
D) 4

- 51) Aşağıdakilerden hangisi çocuk haklarından değildir?

- A) Yaşama hakkı  
B) Eğitim hakkı  
C) Oy kullanma hakkı  
D) İsim hakkı

- 52) Aşağıdakilerden hangisi Türk Cumhuriyetlerinden biri değildir?

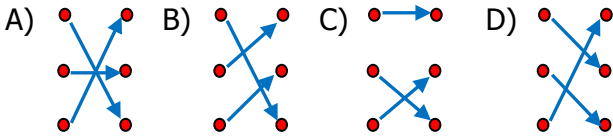
- A) Özbekistan  
B) Moğolistan  
C) Azerbaycan  
D) Kırgızistan

53) Aşağıdaki eşleştirmelerden hangisi yanlıştır?

- A) Yemek yemek → İhtiyaç  
B) İyi resim yapmak → Yetenek  
C) İyi gitar çalmak → İhtiyaç  
D) Yüzmeyi sevmek → İlgi



Yukarıdaki bölgeler ile bölgeleri işgal eden devletlerin doğru eşleştirilişi hangisidir?



55) Aşağıdakilerden hangisi depremde önce alınacak önlemlerdendir?

- A) Evdeki devrilebilecek eşyaları duvara sabitlemek  
B) Kapı ve pencerelerden uzak durmak  
C) Güvenli bir şekilde binayı terk etmek  
D) Paniğe kapılmadan "çömel, kapan, tutun" hareketini yapmak

56) Aşağıdakilerden hangisi teknolojik ürünlerin olumlu etkilerinden biri değildir?

- A) Ulaşım imkanlarının artması  
B) Yeşil alanların artması  
C) Haberleşmenin kolay olması  
D) Zaman tasarrufu sağlaması

57) I. İhtiyaç listesi hazırlar.  
II. Aynı üründen pahalı olanı alır.  
III. İsteklerine öncelik verir.  
IV. Aldığı ürünün satış fişini alır.  
Bilinçli tüketici yukarıdaki davranışların hangilerini yapar?

- A) I. ve II. B) II. ve III.  
C) III. ve IV. D) I. ve IV.

58) Her birey ..... yaşına kadar çocuk kabul edilir.

Yukarıdaki cümlede boş bırakılan yere hangisi gelmelidir?

- A) on sekiz B) on beş  
C) on iki D) on

59) • Doğu komşumuzdur.  
• Başkenti Tahran'dır.  
• Ticari sınır kapımız Gürbulak Sınır Kapısı'dır.

Yukarıda özellikleri verilen ülke hangisidir?

- A) Irak B) Gürcistan  
C) İran D) Nahcivan

60) TBMM, Mustafa Kemal'e "Mareşal" rütbesini hangi savaştan sonra vermiştir?

- A) Sakarya Meydan Muharebesi  
B) Çanakkale Savaşı  
C) Büyük Taaruz  
D) I. İnönü Savaşı



**TÜRKÇE**

1) C

2) B

3) A

4) A

5) C

6) A

7) B

8) D

9) C

10) B

11) D

12) B

13) C

14) A

15) D

**Matematik**

16) C

17) A

18) D

19) B

20) C

21) A

22) D

23) D

24) B

25) A

26) D

27) C

28) B

29) D

30) B

**FEN**

31) B

32) A

33) C

34) D

35) C

36) B

37) A

38) B

39) A

40) C

41) D

42) C

43) B

44) A

45) B

**Sosyal**

46) B

47) D

48) C

49) B

50) D

51) C

52) B

53) C

54) D

55) A

56) B

57) D

58) A

59) C

60) A